

ARI

Bu kitabın her hakkı Ari Yayınlarına aittir. İçindeki şekil, yazı, resim ve grafiklerin yayınevinin izni olmaksızın elektronik, mekanik, fotokopi ya da herhangi bir kayıt sistemi ile çoğaltılması, yayımlanması ve depolanması yasaktır.

PARAGRAF SORU BANKASI

“**BASARI**
HİKÂYESİNİN
İLK PARAGRAFI”



”

6
.SINIF

YAZAR

Mustafa AYGÜN - Nail DEVECİ

GÖRSEL YÖNETMEN

İhsan SONDOĞAN

GRAFİK-TASARIM

Seren ÖNBEY - Meltem YÜKSEL

BASIM YERİ

İhlas Gazetecilik A.Ş.
(0212 454 30 00)


ARI

Osmangazi Mah. Gazi Cad. No:1 Kıraç-Esenyurt/İSTANBUL
Tel: 0212 879 20 60 - info@ariyayin.com
www.ariyayin.com     /ariyayin

Başarı "İçinde"



İSTİKLAL MARŞI

Korkma! Sönmez bu şafaklarda yüzen al sancak,
Sönmeden yurdumun üstünde tüten en son ocak.
O benim milletimin yıldızıdır, parlayacak;
O benimdir, o benim milletimindir ancak.

Çatma, kurban olayım, çehreni ey nazlı hilal!
Kahraman ırkıma bir gül; ne bu şiddet, bu celal?
Sana olmaz dökülen kanlarımız sonra helal...
Hakkıdır, Hakk'a tapan milletimin istiklal.

Ben ezelden beridir hür yaşadım, hür yaşarım,
Hangi çılgın bana zincir vuracakmış? Şaşarım.
Kükremiş sel gibiyim, bendimi çiğner, aşarım,
Yırtarım dağları, enginlere sığmam, taşarım.

Garbın afakını sarmışsa çelik zırhlı duvar,
Benim iman dolu göğsüm gibi serhaddim var.
Ulusun, korkma! Nasıl böyle bir imanı boğar,
"Medeniyet" dediğin tek dişi kalmış canavar?

Arkadaş! Yurduma alçakları uğratma sakın,
Siper et gövdeni, dursun bu hayâsızca akın.
Doğacaktır sana vadettiği günler Hakk'ın,
Kim bilir, belki yarın belki yarından da yakın.

Bastığın yerleri "toprak" diyerek geçme, tanı,
Düşün altındaki binlerce kefensiz yatanı.
Sen şehit oğlusun, incitme, yazıktır atanı,
Verme, dünyaları alsan da bu cennet vatanı.

Kim bu cennet vatanın uğruna olmaz ki feda?
Şüheda fışkıracak, toprağı sıksan şüheda.
Canı, cananı, bütün varımı alsın da Hüda,
Etmesin tek vatanımdan beni dünyada cüda.

Ruhumun senden İlahî, şudur ancak emeli:
Değmesin mabedimin göğsüne namahrem eli.
Bu ezanlar, ki şehadetleri dinin temeli,
Ebedî, yurdumun üstünde benim inlemeli.

O zaman vedile bin secde eder, varsa taşım,
Her cerihamdan, İlahî, boşanıp kanlı yaşım,
Fışkırır ruhumücerret gibi yerden naaşım,
O zaman yükselerek arşa değer belki başım.

Dalgalar sen de şafaklar gibi ey şanlı hilal!
Olsun artık dökülen kanlarımın hepsi helal.
Ebediyen sana yok, ırkıma yok izmihlal.
Hakkıdır, hür yaşamış bayrağımın hürriyet;
Hakkıdır, Hakk'a tapan milletimin istiklal.

Mehmet Âkif ERSOY

İÇİNDEKİLER

1. BÖLÜM

METNİN ANLAM YÖNÜ	5
Metinde Konu	7
Metinde Başlık	21
Metinde Anahtar Sözcük	27
Metinde Ana Fikir (Ana Duygu)	33
Metinde Soru ve Cevap	51
Dinleme Testi.....	65
Kendini Dene	67
MEB Çıkmış Sorular.....	71

2. BÖLÜM

METNİN ANLATIM YÖNÜ	79
Hikâye Unsurları	81
Anlatıcı Türleri	87
Metinde Duyular	93
Metinde Duygu	99
Metinde Karakter	105
Metin Karşılaştırma	111
Metinde Dil ve Anlatım	119
Dinleme Testi.....	127
Kendini Dene	129
MEB Çıkmış Sorular.....	133

3. BÖLÜM

METNİN YAPI YÖNÜ	135
Metinde Yapı ve Metin Oluşturma	137
Metin Tamamlama ve Metne Cümle Ekleme	145
Metni İkiye Bölme	155
Akışı Bozan Cümle	165
Kendini Dene	175
MEB Çıkmış Sorular.....	179

4. BÖLÜM

METİN TÜRLERİ	182
Kendini Dene	189

5. BÖLÜM

SÖZEL MANTIK VE MUHAKEME	193
Kendini Dene	201

6. BÖLÜM

GÖRSEL OKUMA, GRAFİK VE TABLO YORUMLAMA	206
Kendini Dene	213
MEB Çıkmış Sorular.....	217

Cevap Anahtarı	221
-----------------------------	-----

“ KİTABIMIZDA NELER VAR?

1. Bölüm

METNİN ANLAM YÖNÜ

- ›› Metinde Konu
- ›› Metinde Başlık
- ›› Metinde Anahtar Sözcük
- ›› Metinde Ana Fikir (Ana Duygu)
- ›› Metinde Yardımcı Fikir
- ›› Metinde Soru ve Cevap

Bu bölümde toplam **288** soru çözeceksiniz.

BURSLULUK SORU DAĞILIMI							
	2018	2019	2020	2021	2022	2023	2024
Metinde Konu	1	1	-	-	-	2	-
Metinde Başlık	-	-	-	-	-	-	1
Metinde Anahtar Sözcük	-	-	-	-	-	-	1
Metinde Ana Fikir	-	-	-	1	1	-	-
Ana Duygu	1	1	1	1	-	-	-
Metinde Yardımcı Fikir	1	-	6	4	3	5	2
Metinde Soru ve Cevap	-	1	1	1	1	-	-

- Her bölüm başında konuyla ilgili “çıkış soru analizi” size yol gösterecektir.
- Her bölüm başında “çözeceğiniz soru sayısını” göreceksiniz.

METNİN ANLATIM YÖNÜ

- ›› Dikkatli dinle!
- ›› Gerekirse tekrar dinle!

1.



Bu metnin yazarı için aşağıdakilerden hangisi söylenebilir?

- A) Başkalarını mutlu etmek için çaba sarf etmemektedir.
- B) Mutluluğunu sevdiği insanlar ile paylaşmaktan hoşlanmaktadır.
- C) Küçük şeyler ile mutlu olmayı becerebilmektedir.
- D) Olumsuz durumların bile olumlu yanını görmektedir.

2.



Dinlediğiniz bu metnin kahramanı ile ilgili aşağıdakilerden hangisi söylenebilir?

- A) Gayret göstermeden şair olunamayacağını düşünmektedir.
- B) Şair olmasında annesinin isteği etkili olmuştur.
- C) Kıza hissettiği merhamet duygusu, şair yazmasına sebep olmuştur.
- D) Annesi söylemeden önce de şair ile ilgilenmektedir.

3.



Dinlediğiniz bu metindeki kişinin işine karşı hissettği duygu aşağıdakilerden hangisidir?

- A) Bıkkınlık
- B) Sevgi
- C) Önyargı
- D) Vurdumduymazlık

4.



Bu metnin anlatımında aşağıdaki duyuların hangisinden faydalanılmamıştır?

- A) Koklama
- B) Dokunma
- C) Görme
- D) Tatma

- “Metinde Anlam ve Anlatım” bölümlerinin sonunda “Dinleme Testi”ni bulacaksınız.

METİNDE KONU

- ›› Süre tut!
- ›› Onenilen süre: 16 dk.

Geliştirme Testi 1



- Parmak izleri, derinin en dış katmanı olan epidermis ile daha içteki dermis katmanı arasındaki etkileşimle ortaya çıkar. Bunlara ek olarak kan basıncındaki değişimler, kanda bulunan oksijen miktarı, gelişim sürecindeki etkileşimler ve hormonal değerler parmak izinin şekillenmesinde önemli rol oynar. Hatta bir bebeğin anne karnındaki hareketleri bile parmaklarımızdaki izleri değiştirip şekillendirebilir.

Bu metnin konusu aşağıdakilerden hangisidir?

- A) Bebeğin anne karnındaki gelişimi
- B) Parmak yapısında görülen farklılıklar
- C) Parmak izini şekillendiren etmenler
- D) Hormonal değerlerde görülen değişim

- Anadolu’da dağ igdesi olarak bilinen yabani igdenin meyvelerinden değeri bir yağ elde ediliyor. Bu yağ, birçok ilacın yapımında kullanılıyor. Ayrıca yabani igdenin meyveleri C ve E vitaminleri açısından da çok zengin. Dahası da var: Etili kısmın içerdiği bazı maddeler, gıda boyalarının üretiminde kullanılıyor. Bunun dışında yapraklarından çay; meyesinden meyve suyu ve reçel, şekerleme, jöle, kozmetik ürünleri, şampuan; yapraklarından ve meyve atıklarından hayvan yemi elde edilebiliyor.

Bu metinde aşağıdakilerin hangisinden bahsedilmektedir?

- A) Yabani igdeden elde edilen ilaçlardan
- B) Yabani igdenin kullanım alanlarından
- C) Igdenin kullanıldığı temizlik ürünlerinden
- D) Bitkisel besinlerin sağlığa faydalarından

- Afrika kıtasında yaşayan insanların konuştukları diller gibi gysilleri de çeşitlilik gösteriyor. İnsanların giyim biçimleri, yaşadıkları yerin iklimine ve geleneklerine bağlı olarak değişiyor. Örneğin çölide yaşayanlar, güneş ışınlarının bedenlerine ulaşmasını engelleyen ve kolayca hava almayı sağlayan bol gysiller giyiyorlar. Sıcak ve nemli bölgelerde yaşayanlara çok az gysi kullanıyorlar. Serin bölgelerde yaşayanlar da soğuktan korunabilmek için kat kat elbiseler giyiyorlar.

Bu metinde aşağıdakilerden hangisinden bahsedilmektedir?

- A) Afrika’daki kıyafet çeşitliliğinin nedenlerinden
- B) Afrika’daki sosyal yaşamdan
- C) Kıyafetlerde kullanılan matzemelerden
- D) Afrika’nın geleneksel kıyafetlerinden

- Çoşmak, özel bir malzeme, pist ya da araç gerektirmeden için en az masraflı sporlardan biridir. Rahat koşabilmek için öncelikle gereken şey rahat bir spor ayakkabısı. Eğer hava güneşliyse başınıza ve yüzünüze güneşten korumak için bir şapka takmanız yeterli olacaktır. Benzer biçimde, soğuk havalarda da başınıza giyeceğiniz bir bere ya da şapka ısı kaybetmenizi engelleyecektir. Rahat ve ince gysiller giymek, koşarken kendinizi daha rahat hissetmenize yardımcı olacaktır. Hava soğuk da olsa koşarken bir süre sonra ısınacağınız için kalın ve ağır gysiller koşu için pek uygun sayılmaz.

Bu metinde ele alınan konu aşağıdakilerden hangisidir?

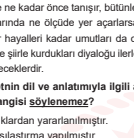
- A) Koşucu olmak için yapılması gerekenler
- B) Koşu sporunun riskleri
- C) Koşu yaparken uygun kıyafet tercihi
- D) Sakatlıkları önlemek için alınan tedbirler

- “Başlangıç, Geliştirme ve Değerlendirme” şeklinde seviyelendirilmiş testlere yer verilmektedir.
- “Eğlenceli ve bilgilendirici metinler” sayesinde sıkılmadan konuları öğreneceksiniz.
- Bölüm sonlarında “Kendini Dene” testleriyle konuyu kavrama düzeyinizi göreceksiniz.

METNİN ANLATIM YÖNÜ

- ›› Dikkatli dinle!
- ›› Gerekirse tekrar dinle!


1.



Bu metnin yazarı için aşağıdakilerden hangisi söylenebilir?

- A) Başkalarını mutlu etmek için çaba sarf etmemektedir.
- B) Mutluluğunu sevdiği insanlar ile paylaşmaktan hoşlanmaktadır.
- C) Küçük şeyler ile mutlu olmayı becerebilmektedir.
- D) Olumsuz durumların bile olumlu yanını görmektedir.

2.



Dinlediğiniz bu metnin kahramanı ile ilgili aşağıdakilerden hangisi söylenebilir?

- A) Gayret göstermeden şair olunamayacağını düşünmektedir.
- B) Şair olmasında annesinin isteği etkili olmuştur.
- C) Kıza hissettiği merhamet duygusu, şair yazmasına sebep olmuştur.
- D) Annesi söylemeden önce de şair ile ilgilenmektedir.

- “MEB Çıkış Sorular” testi ile MEB’in tarzını yakından göreceksiniz.



ÖN SÖZ

Sevgili Öğrenciler,

Kitabımızı hazırlarken “**İyi bir paragraf kitabında neler olmalı?**” sorusunu sorarak işe başladık. Bu soruyu yılların tecrübesiyle cevaplandırdık. Elinizde tuttuğunuz Arı Paragraf Soru Bankası adlı eser, işte tam da bu sorunun cevabıdır. Bir “**öğretmen hassasiyetiyle**” hazırlanmış eserimizde güncel, kaliteli, eğlenceli, dikkat çekici, teknolojiye ve yeni nesle ayak uydurabilen metinler bulacaksınız.

6. Sınıf Arı Paragraf Soru Bankası adlı eserimizin içinde neler var?

1. Kitabımız, altı bölümden oluşmaktadır.
2. Her bölüm kendi içinde alt başlıklara ayrılmıştır.
3. Testlerimiz kendi içinde “**Başlangıç Testi**”, “**Geliştirme Testi**” ve “**Değerlendirme Testi**” şeklinde seviyelendirilmiştir.
4. Her bölümün sonunda “**Kendini Dene**” testi yer almaktadır.
5. MEB’in yeniliklerine uygun olarak “**Dinleme Testi**”ne yer verilmiştir.
6. “**Çıkış Sorular Testi**”yle MEB’in konuyla ilgili sorduğu sorulara yer verilmiştir.

Türkçe dersinin hedefleri; okuyabilen, eleştiren, yorumlayan, okuduğunu anlayan, anladığını çözümleyen bireyler yetiştirmektir. Bu hedeflere, bu kaynakla çok daha kolay ulaşacaksınız.

Bu çalışmamız elinizden düşürmeyeceğiniz “**olmazsa olmaz**” bir kaynak olacaktır.

Hepinize başarılar dileriz.

Mustafa AYGÜN
(Eğitimci - Yazar)

Nail DEVECİ
(Eğitimci - Yazar)

1. Bölüm

▶ METNİN ANLAM YÖNÜ

- ▶▶ Metinde Konu
- ▶▶ Metinde Başlık
- ▶▶ Metinde Anahtar Sözcük
- ▶▶ Metinde Ana Fikir (Ana Duygu)
- ▶▶ Metinde Yardımcı Fikir
- ▶▶ Metinde Soru ve Cevap

Bu bölümde toplam **288** soru çözeceksiniz.

BURSLULUK SORU DAĞILIMI

	2018	2019	2020	2021	2022	2023	2024
Metinde Konu	1	1	-	-	-	2	-
Metinde Başlık	-	-	-	-	-	-	1
Metinde Anahtar Sözcük	-	-	-	-	-	-	1
Metinde Ana Fikir	-	-	-	1	1	-	-
Ana Duygu	1	1	1	1	-	-	-
Metinde Yardımcı Fikir	1	-	6	4	3	5	2
Metinde Soru ve Cevap	-	1	1	1	1	-	-



✓ Süre tutma!

✓ Sorunun mantığını kavra!



1. Buz örtüsüyle kaplı Antarktika'da bile bir trafik var. Burada araştırma kamplarına malzeme taşıyan araştırmacıları getirip götüreren ya da araştırma uçuşları yapan uçaklar ve helikopterleri sık sık görmek mümkündür. Ayrıca, turizm şirketleri de buraya turistik turlar düzenlemeye başladı. Her yıl on binden fazla turist, uçaklarla Antarktika kıtasını görmeye geliyor. Bilim adamları ve çevreciler, Antarktika ve çevresinde uçuş yapan hava araçlarının sayısının artmasının, bölgedeki canlıların yaşamlarını etkileyebileceğini düşünüyorlar.

Bu metnin konusu aşağıdakilerden hangisidir?

- A) Antarktika'da yapılan araştırmalar
- B) Antarktika'da trafik yoğunluğu
- C) Kutup bölgelerinde canlı çeşitliliği
- D) Hava araçlarının gelişimi

2. Gülün yaprakları ve tomurcukları; böceklerin, tırtılların, örümceklerin, küflerin en sevdiği yiyeceklerdendir. Örneğin gül küllenmesi denen hastalığa bir küf neden olur. Hastalanan yaprakların parlaklığı kaybolur, kenarlarından yukarıya doğru kıvrımlar oluşur, yapraklar esnekliklerini kaybeder. Gül bitleri de gül bitkisinin taze dallarını ve çiçek sapsularını yer. Onları gül bitkisinin üzerinde koloniler hâlinde görebilirsiniz. Gül bitleriyle savaşmanın en iyi yolu baharda yağmurlar başlamadan önce ilaçlama yapmaktır.

Bu metinde aşağıdakilerden hangisi anlatılmaktadır?

- A) Güle zarar veren canlılar
- B) Gül yetiştiriciliğinin incelikleri
- C) Bitkilere yuva yapan canlılar
- D) Süs bitkilerinin tarihi

3. Cildimiz, üç ana tabakadan oluşuyor: epidermis, dermis, ve hipodermis. En derinde yer alan hipodermis tabakası, depoladığı yağ sayesinde vücudumuzu sıcak tutan ve darbelerden koruyan tabakadır. Hipodermisin üzerinde bulunan dermis tabakası kolajen adı verilen, cilde dayanıklılık ve esneklik kazandıran proteinler içerir. Epidermis tabakası ise cildin dış düzeyini kaplar ve cilt bakım ürünlerinin hedef bölgesidir.

Bu metnin konusu aşağıdakilerden hangisidir?

- A) Cildi korumak için yapılacaklar
- B) Cildimizi tehdit eden etmenler
- C) Cildin katmanları
- D) Cilt sağlığı ve hastalıklar

4. Düzenli yapılan fiziksel aktivitenin sağlıklı yaşam için gerekli olduğunu biliriz. Bilimsel araştırmalar, fiziksel aktivitenin özellikle kalp sağlığını korumada, kilo dengesini sağlamada, kas ve kemiklerin güçlenmesinde, obezite, diyabet, kanser ve kolesterol gibi hastalıkların riskinin azaltılmasında etkili olduğunu gösteriyor. Bunun yanı sıra depresyon ve kaygı bozukluğu gibi psikolojik rahatsızlıkların azalmasını sağladığı ve oluşmasını engellediği de biliniyor.

Bu metinde aşağıdakilerin hangisinden bahsedilmektedir?

- A) Spor esnasında oluşan yaralanmalardan
- B) Spor dalı seçiminde dikkat edileceklerden
- C) Verimli spor yapmanın koşullarından
- D) Düzenli spor yapmanın faydalarından



✓ Süre tut!

✓ Önerilen süre: 16 dk.



1. Parmak izleri, derinin en dış katmanı olan epidermis ile daha içteki dermis katmanı arasındaki etkileşimle ortaya çıkar. Bunlara ek olarak kan basıncındaki değişimler, kanda bulunan oksijen miktarı, gelişim sürecindeki etkileşimler ve hormonal değerler parmak izinin şekillenmesinde önemli rol oynar. Hatta bir bebeğin anne karnındaki hareketleri bile parmaklarımızdaki izleri değiştirip şekillendirebiliyor.

Bu metnin konusu aşağıdakilerden hangisidir?

- A) Bebeğin anne karnındaki gelişimi
- B) Parmak yapısında görülen farklılıklar
- C) Parmak izini şekillendiren etmenler
- D) Hormonal değerlerde görülen değişim

2. Afrika kıtasında yaşayan insanların konuştukları diller gibi giysileri de çeşitlilik gösteriyor. İnsanların giyiniş biçimleri, yaşadıkları yerin iklimine ve geleneklerine bağlı olarak değişiyor. Örneğin çölde yaşayanlar, güneş ışınlarının bedenlerine ulaşmasını engelleyen ve kolayca hava almayı sağlayan bol giysiler giyorlar. Sıcak ve nemli bölgelerde yaşayanlar çok az giysi kullanıyorlar. Serin bölgelerde yaşayanlar da soğuklardan korunabilmek için kat kat elbiseler giyorlar.

Bu metinde aşağıdakilerden hangisinden bahsedilmektedir?

- A) Afrika'daki kıyafet çeşitliliğinin nedenlerinden
- B) Afrika'daki sosyal yaşamdan
- C) Kıyafetlerde kullanılan malzemelerden
- D) Afrika'nın geleneksel kıyafetlerinden

3. Anadolu'da dağ iğdesi olarak bilinen yabancı iğdenin meyvelerinden değerli bir yağ elde ediliyor. Bu yağ, birçok ilacın yapımında kullanılıyor. Ayrıca yabancı iğdenin meyveleri C ve E vitaminleri açısından da çok zengin. Dahası da var: Etli kısmın içerdiği bazı maddeler, gıda boyalarının üretiminde kullanılıyor. Bunun dışında yapraklarından çay; meyvesinden meyve suyu ve reçel, şekerleme, jöle, kozmetik ürünleri, şampuan; yapraklarından ve meyve atıklarından hayvan yemi elde edilebiliyor.

Bu metinde aşağıdakilerin hangisinden bahsedilmektedir?

- A) Yabancı iğdeden elde edilen ilaçlardan
- B) Yabancı iğdenin kullanım alanlarından
- C) İğdenin kullanıldığı temizlik ürünlerinden
- D) Bitkisel besinlerin sağlığa faydalarından

4. Koşmak; özel bir malzeme, pist ya da araç gerektirmediği için en az masraflı sporlardan biridir. Rahat koşabilmek için öncelikle gereken şey rahat bir spor ayakkabısı. Eğer hava güneşliyse başınızı ve yüzünüzü güneşten korumak için bir şapka takmanız yeterli olacaktır. Benzer biçimde, soğuk havalarda da başınıza giyeceğiniz bir bere ya da şapka ısı kaybetmenizi engelleyecektir. Rahat ve ince giysiler giymek, koşarken kendinizi daha rahat hissetmenize yardımcı olacaktır. Hava soğuk da olsa koşarken bir süre sonra ısınacağınız için kalın ve ağır giysiler koşu için pek uygun sayılmaz.

Bu metinde ele alınan konu aşağıdakilerden hangisidir?

- A) Koşucu olmak için yapılması gerekenler
- B) Koşu sporunun riskleri
- C) Koşu yaparken uygun kıyafet tercihi
- D) Sakatlıkları önlemek için alınan tedbirler



Süre tut!



Önerilen süre: 12 dk.



1. İnsanlar, çok eski çağlardan beri doğal maddelerden yapıştırıcı maddeler üretmişlerdir. 200 bin sene önce yaşayan insanlar, huş ağacının kabuklarını soyuyor ve bunları toprağa gömerek toprağın üstünde ateş yakıp eritiyorlarmış. Eriyen bu madde koyulaşır sıvılaşır ve yapışkan bir maddeye dönüşüyormuş. Huş ağacı zifti olarak bilinen bu madde, ilk doğal yapıştırıcıydı. Bu yapıştırıcıdan yıllar sonra insanlar, siyah renkli bir kaya keşfedip bunu ısıtarak eritmişler ve bitümen adlı bir madde elde etmişler. Bu madde ile topraktan yaptıkları eşyaları yapıştırmışlar.

Bu metinde aşağıdakilerin hangisinden söz edilmektedir?

- A) İlk doğal yapıştırıcılardan
- B) Kayaların fiziksel özelliklerinden
- C) Bitkilerden yapılan ilaçlardan
- D) Deniz taşıtlarının tarihinden

2. Spor egzersizleri, sağlıklı ve formda kalmanın bir yolu olarak görülür. Ancak uzun zamandır sporun disiplin, sorumluluk, özgüven, takım çalışması gibi konularda da etkili olduğu biliniyor. Egzersizlerin beyne giden kan akışını artırdığı, sinirler arasında daha fazla bağlantı kurulmasına yardımcı olduğu böylece dikkat ve konsantrasyonun artmasına, hafızanın güçlenmesine, yaratıcılık ve problem çözme becerilerinin geliştirilmesine katkı sağladığı da biliniyor.

Aşağıdakilerden hangisi bu metnin konusunu en iyi ifade eder?

- A) Egzersiz türleri
- B) Uygun egzersiz süresi
- C) Egzersizlerin faydaları
- D) Spor branşları ve faydaları

3. Eski çağlarda Çinliler, belli maddelerin üstüne kurşun parçalarıyla bir şeyler yazıp çiziyordu. Eski Mısır'da ise saz, bambu, papirüs gibi bitkilerin kamışlarına sıvı kurşun dökülerek kalem yapılıyordu. 1500'lerin başında İngiltere'nin Cumbria şehrinde büyük bir grafit yatağı keşfedildi. O dönemlerde kalemler, bugünkü gibi değildi. Kalem olarak kullanılmak üzere grafit bloklarını çubuklar hâlinde kesiyor ve uçlarını keskin aletlerle yontuyorlardı. O zamanlar kimya çok ilerlemediği için kullandıkları şeyin kurşun olduğunu sanıyorlardı.

Bu metinde aşağıdakilerin hangisinden bahsedilmektedir?

- A) Kurşun kalemin tarihinden
- B) Kalem yerine kullanılan nesnelere
- C) Eski Mısır Medeniyeti'nde yazıdan
- D) Kalem üretiminde kullanılan maddelerden

4. Pusula gibi yön bulma aletlerinin henüz icat edilmediği eski zamanlarda denizciler, sonsuz maviliklerde yönlerini ve nereye gideceklerini bulmak için farklı yöntemlere başvuruyorlardı. Yıldızların konumlarını, okyanus dalgalarının hareketlerini ve dalgaların biçimlerini, adaların varlığı nedeniyle hava koşullarında ve denizde oluşan değişiklikleri, rüzgârları ve kuşların uçuş yollarını gözlemleyerek bunları yön belirlemede kullanıyorlardı. Uyguladıkları bu yöntemler, ara sıra denizcileri yanıltsa da büyük oranda işe yarayıyordu.

Bu metinde aşağıdakilerin hangisinden bahsedilmektedir?

- A) Denizlerde karşılaşılan tehlikelerden
- B) Eski denizcilerin yön bulma yöntemlerinden
- C) Eski çağlarda deniz ticaretinden
- D) Okyanuslarda zorlu hava koşullarından



- ✓ Süre tutma!
- ✓ Sorunun mantığını kavra!



1. Şişe dediğimizde aklımıza gelen ilk malzeme camdır. Bin yıllar öncesinden beri içine konan sıvının miktarını, temizliğini ya da rengini göstermesi açısından saydam renkli cam şişelerin kullanılması, çok önemli oldu. Bugün bile su, maden suyu gibi içecekler; saflığı, temizliği gösterecek biçimde saydam şişelere doldurulur. Güneş ışığından zarar görebilecek içecekler ve bazı ilaçlar ise ışık geçirmeyen koyu renkli şişelerde saklanır.

Bu metinde vurgulanan düşünce aşağıdakilerden hangisidir?

- A) Şişenin rengi içerisinde saklanacak maddeye göre belirlenir.
- B) Şişe üretiminin artması ile gıdalar sağlıklı korunmaya başlandı.
- C) Güneş ışığının yiyecekler üzerinde bazı olumsuz etkileri vardır.
- D) Bazı yiyeceklerin saklanmasında cam yerine farklı maddeler kullanılır.

2. Çıkarma işareti, Eski Mısır ve Antik Yunan'da yaşamış matematikçilere kadar dayanır. Toplama işareti ise ilk kez 1489 yılında Johannes Widmann tarafından yazılan bir metinde geçmiştir. Çarpma işlemini belirten "x" işareti, ilk kez 1631 yılında İngiliz matematikçi William Oughtred tarafından kullanılmıştır. Eşittir işareti, 1557 yılında ilk kez matematikçi Robert Recorde tarafından kullanılmıştır.

Bu metnin ana fikri aşağıdakilerden hangisidir?

- A) Matematik sembolleri farklı zamanlarda farklı kişilerce bulunmuştur.
- B) Matematiğin gelişimine en büyük katkısı Eski Mısırlılar vermiştir.
- C) Matematik işaretleri, her millette farklı şekillerle ifade edilmiştir.
- D) Matematiğin gelişmesinde bulunan semboller, önemli bir rol oynamıştır.

3. Köpekler, yaşam alanlarının yok olması ve genetik hastalıklar gibi pek çok sorunla baş etmek zorundadır. Köpeklere yardım etmek için yapılabilecek belki de en iyi şey, köpek sahiplerinin sorumluluklarını tam olarak yerine getirmeleridir. Köpekler de birçok yönden biz insanlara benzer. Kendilerine uygun besinlerle beslenir, yeteri kadar bedensel egzersiz yapar ve düzenli olarak doktor kontrolünden geçerlerse sağlıklı olur. Köpekler, dostlarının sevgi ve ilgisine de gereksinim duyar.

Bu metinde asıl anlatılmak istenen aşağıdakilerden hangisidir?

- A) Köpeklerin bazı türleri evde beslemek için uygun değildir.
- B) Köpekler, hassas duyuları nedeniyle bazı afetlerde kullanılmaktadır.
- C) Köpekler, sağlıklı bir yaşam sürebilmek için insanlara ihtiyaç duyar.
- D) Köpekler, tarih boyunca insanların yanında en uzun süre kalan canlılardır.

4. Günümüzde en fazla tüketilen içeceklerden bir tanesi, sıcak çikolatadır. En soğuk iklimlerden en sıcak iklimlere kadar sevilerek tüketilen bu içeceği, her millet kendi içecek kültürüne göre hazırlıyor. Amerikalılar, içine marşmelov eritiyor; Faslılar ise portakal ve baharat ile birlikte tüketiyorlar. Meksika'da vanilya ve tarçın ile tatlandırılırken İspanyollar "churros" adını verdikleri çıtır hamur tatlısı ile tüketmeyi tercih ediyorlar.

Bu metinde vurgulanan düşünce aşağıdakilerden hangisidir?

- A) Çikolatada kullanılan katkı maddeleri, çikolatanın tadını bozmaktadır.
- B) Çikolata, dünya genelinde manevi değeri olan bir içecektir.
- C) Sıcak ülkeler, çikolatayı baharatlar ile birlikte tüketmektedir.
- D) Çikolatayı her millet, kendi damak zevkine göre tüketmektedir.



Süre tut!



Önerilen süre: 16 dk.



1. Bilinen en eski tüylü hayvan kuş değil dinozorlardı. Bazı dinozorlar, sıcak havayı derinlerine hapsedmek için bu tüyleri kullanırlarken bazıları avcı hayvanlardan saklanmak veya avlarını pusuya düşürmek için kamuflaj desenli tüylerini kullanıyordu. Bazı türler, eşlerinin dikkatini çekmek ya da rakiplerini uyarmak için bu tüyleri kullanıyordu. Bazen de tüyler, bir dinozorun vücudunun şeklini gizler ve avcıların kafasını karıştırırdı.

Bu metinde vurgulanan düşünce aşağıdakilerden hangisidir?

- A) Dinozorlar, tüylerini farklı amaçlar için kullanmıştır.
- B) Dinozorların tüy yapıları, zaman içinde değişmiştir.
- C) Dinozorların tüyleri, boyutları büyüdükçe kalınlaşmaktadır.
- D) Pek çok canlı, düşmanlarından korunmak için gizlenir.

2. Seksek, sokakta her çocuğun bildiği oyundur. Biz sekerek oynadığımız için seksek deriz. Ama bu oyun farklı dillerde farklı kelimeler ile ifade edilir. Sekseği Çinliler de bilir Almanlar da. Hatta eski Romalılar bile... Seksek, Roma askerinin spor yaptığı bir egzersizdi. Romalı çocuklar, askerlerden görmüş ve oradan tüm Roma'ya yayılmış. Bugün dünya üzerinde hangi milletten insana sokak oyunları deseniz akla gelen ilk oyun seksek olur.

Bu metnin ana fikri aşağıdakilerden hangisidir?

- A) Romalılar, pek çok sokak oyununa öncülük etmiştir.
- B) Sokak oyunları, askerî çalışmalarda ortaya çıkmıştır.
- C) Seksek oyununun kuralları, yüzyıllar boyunca değişmemiştir.
- D) Seksek, pek çok milletçe bilinen yaygın bir oyundur.

3. Eylül 1666 yılında İngiltere'nin başkenti Londra'da büyük bir yangın yaşandı. Yangın, bütün şehri yakıp ilerlediğinde bazı mahallelerin yanmadığı veya çok az hasar aldığı görüldü. Bu mahallelerdeki evler, tuğladan yapılmıştı. Tuğlanın "yanmaz" özelliği yangının büyümesini engellemiş ve şehrin bir bölümünün kurtulmasını sağlamıştı. Bu tarihten sonra Londra'da bir kanun yayımlanarak tuğla kullanımı yaygınlaştı. Bu dayanıklı yapı malzemesi, Londra'dan tüm İngiltere'ye hatta Avrupa'ya yayıldı.

Bu metinde asıl anlatılmak istenen aşağıdakilerden hangisidir?

- A) Yüzyıllardır Avrupa'da en sık görülen doğal felaket yangınlardır.
- B) Tuğlanın ateşe dayanıklı yapısı, yapılarda kullanımını artırmıştır.
- C) Tarihte kullanılan en eski yapı malzemesi tuğladır.
- D) Tuğla, dayanıklılığının yanında güzel görünüşüyle de sıkça tercih edilmiştir.

4. Çalar saatin henüz icat edilmediği binlerce yıl önce suyu, sabah alarmı olarak kullanmak için belirli bir su seviyesine ulaşıldığında yüksek bir ses çıkaran bir mekanizma kurulmuştu. Hristiyanlığın yayıldığı dönemlerde ise çan kuleleri, insanları uyandırma görevini üstlenmişti. Sanayi çağının başlamasıyla birlikte fabrikalar, genellikle yakınlarda yaşayan kendi işçilerini fabrika düdüğü sayesinde uyandırmıyordu. Binanın tepesindeki bu mekanizma buhar sayesinde insanlara alarm oluyordu.

Bu metinde vurgulanan düşünce aşağıdakilerden hangisidir?

- A) İş kollarının artması, çalar saate olan ihtiyacı artırdı.
- B) Mekanik saatlerin gelişmesinde Sanayi Devrimi'nin rolü vardır.
- C) Çalar saat, icat olmadan önce insanlar farklı yöntemler ile uyandırmıyordu.
- D) Çan kuleleri, insanlara ibadet saatlerini göstermek için yapılmıştır.



Süre tut!



Önerilen süre: 12 dk.



1. Sakız çiğnemek, kalori harcamak isteyen kişiler için faydalıdır. Yapılan bazı çalışmalar, sakız çiğnemenin iştahı azaltabileceğini ve bu durumun aşırı yemek yemeyi engelleyerek kilo vermeyi sağlayacağını gösteriyor. Başka bir araştırmada, öğünler arasında sakız çiğnemenin açlık hissini azalttığı ve yüksek karbonhidratlı atıştırma isteğini bitirdiği fark edilmiştir. Ayrıca yürürken sakız çiğnemenin daha fazla kalori yakmaya katkı sağlayabileceği ilgili kanıtlar bulunmaktadır.

Bu metinde vurgulanan düşünce aşağıdakilerden hangisidir?

- A) Sakız çiğnemek, hücre yenilenmesinde önemli rol oynar.
- B) Sakız çiğnemenin kilo vermeyi destekleyen yönleri bulunmaktadır.
- C) Uzun süre sakız çiğnemek, çene eklemlerimize zarar verebilir.
- D) Düzenli çiğnenen sakız, başka aktivitelere gerek duyulmadan kilo verdirir.

2. Araştırmacıların şempanzelerin dalları avlanmak amacıyla kullandıklarını keşfetmesiyle insanların alet kullanma becerisine sahip olan tek tür olmadığı anlaşıldı. Sadece şempanzeler değil diğer hayvanlar da araştırma konusu oldu ve sonucunda kargaların da alet kullanma ve yapabilme becerisine sahip olduğu kanıtlandı. Kargagillerden birçok canlı da alet kullanabiliyor hatta bazı kargalar, bir dalı yapraktan temizlemek için dikenlerden kanca yapmaya kadar uzanan bir alet yapma yeteneğine sahiptir.

Bu metnin ana fikri aşağıdakilerden hangisidir?

- A) İnsanların dışında bazı hayvanlar da alet yapabilmektedir.
- B) Kargaların zekâ düzeyi, diğer canlılara göre daha yüksektir.
- C) Hayvanlar, aletlerin nasıl yapıldığını insanları gözleyerek öğrenirler.
- D) Alet yapımını öğrenen canlılar, doğada daha kolay yiyecek bulur.

3. Uçak rotaları, genellikle karalar üzerinden oluşturulur. Çoğu uçuş, okyanus üzerinde harcanan süreyi en aza indirecek şekilde planlanır. Fırtınaların karadan ziyade su üzerinde meydana gelme olasılığı daha yüksektir. Okyanusun üzerindeki hava genellikle çalkantılıdır ve bazı bölgelerinde çok sayıda fırtına vardır bu nedenle okyanuslar uçağın uçması için güvenli bir ortam değildir. Ayrıca okyanus gibi geniş bir su kütleinin üzerinde fırtına esnasında acil iniş için güvenli bir yer yoktur.

Bu metinde asıl anlatılmak istenen aşağıdakilerden hangisidir?

- A) Uçakların rotalarının belirlenmesinde uçuş maliyetleri belirleyicidir.
- B) Kaza oranı düşük olan uçaklar, en güvenilir taşıtlardır.
- C) Uçakların rotası, güvenlik açısından genellikle karalar üzerinden planlanır.
- D) Teknolojinin gelişmesi, uçaklarda da büyük değişimlere yol açmıştır.

4. Mermer sanatçısının yeteneği, eserine bakıldığı zaman anlaşılır. İnsan elinin en ince ayrıntılarını, damarlarını, ciltteki kırışıkları, tırnakların ayrıntılarını gerçek dokulara benzeten; bütün ayrıntıları heykele yansıtabilen bir sanatçının yeteneğinden şüphe edilebilir mi? Baştaki bir ipek şalın ve şalın altındaki yüz silüetinin ayrıntılarıyla görülebileceği bir heykel yapan sanatçı için yetenekli denmez de ne denir?

Bu metinde vurgulanan düşünce aşağıdakilerden hangisidir?

- A) Başarılı olmak için yetenek yetmez çalışma da gereklidir.
- B) Kullanılan malzemenin kalitesi eserin değerini artırır.
- C) Yetenekli sanatçılar, iyi bir eğitimden geçerek kaliteli eserler verebilirler.
- D) Heykele yansıtılan detaylar, sanatçının yetenekli olduğunu gösterir.



METNİN ANLAM YÖNÜ

Dinleme Testi



- ✓ Dikkatli dinle!
- ✓ Gerekirse tekrar dinle!



1.



Dinlediğiniz bu metnin başlığı aşağıdakilerden hangisi olabilir?

- A) Bitkilerin Birbiriyle Rekabeti
- B) Bitkilerin Su İhtiyacı
- C) Canlılarda Beslenme Türleri
- D) Bitkiler Arası İletişim

2.



Dinlediğiniz bu metnin konusu aşağıdakilerden hangisidir?

- A) Simit üretiminin tarihi
- B) Evliya Çelebi ve eserleri
- C) Seyahatnâme’de simit
- D) Simit üretimindeki değişimler

3.



Dinlediğiniz bu metnin ana fikri aşağıdakilerden hangisidir?

- A) Her maddenin geri dönüşümü yapıları sebebiyle mümkün değildir.
- B) Geri dönüşüme harcanan enerjinin çok daha azı ile yeni ürünler üretilebilir.
- C) Kâğıt dönüştürüldüğünde kalitesi düştüğünden tekrar kullanılamaz.
- D) Geri dönüştürülen maddeler hem hammadde hem de enerji tasarrufu sağlar.

4.



Dinlediğiniz bu metin aşağıdaki soruların hangisine verilmiş bir cevaptır?

- A) Uzayda astronotlar, hangi tehlikeler ile karşılaşır?
- B) Astronot olmak için hangi özelliklere sahip olmak gerekir?
- C) Astronotlar, uzay üssünde hangi görevleri yerine getirirler?
- D) Uzay koşulları, astronot sağlığını nasıl etkiler?



- ✓ Süre tut!
- ✓ MEB, böyle soruyor.



1. Büyük nalburunlu yarasalar, kalabalık koloniler oluşturur. Bir kolonide binlerce nalburunlu yarsa bulunabilir. Toplu bir şekilde yaşamak, tehlikelere karşı korunmalarına yardımcı olur. Avrupa eşek arıları da koloni hâlinde yaşayan hayvanlardır. Bir kolonide yaklaşık 500 eşek arısı bulunabilir. Ağaç kabuklarını kemirip çiğneyerek hep birlikte yaşayacakları yuvayı inşa eder. Büyük flamingolar, binlerce bireyin bir arada bulunduğu koloniler hâlinde yaşar. Bu sayede hem avcı hayvanlardan korunur hem de daha hızlı çoğalabilir.

Bu metnin ana fikri aşağıdakilerden hangisidir?

- A) Koloni hâlinde yaşamak, canlılara pek çok açıdan fayda sağlar.
- B) Birlikte hareket eden canlılar, genellikle besin sıkıntısı çeker.
- C) Koloni içindeki uyumsuzluklar, koloninin dağılmasına neden olur.
- D) Kara canlıları tek başlarına yaşarken denizlerde koloni hâlinde yaşam yaygındır.

2. Kazlar, kuğulardan küçük ördeklerden ise büyük canlılardır. Kazların ayakları, kuğu ve ördeklere göre daha ileridedir ve bu da onların karada daha hızlı ve rahat hareket etmelerini sağlar. Fakat ördek ve kuğunun vücutları suda yaşamaya daha elverişlidir. Ayrıca beslenme şekilleri de bu canlılara göre oldukça farklıdır. Ördekler etçil de beslenebilirken kazlar ot, tohum ve süs bitkileri tüketir.

Bu metnin konusu aşağıdakilerden hangisidir?

- A) Hem karada hem suda yaşayan canlılar
- B) Perde ayaklı canlılarda beslenme
- C) Kazların ördek ve kuğulardan farkı
- D) Otçul beslenen kuşlar

3. Antibiyotikler, bakteriyel hastalıkları tedavi etmek için kullanılan ilaçlardır. Bunlar, bakterilerin büyümesini durdurarak veya bakterileri öldürerek hastalığın kontrol altına alınmasına yardımcı olur. Ancak antibiyotikler sadece bakteriyel hastalıklara karşı etkilidir, virüs hastalıklarını tedavi etmez. Antibiyotikler, vücuda çeşitli şekillerde etki eder. Bakteriyel hücrelerin duvarlarını zayıflatarak veya hücre içi işlevlerini bozarak bakterilerin üremesini engeller.

Bu metinde,

- I. Antibiyotikler, ne işe yarar?
- II. Kullanılacak antibiyotik miktarı neye göre belirlenir?
- III. Antibiyotiklerin insanlara zararı var mıdır?
- IV. Antibiyotikler, hangi hastalıkların tedavisinde kullanılır?

numaralanmış sorulardan hangilerinin cevabı yoktur?

- A) I ve III
- B) II ve III
- C) II ve IV
- D) I ve IV

4. Osmanlı'da baykuşun yeri çok ayrıdır. Türk mimarisinin en önemli ismi olan Mimar Sinan, baykuşları inşa ettiği camilerde figür olarak kullanmıştır. Dikkatli gözlerden kaçmayan bu detayın sebebi ise eski Türk, Mısır ve Yunan medeniyetinde baykuşun bilge olarak adlandırılmasıdır. Ayrıca Mimar Sinan Üniversitesinin logosu da baykuştur.

Bu metne verilebilecek en uygun başlık aşağıdakilerden hangisidir?

- A) Mimar Sinan ve Baykuş Motifi
- B) Eski Türklerde Baykuş
- C) Baykuşların Faydaları
- D) Osmanlı Mimarisinde Kuşlar



- ✓ Süre tut!
- ✓ MEB, böyle soruyor.



1. Doğup büyüdüğü coğrafya etkiler insanın kişiliğini. İnsanın macerası biraz da yaşadığı yerin macerasıdır. İki şehrin, şehir ile kasabanın, köy ile mezranın kültürleri arasındaki fark; doğrudan yansır insanın benliğine. Hatta bir şehrin iki ayrı semtinde yaşayan insanlar bile farklı kişilikler kazanır birbirinden.

Bu metne göre,

- Şehirlerin kendine has kültür özellikleri vardır.
- İnsanın davranışları ve alışkanlıkları ait olduğu kültüre göre şekillenir.
- Yerleşim yerlerinin sınırlarının belirlenmesinde kültür etkilidir.

yargılarından hangileri çıkarılabilir?

- A) Yalnız 1 B) Yalnız 2
C) 1 ve 2 D) 1 ve 3

► 2024 BURSLULUK

2. Rasim Bey, yeni aldığı tabloyu duvara asmak ister. Evde çivi bulur ama çekiç yoktur. Komşusuna gidip ondan çekiç istemeye karar verir. Ancak o anda şüpheye düşer. “Ya vermek istemezse? Zaten dün de beni soğuk bir selamla geçiştirdi. Belki bir acelesi vardı, belki de bilerek yaptı. Bilmiyorum. Birisi benden ödünç bir şey istese ben verirdim. O niye vermiyor? Üstüne üstlük sırf bir çekici var diye ona muhtacım sanıyor.” Öfkeyle kalkıp karşı daireye gider, kapıyı çalar. Komşusu güler yüzle kapıyı açar ama daha “Merhaba.” bile diyemeden Rasim Bey ona bağırır: Al çekicini, başına çal! Komşusu, onun bu davranışına anlam vermeye çalışırken Rasim Bey kendi dairesine döner ve kapıyı hızla çarpar.

Bu metnin ana düşüncesi aşağıdakilerden hangisidir?

- A) Kişiler hakkında yanlış ve yersiz düşüncelere kapılmak ilişkileri olumsuz etkiler.
B) Komşularıyla yardımlaşma içinde olanlar huzurlu bir yaşam sürer.
C) Kendisinden başkasını düşünmeyenler, hiçbir zaman kalıcı dostluklar kuramaz.
D) Başkasının iyiliğini istemeyenler hayatları boyunca mutlu olamaz.

► 2024 BURSLULUK

3. Avustralyalı araştırmacılar, Antarktika'nın çok soğuk ve su miktarı çok az olan bir bölgesinde yeni bir bakteri türü keşfetti. Bu bakterinin, olumsuz yaşam koşulları karşısında, şimdiye kadar bilinen tüm bakterilere göre daha dayanıklı olduğu söyleniyor. Hava dışında başka bir şeye ihtiyaç duymayan bakteri, bu özelliğiyle diğer tüm bakterilerden ayrılıyor. Bakterinin bu yönü başka gezegenlerde yaşam olma ihtimalini güçlendiriyor.

Bu metinden aşağıdakilerin hangisine kesinlikle ulaşılr?

- A) Avustralyalı bilim insanlarının sadece bakteriler üzerine çalışma yaptığına
B) Bazı bakterilerin farklı gezegenlerde yaşadığına
C) Kötü yaşam koşullarının bakterilerin yaşam süresini kısalttığına
D) Keşfedilen bakterinin bazı yönleriyle ilk olma özelliği taşıdığına

► 2024 BURSLULUK

4. Dünya üzerindeki tüm denizler farklı yaşam alanları barındırır. Okyanuslarda ve açık denizlerde dev balinalar, göçebe foklar, yırtıcı köpek balıkları yaşarken kıyılarda daha küçük balıklar ve mercan resifleri yaşamaktadır. Kıyıların daha sıcak kesimlerinde ise küçük deniz canlılarına ev sahipliği yapan, devasa deniz yosunlarından oluşan ormanlar bulunur. Çevre koşullarına bağlı olarak bu alanlar değiştiğinde, denizlerdeki birçok tür yeni yaşam alanlarına uyum sağlayarak var olmaya devam eder.

Bu metne getirebilecek en uygun başlık aşağıdakilerden hangisidir?

- A) Çevre kirliliğinin deniz üzerindeki etkisi
B) Deniz canlıların barınma yöntemleri
C) İklimin yaşam alanlarının değişmesindeki rolü
D) Deniz canlılarının yaşam alanları

► 2024 BURSLULUK



15. rüzgâr esmiyor, yağmur dindi
fotoğrafın solgun, sis içinde kalbim
bir şarkı mırıldansam sensiz olmuyor
dokunsam: anılar kırılıp dağılıyor

Bu dizelere hâkim olan duygu aşağıdakilerden hangisidir?

- A) Pişmanlık B) Özlem
C) Korku D) Öfke

► 2019 BURSLULUK

16. Balık gebelikten itibaren anne adaylarına ve çocuklara tavsiye edilmektedir. Çocukların beyin gelişiminin hızlı olduğu anne karnındaki son iki üç ay ve 0-3 yaş dönemi için balığın önemi büyüktür. Çünkü balık eti, protein ve omega bakımından zengin olmakla birlikte iyot, selenyum, fosfor, magnezyum ve çinko mineralleri açısından da iyi bir besin kaynağıdır. Özellikle uskumru, lüfer, somon, hamsi gibi yağlı balıklar tavsiye edilir.

Bu metinde aşağıdaki sorulardan hangisinin cevabı yoktur?

- A) Ne sıklıkla balık tüketilmelidir?
B) Çocuklar neden balık yemelidir?
C) Önerilen balık türleri hangileridir?
D) Balığın besin değeri bakımından önemi nedir?

► 2019 BURSLULUK

17. Daracık odada birbirleriyle itişip kakışarak yatakların altını, soba odunlarının yığılı durduğu köşeyi, hastaların torba ve bavullarını karıştırıyorlardı. Ben yüzümü duvara çevirmiş, sessiz sessiz yatıyordum. Yanımdaki adam korkmuş olacak ki beni dürterek "Hişt, görmüyor musun, bavullarımızı tek tek karıştırıyorlar!" dedi.

Bu parçayla ilgili aşağıdakilerden hangisi söylenemez?

- A) Olaya dayalı bir anlatım vardır.
B) İkilmeden yararlanılmıştır.
C) Anlatım birinci kişi ağzından yapılmıştır.
D) Benzetmeye başvurulmuştur.

► 2019 BURSLULUK

18. Uzakta kuşlar seslenir;
Gönlüm genişler, beslenir;
Yaşamaya heveslenir,
Mayısta gönlüm delidir.

Bu dörtlüğün ana duygusu aşağıdakilerden hangisidir?

- A) Memleket özlemi B) Bahar sevinci
C) Merak D) Yalnızlık

► 2018 BURSLULUK

19. Güneş ışığı sadece doğa için bir enerji kaynağı değildir. Güneş ışığı insanların biyolojik gelişimi açısından da çok önemli. Uyku-uyanıklık süresi, hormonların düzenli salgılanması doğal ışığa bağlıdır. Gündüz doğal ışıkla aydınlatılmayan ofislerde çalışmak insanların daha çabuk yorulmasına neden oluyor.

Bu metnin konusu aşağıdakilerden hangisidir?

- A) Enerji tasarrufunda güneş ışığının önemi
B) Karanlıkta çalışmanın zorlukları
C) İnsanların doğadan ve doğallıktan uzaklaşması
D) Doğal ışığın insan bedenine etkileri

► 2018 BURSLULUK

20. Oğuzların bir boyu olarak Orta Asya'dan Anadolu'ya geldiler. Ormanlık dağları mesken tuttular. Göçebe hayattan vazgeçmeden ormancılık ve ağaç işleriyle uğraştılar. "Tahtacı" diye bilinen Türkmen oymakları hâlen Ege ve Akdeniz bölgelerinde yaşamaya devam ediyor.

Bu metinde "Türkmen oymakları" ile ilgili aşağıdakilerden hangisine değinilmemiştir?

- A) Yaşadıkları yere
B) Hangi işlerle uğraştıklarına
C) İnanç ve âdetlerine
D) Nereden göç ettiklerine

► 2018 BURSLULUK



Video çözüm için QR Kodu okutunuz.



2. Bölüm

▶ METNİN ANLATIM YÖNÜ

- Hikâye Unsurları
- Anlatıcı Türleri
- Metinde Duyular
- Metinde Duygu
- Metinde Karakter
- Metin Karşılaştırma
- Metinde Dil ve Anlatım

Bu bölümde toplam **192** soru çözeceksiniz.

BURSLULUK SORU DAĞILIMI

	2018	2019	2020	2021	2022	2023	2024
Hikâye Unsurları	1	1	1	1	1	-	1
Anlatıcı Türleri	-	-	-	-	-	-	-
Metinde Duyular	-	-	-	-	-	-	-
Metinde Duygu	-	-	-	-	-	-	-
Metinde Karakter	-	-	-	-	-	-	-
Metin Karşılaştırma	-	-	-	-	-	-	-
Metinde Dil ve Anlatım	-	1	-	1	1	-	-



- ✓ Süre tutma!
- ✓ Sorunun mantığını kavra!



1. Aşağıdaki metinlerin hangisinde “zaman” unsuru belirgin değildir?

- A) Bir günün daha sona erdiğini kendini koltuğa atınca anlamıştı. İşten saat 5'te çıkmasına rağmen ancak iki saat sonra eve gelebilmişti. Çalıştığı sürenin yarısına yakın bir süreyi de yolda geçiriyor olması tüm keyfini kaçırıyordu.
- B) Sokakta ne bir insan var ne de bir canlı. Doğadaki canlıların kendilerini uykuya gömdükleri zamanlardayız. Bir eksiğimiz kar yağışı. Geçen seneki gibi bol kar yağışlı bir kış geçirecek miyiz bakalım bu sefer?
- C) Kasabadan köye gelmek, yaklaşık iki saat sürüyordu. Tabii şansınız yaver gider ve köye giden tek dolmuşta kendinize yer bulabilirsiniz. Bazen dolmuşa yetişseniz bile yer olmadığı için köye gidemeyebiliyorsunuz.
- D) Gündüzün sıcaklığında hiçbir şeyin tadı olmadığı için bu zamanlarda her etkinlik, güneşin batışından sonra yapılır. O yüzden dostlarını hava kararmaya başladığında evine davet etmişti. Artık önlerinde sohbet etmek için uzunca bir süre vardır.

2. Kara Kuyruk, yarısı yıkılmış bir evde bir kutunun içinde bulunmuştu. Arif, Kara Kuyruk'u bulduğunda hayvancağızın zayıflıktan kemikleri sayılıyordu. Yavrucuğun bırakın yürümeye, havlamaya bile gücü yoktu. Kutuyu eve götürüp de ona annesinin sağdığı süttan biraz verince hemen canlanıvermişti. Annesi, başta kabul etmemişti Kara Kuyruk'u “Zaten bahçede iki köpek var. Buna ne gerek var.” demişti ama Arif, annesinin altından girip üstünden çıkmış bir şekilde bu yavruyu evde tutmaya razı etmişti.

Bu metinde aşağıdaki hikâye unsurlarından hangisine yer verilmemiştir?

- A) Kişi B) Yer
C) Zaman D) Olay

3. Genç denizci, gemi kaptanının kendisine verdiği mektubu yerine ulaştırmak için zorlu bir yolculuk geçirmiş fakat sonunda kaptanın son vasiyetini yerine getirip mektubu teslim etmişti. Mektubu teslim ettiği ada ana karaya oldukça uzak ve ulaşılması zor bir yerde olmasına rağmen bunu başarabilmişti. Ancak mektubu kime teslim ettiğini ve mektupta ne yazdığını hiç merak etmemişti. Kendisine verilen emaneti uygun bir şekilde yerine teslim olmanın huzuru içinde gemisini tekrar gideceği limana doğru yönlendirmişti.

Bu metindeki hikâye unsurları ile ilgili aşağıdakilerden hangisi söylenemez?

- A) Belirtilen olay, farklı zaman dilimlerinde birkaç kez tekrarlanmıştır.
- B) Metinde zaman unsuru belirgin şekilde belirtilmemiştir.
- C) Metnin kahramanı olan genç denizci, güvenilir bir insandır.
- D) Metinde bahsedilen olayın geçtiği yer bellidir.

4. Duyduğu sesin nereden geldiğini kestirmesi çok zordu. Etraf o kadar karanlıktı ki elinde feneri olmasa bir iki metre yakınına görmesi bile imkânsızdı. Bir yerlerde bir ağaçkakan kendine yuva açıyordu, seslerden bunu rahatlıkla anlayabiliyordu. Bir de duyduğu tren sesinden, gece yarısını 20 dakika geçtiğini çıkarabiliyordu. Genelde 5-10 dakika gecikse de tren hep bu saatlerde gelirdi. Gece bekçiliğinin bu kadar sıkıcı olacağını işe başlamadan önce hiç tahmin etmemişti.

Bu metinde aşağıdaki hikâye unsurlarından hangisine yer verilmemiştir?

- A) Kişi B) Yer
C) Zaman D) Olay



✓ Süre tut!

✓ Önerilen süre: 16 dk.



1. Çok geçmeden yemeğimi bitirmiştım. Abimle emin adımlarla kahveden çıktık. Arabaya doğru yürürken yine sessizliği bozacak bir davranışta bulunmamıştım, abim de heyecanlı gibiydi. Arabaya binince ilk yaptığım iş ısıtıcıyı açmak oldu. Çünkü yolda gelirken çok üşümüştük. “Radyoyu da açsak mı?” diye bir soru yönelttim ortaya. Abim, elini uzatıp radyoyu açarken “Frekans sen ayarla” dedi. Elimi dönen düğmede bir sağa, bir sola doğru hareket ettirirken bir frekans yakaladım. Bu, haberlerin olduğu bir radyo kanalıydı

Bu metinde aşağıdaki hikâye unsurlarından hangisine yer verilmemiştir?

- A) Kişi
B) Yer
C) Olay
D) Zaman

2. Aşağıdaki metinlerin hangisinde yer unsuru belirgin değildir?

- A) Henüz tüyleri yeni çıkmış olan kuş yavrusu, kaldırım taşının kenarına doğru sokulmuştu. Parktaki ağaçların birinden düştüğü kesin de ama hangisinden olduğunu bilemezdik. Üstelik bu ağaçlarda onlarca kuş yuvası vardı.
- B) Herkes, bir yerlere yetişecekmiş gibi aceleci tavırlar içindeydi. Bu yoğunluğu yaşayan insanların ailelerine vakit ayırmalarının mümkün olmadığını düşündü bir an. Bu düşünce Ömer’in üzülmeye sebep oldu.
- C) Büyük metal testerelerin kestiği mermer bloklar, düzenli bir şekilde duvar kenarına yığılıyor; oradan da kamyonlara yükleniyordu. Bu mermer ocağında işçiler neredeyse hiç durmuyorlardı.
- D) Taksi şoförünün kendisine söylenen adrese gitliğinde ağız açık kalmıştı. Adres oldukça büyük bir villaya getirmişti kendisini. Genelde bu kadar varlıklı insanlar, taksi kullanmaz özel araçları ile seyahat ederlerdi.

3. Aşağıdaki cümlelerin hangisinde zaman unsuru belirgin değildir?

- A) Evin küçük çocuğu, her zamanki neşesiyle mutfığa girmişti. Arkasında sakladığı şeyi annesine gülererek gösterdi. Annesi, bir haftadır her sabah yapılan bu sürprize gene şaşırılmıştı. Bu sürpriz, benekli tavuğun yumurtasıydı.
- B) Bahçede ilk müjdeyi veren badem ağacıydı. Tomurcukları birer ikişer çiçeklenmeye başlamıştı. Hava ısınmaya başlamıştı ama nisan yağmurları da bir yandan dünyaya bereketini saçmaya devam ediyordu.
- C) Havuzun dibindeki kolyeyi bulmak için çocuklar sırayla havuza dalıyordu. Tam tepeden vuran ögle güneşi havuzun içini bir ayna gibi parlattıyordu. Bu da çocukların kolyeyi bulmalarını zorlaştırıyordu.
- D) İlçenin nüfusu, hızla artmaya başlamıştı. Ama bu artış tatil kaynaklı filan değildi. İnsanlar ilçeden arsa, ev alıyorlardı. Bu artış, en çok ilçe esnafını mutlu ediyordu. Satışları son birkaç ayda epey katlanmıştı.

4. Ormanın birinde iki maymun arkadaş yaşamış. Biri çok titizmiş, günün büyük kısmını üzerinde olan bitleri ayıklamayla geçirirmiş. Öteki ise hem tembelmiş hem de temizliğine hiç önem vermemiş. Bir gün temiz maymun, çok sert bir şekilde kaşınma sesleri duymuş. Gidip bakınca bir de ne görsün? Arkadaşı acı içinde çılgınlar gibi kıvrıyor. Bizim tembel maymun, temiz maymuna “Ocağına düştüm yardım et!” demiş. Yılların getirdiği dostluk var arada nasıl yardım etmesin? Hemen çare bulmuş arkadaşının bu kaşıntısına.

Bu metindeki hikâye unsurları ile ilgili aşağıda verilen bilgilerden hangisi yanlıştır?

- A) Metinde bahsedilen karakterler farklı özelliklere sahiptir.
- B) Metinde gerçekleşmesi mümkün olmayan bir olaydan bahsedilmiştir.
- C) Olayın gerçekleştiği zamanı belli edecek ifadeler bulunmaktadır.
- D) Olayın geçtiği yer metinde belirtilmiştir.



3.

Yer	Zaman	Kahraman	Olay
Tarla	İlkbahar	Çiftçi ve Kaplan	Kaplanın çiftçiden öküzünü istemesi

Aşağıdaki metinlerden hangisi bu hikâye unsurlarına uygun yazılmıştır?

- A) Kurak bir ilkbahar gününde bir çiftçi iki öküzünü aldı ve tarlasını sürmeye koyuldu. Bir kaplan yanına yaklaştı ve “Selamlar Bey Kardeşim! Bu sabah keyifler nasıl?” dedi. Çiftçi kaplanı görünce korkudan titredi. “Sana da selam olsun efendi. Ben iyiyim.” diye cevap verdi. Kaplan, çiftçiye dikkatle baktı ve şöyle dedi “Sen iyiliksever bir insana benziyorsun, bu aç kardeşini doyurmak için öküzünün birini bana verebilirsin.”
- B) Tarlada oğullarını bekleyen ihtiyar çiftçi, iyice sabırsızlanmıştı. İlkbahar aylarında yağış olmayan çok az gün olurdu ve bugünlerde tarla sürme işlerinin bitmesi gerekiyordu. Çiftçi tarlasının kenarında gezerken bir kaplan çıkıp geldi. Kaplan, çiftçinin yanı başındaki tüfeği gördüğünden ona saldırmayı aklından geçirmede. Çiftçiyi tüfekten daha uzak bir noktaya çekerse ona daha rahat saldırabileceğini düşündü.
- C) Ormanın en bilge kaplanı, bir gün nasıl olmuşsa avcıların tuzağına yakalanmış. Kaplan postu, avcılar için oldukça değerliymiş. Kaplan ne kadar çabalasa da tuzaktan kurtulamamış. Bir yandan da kızmış kendi kendine “Nasıl böyle bir hata yaptım!” diye. O sırada arı kovanlarından bal arayan bir çiftçi gelmiş tuzağın başına. Çiftçi, önce avcılarının nasibine engel olmak istemediğinden kaplanın yanından geçip gitmek istemiş sonra vazgeçmiş.
- D) Tarlasına sürekli domuzların zarar vermesinden bıkan çiftçi, bu işe bir çare bulmak için düşünmüş taşınmış. Bu bahar mevsimini zararsız atlatmanın yolunu aramış. Başlarda tüfekte tarlada beklemiş ama çok fazla dayanamamış. Gene tarlasına gittiği bir gün yolda gördüğü kaplan, aklına yeni bir fikir getirmiş. Hemen kaplanın yanına sokulup “Karnını doyurman için sana harika bir tavsiye verebilirim.” demiş.

4. Zamanın birinde bir keşiş, Anadolu'nun ücra bir köyünde gezerken yerde parlayan bir taş gördü. Taşın parıltısına hayran oldu ve taşı cebine koydu. Köyün meydanına geldiğinde karnı iyiden iyiye acıkmıştı. Üzerinde paraya çevirebileceği birkaç kitabı bir de yoldan bulduğu taşı vardı. Kitaplara gönlü olmadığından taşı takas etmeye karar verdi. “Bir somun ekmek ile değişebilirim ne mutlu” diye geçirdi aklından. Bir fırına girip taşı gösterdi ve ekmek istedi. Fırıncı, dürüst bir adamdı “Tüm ekmekleri versen bile bu taşın bedelini sana ödeyemem.” diyerek bu teklifi geri çevirdi.

Bu metindeki hikâye unsurları ile ilgili aşağıdakilerden hangisi yanlıştır?

- A) Metinde bahsedilen kahraman sahip olduğu şeyin değerinin farkında değildir.
- B) Bahsedilen olay şehre uzak bir Anadolu köyünde geçmiştir.
- C) Bahsedilen olayın zamanı ile ilgili bazı ipuçları verilmiştir.
- D) Metinde yaşanılması mümkün bir olaydan bahsedilmiştir.



METNİN ANLATIM YÖNÜ

Dinleme Testi



- ✓ Dikkatli dinle!
- ✓ Gerekirse tekrar dinle!



1.



Bu metnin yazarı için aşağıdakilerden hangisi söylenebilir?

- A) Başkalarını mutlu etmek için çaba sarf etmektedir.
- B) Mutluluğunu sevdiği insanlar ile paylaşmaktan hoşlanmaktadır.
- C) Küçük şeyler ile mutlu olmayı becerebilmektedir.
- D) Olumsuz durumların bile olumlu yanını görmektedir.

2.



Dinlediğiniz bu metnin kahramanı ile ilgili aşağıdakilerden hangisi söylenebilir?

- A) Gayret gösterilmeden şair olunamayacağını düşünmektedir.
- B) Şair olmasında annesinin isteği etkili olmuştur.
- C) Kıza hissettiği merhamet duygusu, şiir yazmasına sebep olmuştur.
- D) Annesi söylemeden önce de şiir ile ilgilenmektedir.

3.



Dinlediğiniz bu metindeki kişinin işine karşı hissettiği duygu aşağıdakilerden hangisidir?

- A) Bıkkınlık
- B) Sevgi
- C) Önyargı
- D) Vurdumduymazlık

4.



Bu metnin anlatımında aşağıdaki duyuların hangisinden faydalanılmamıştır?

- A) Koklama
- B) Dokunma
- C) Görme
- D) Tatma



5. Şiir, bize maddi alışverişlerin ötesindeki ufku işaret eder. Hayat bu kadar değerlidir. Daha da fazlasını fark edebilmek için şiir, gözümüzü açar. Çocuklar iyi şiirle ne kadar önce tanışır, bütünleşirse ve şiire, hayatlarında ne ölçüde yer açarlarsa ufkun ötesi ne dair hayalleri kadar umutları da canlı olacaktır. Böylece şiirle kurdukları diyalogu ilerleyen yaşlarda sürdüreceklerdir.

Bu metnin dil ve anlatımıyla ilgili aşağıdakilerden hangisi söylenemez?

- A) Zıtlıklardan yararlanılmıştır.
B) Karşılaştırma yapılmıştır.
C) Deyim kullanılmıştır.
D) Kişisel görüşlere yer verilmiştir.

► 2020 BURSLULUK

6. Oyunlar stresi azaltmanın önemli yollarından biridir. Mesela en gergin anlarımızda arkadaşlarımızla oynayacağımız yakan top, saklambaç, seksek gibi oyunlar bize eşsiz bir huzur ve mutluluk verebilir. Bununla birlikte oyuna ayrılan zamanı da abartmamak gerekir.

Bu metinle ilgili aşağıdakilerden hangisine ulaşamaz?

- A) Tanım cümlesi kullanılmıştır.
B) Kişisel görüşe yer verilmiştir.
C) Tavsiyede bulunulmuştur.
D) Örneklendirmeden yararlanılmıştır.

► 2021 BURSLULUK

7. Kestane Pazarı'nda kuş satan bir dükkân gördük. Ablamla dükkânın önündeki kafese gülümseyerek yanaştık. Cıvılcıvılcı kafesteki kanarya. Kanaryanın şen şakrak ötüşü bizi büyüledi. Bu yüzden onu almaya karar verdik.

Bu metinde aşağıdaki hikâye unsurlarından hangisine yer verilmemiştir?

- A) Yer
B) Zaman
C) Kişi
D) Olay

► 2019 BURSLULUK

8. Boğaziçi'nde bir kıyı kahvehanesinde idik. Sait Faik Abasıyanık birden bana dönerek, "Şu kahvehaneyi anlatmak istersen nereden başlarsın?" diye sordu. Birden şaşkırdım, kahvenin duvarına asılmış resimler gözüme takıldı. "Bu resimlerle başlarım, sonra kahvenin içindekileri anlatırım." dedim. Sait Faik bana kızarak "Hikâye duvarda değil, orada oturan ihtiyardadır." dedi.

Bu parçaya göre Sait Faik'in hikâyelerindeki temel unsur aşağıdakilerden hangisi olabilir?

- A) Mekân
B) Hayal
C) Eşya
D) İnsan

► 2019 BURSLULUK

9. Adam hastanenin bekleme odasına girdi. Odada tek başına oturan çocuğa dikkatlice baktı. Çocuk, odada arkasına yaslanmış oturuyordu. Yavaşça ona yaklaştı. Çocuk üşümüş, korkmuş görünüyordu. Yanına oturdu ve elini çocuğun omzuna koydu.

Bu parçada aşağıdaki hikâye unsurlarından hangisi yoktur?

- A) Zaman
B) Kişi
C) Yer
D) Olay

► 2018 BURSLULUK

10. Bir baloncu, her sabah aynı saatlerde kocaman bir balon kümesiyle görünürdü. "Balon! Renk renk balonlar..." diye bağırarak ağır adımlarla geçip giderdi. Küçük çocuk, onun gelişini her gün heyecanla bekledi.

Bu metinde aşağıdaki hikâye unsurlarından hangisi yoktur?

- A) Şahıs kadrosu
B) Olay
C) Zaman
D) Mekân

► 2021 BURSLULUK



Video çözüm için QR Kodu okutunuz.



3. Bölüm

▶ METNİN YAPI YÖNÜ

- ▶▶ Metinde Yapı
- ▶▶ Metin Oluşturma
- ▶▶ Metin Tamamlama
- ▶▶ Metne Cümle Ekleme
- ▶▶ Metni İkiye Bölme
- ▶▶ Akışı Bozan Cümle

Bu bölümde toplam

176

soru çözeceksiniz.

BURSLULUK SORU DAĞILIMI

	2018	2019	2020	2021	2022	2023	2024
Metinde Yapı	-	-	-	1	-	-	-
Metin Oluşturma	1	1	-	-	-	-	-
Metin Tamamlama	1	-	-	-	-	1	-
Metne Cümle Ekleme	-	-	-	-	-	-	-
Metni İkiye Bölme	-	-	1	-	-	-	-
Akışı Bozan Cümle	-	-	-	-	1	-	-



5. I. Sandığın üzerindeki tozu masadan aldığı bezle sildi ve cebinden bir anahtar çıkardı.
II. Genç denizci, odanın en karanlık köşesinde bulunan büyükçe bir sandığı mum ışığının yakınına getirdi.
III. Haritayı masanın üzerine serip gidebileceği en güvenli yolları araştırmaya başladı.
IV. Bu anahtar ile sandığı açtıktan sonra sandığın içindeki rulo hâline getirilmiş haritalardan bir tanesini aldı.

Numaralanmış cümlelerle anlamlı bir metin oluşturulduğunda doğru sıralama aşağıdakilerden hangisi olur?

- A) II - I - IV - III B) IV - I - III - II
C) I - IV - II - III D) III - II - I - IV

6. **Aşağıdakilerden hangisi bir araştırmanın sonuç bölümüne aittir?**

- A) Kentlerde suyun su kaynaklarından evlere, iş yerlerine ve diğer yapılara ulaştırılması için önemli miktarda elektrik enerjisi gerekir. Atık suların arıtılması için kullanılan tesislerde elektrik enerjisine ihtiyaç var.
B) Dağlarda belirli yüksekliklerden sonra bitki yetişmez. Çünkü birçok bitki; çok yüksek yerlerdeki düşük hava sıcaklıklarına, düşük basınca ve güneşten gelen zararlı ışınımaya dayanamaz.
C) Araştırmada trafik gürültüsünün azaldığı zamanlarda kuşların uyarı ötüşlerini duyabildiği de gözlemlendi. Bu sonuçlara dayanarak kuş bilimciler, trafik gürültüsünü azaltacak birtakım önlemlerle kuşların korunabileceğini belirtti.
D) Üç boyutlu yazıcılar, üç boyutlu tasarım yapmayı sağlayan programlarla bilgisayarda sanal olarak tasarlanan nesnelere elle tutulabilir, kullanılabilir somut ürünlere dönüştüren cihazlardır.

7. **Aşağıdakilerden hangisi bir metnin giriş bölümü olmaya en uygundur?**

- A) Minyatür eserlerin bir diğer özelliği ise perspektif kullanımının sınırlı olmasıdır. Bir minyatür eserde yakındaki ve uzaktaki figürler, yaklaşık olarak aynı boyuttur.
B) Martılar, çoğunlukla deniz ve göl kıyılarında yaşar. Martıların farklı türleri, farklı özelliklere sahiptir. Özellikle boyları, çok değişiklik gösterir. En kısırları 70, uzunları 170 santimetreyi bulur.
C) Balerinler; bunlara ek olarak bale pabucu denen uçları sıkıştırılmış ve yapıştırıcıyla sertleşmiş kumaş, kâğıt ya da kartonla doldurulan özel ayakkabılar kullanırlar.
D) St. Petersburg, Novosibirsk ve Yekaterinburg da Rusya'nın diğer büyük kentlerinden. Bu Rus kentleri, kültür ve sanat etkinlikleriyle ünlü. Buralarda onlarca müze ve saray var.

8. I. Anne kutup ayısı, peşinde kar yumağını andıran iki yavrusu ile yuvadan çıkmak için hareketlendi.
II. Anne ayı, kapanan bu girişi açmak için pençeleriyle hızlı hızlı karı kazmaya başladı.
III. Annelerinin bu hareketini oyun olarak düşünen yavru, annelerinin yaptığı hareketi yapmaya başladılar
IV. Yuvanın ağzı, tüm gece yağın etkisiyle tamamen kapanmıştı.

Numaralanmış cümlelerle anlamlı bir metin oluşturulduğunda doğru sıralama aşağıdakilerden hangisi olur?

- A) IV - I - III - II B) I - IV - II - III
C) II - III - I - IV D) III - II - I - IV



- ✓ Süre tutma!
- ✓ Sorunun mantığını kavra!



1. “- - -” Genel olarak at ne kadar dik, başı yukarıda ve kuyruğu asılı pozisyonda ise o kadar heyecanlı veya uyanıktır. Sakin veya yorgun at ise başını aşağıda tutar, bazen burnu yere değer ve kuyruğunu gevşek bir şekilde aşağı sarkıtır. Yukarıya kalkan arka bacak ise bir tehdit habercisidir. At, karşı taraftan tedirgin olduğunu ve saldırabileceğini bu hareket ile gösterir. Ön ve arka bacağı yere vurma davranışı ise bir çeşit huzursuzluğu ifade eder.

Bu metnin başına düşüncenin akışına göre aşağıdakilerden hangisi getirilebilir?

- A) Vücut dilleri, atların iletişimde kullandıkları en önemli araçlarıdır.
- B) Atların gelişmelerinde beslenme çok önemlidir.
- C) Atlar, kullanım amaçlarına göre farklı eğitimlerden geçirilir.
- D) Her at cinsi için kullanılacak eğitim türü farklıdır.

2. Şişmanlık, son yıllarda dünya genelinde ciddi bir sağlık sorunu olarak karşımıza çıkmaktadır. Şişmanlık, vücutta fazla yağ birikimi sonucu ortaya çıkan bir durumdur. “- - -” Bunların başlıcaları hareketsizlik, düzensiz ve sağlıksız beslenme alışkanlıkları, fast food tüketimi, stresli yaşam tarzı ve genetik yatkınlıktır. Bunlardan bir veya birkaçı bir araya geldiğinde vücut hızla yağ depolar ve iç organlarda yağlanma artışı görülür.

Bu metinde boş bırakılan yere anlam akışına göre aşağıdakilerden hangisi getirilmelidir?

- A) Şişmanlık sorunu, özellikle Avrupa ülkelerinde yaygındır.
- B) Vücutta yağ birikiminin farklı sebepleri bulunmaktadır.
- C) Şişmanlık sorunu, aynı zamanda israfı da artırmaktadır.
- D) Fazla yağ birikimi, bazı sağlık sorunlarına sebep olmaktadır.

3. Vücut kasları, öğle saatlerinde sabaha oranla daha çok hareket ettiğinden esneklik kazanır. Bu esneklik, sakatlanma riskini en aza indireceği gibi verimliliği de artırır. Üstelik öğle saatlerinde vücut, sabaha göre dört kat daha fazla dayanıklılık göstermektedir. Bu saatlerde yapılan spor, bedenini aşırı yorulmasının da önüne geçmektedir. “- - -”

Bu metnin sonuna düşüncenin akışına göre aşağıdakilerden hangisi getirilebilir?

- A) Bu sebeplerle öğleyin yapılan spordan yüksek verim alınmaktadır.
- B) Bunun için de spor tercihlerinde yaş, mutlaka göz önünde bulundurulmalıdır.
- C) Sporun yemek yendikten belli bir süre sonra yapılmasının tavsiye edilme sebebi budur.
- D) Uzun boylu insanların kas dayanıklılığı, kısa boylulardan daha düşüktür.

4. (I) Yaşam tarzımızın değişmesiyle birlikte gündelik hayatımızdaki yiyecek önceliklerimiz de değişiyor. (II) Maalesef her geçen gün yeme içme ihtiyacımız, fast food tüketme alışkanlığına dönüşüyor. (III) Bu anlamda televizyonlarda sürekli reklamları dönen, ayaküstü hızlıca yemek yiyebileceğimiz fast food restoranlarını tercih ediyoruz. (IV) Vitaminler yerine aldığımız sağlıksız gıdalarla birlikte kilo alımı da artıyor hâliyle.

Bu parçadaki numaralanmış cümlelerin hangisinden sonra “Dönüşüyor diyorum çünkü temel ihtiyaçlarımızdan yeme içmeyi iki dakikaya sığdırıyor olduk.” cümlesi getirilmelidir?

- A) I
- B) II
- C) III
- D) IV



5. (1) Kızıl sincap Trakya ve Anadolu'nun kuzeydoğusunda yaşarken Anadolu sincabı hemen hemen tüm Türkiye'de yaşar. (2) Ağaçlarda bulunan kovuklar ve ağaçkakanların açtığı delikler sincaplar için ideal yuvalama alanlarıdır. (3) Sincaplar ormanlarda bulunan meyve ve tohumlarla beslenir. (4) Meşe palamutları, ceviz, fındık ve badem sincapların temel besinleridir. (5) Bunların yanı sıra ağaç filizlerini, mantarlar ve böcekleri de yiyebilirler.

Bu metin iki paragrafa bölünmek istense ikinci paragraf numaralanmış cümlelerden hangisiyle başlar?

- A) 2 B) 3 C) 4 D) 5

► 2020 BURSLULUK

6. 1. İçeride genzini yakan ağır bir koku vardı.
2. Çocuk iki katlı, ahşap kapılı, pencereleri buğulu bir binanın önünde durdu.
3. Yavaşça araladığı kapıdan içeri ağır adımlarla girdi.
4. Buğulu camlardan içeriği görebilmesine imkân yoktu.

Numaralanmış cümleler olayların oluş sırasına göre nasıl sıralanmalıdır?

- A) 2 - 1 - 4 - 3 B) 2 - 4 - 3 - 1
C) 4 - 2 - 1 - 3 D) 4 - 3 - 2 - 1

► 2019 BURSLULUK

7. 1. Türkiye'ye dönünce çeşitli illerde karantina doktorluğu, müfettişlik gibi görevlerde bulunmuştur.
2. 1914 yılında emekli olduktan sonra İstanbul Üniversitesi Edebiyat Fakültesinde profesör olarak görevine devam etmiştir.
3. Cenap Şehabettin Bey, Askerî Tıbbiyede öğrenim görmüş ve eğitimini devam ettirmek üzere 1889 yılında Paris'e gitmiştir.
4. Cenap Şehabettin, 1870 yılında Manastır'da dünyaya gelmiştir.

Numaralanmış cümlelerle anlamlı bir metin oluşturulduğunda sıralama aşağıdakilerden hangisi olur?

- A) 3 - 1 - 4 - 2 B) 3 - 4 - 2 - 1
C) 4 - 3 - 1 - 2 D) 4 - 3 - 2 - 1

► 2018 BURSLULUK

8. Doğa, bahar mevsimine girerken yeniden uyanışını filizlenerek, çiçek açarak sergiliyor. Hayata bir tazelik ve dinçlik getiriyor. Doğa böylesine uyanırken insanların önemli bir çoğunluğu bu dönemlerde - - - - .

Bu metin aşağıdakilerden hangisiyle tamamlanırsa olumsuz bir durumdan söz edilmiş olur?

- A) içlerindeki yaşama sevincinin arttığını vurguluyorlar
B) dikkatlerini daha iyi toplayabildiklerini belirtiyorlar
C) kendilerini dinç hissettiklerinden bahsediyorlar
D) ruhsal olarak daha karamsar olduklarını söylüyorlar

► 2018 BURSLULUK



Video çözüm için QR Kodu okutunuz.



4. Bölüm

► METİN TÜRLERİ

►► Metin Türleri

Bu bölümde toplam

36

soru çözeceksiniz.

BURSLULUK SORU DAĞILIMI

	2018	2019	2020	2021	2022	2023	2024
Metin Türleri	1	1	-	1	1	-	-



- ✓ Süre tut!
- ✓ MEB, böyle soruyor.



1. Tiyatro Anı Gezi Yazısı

Aşağıdakilerden hangisi tablodaki metin türlerinden birine ait değildir?

- A) Küçük kurbağa döndü tavşana, birlikte kaçmalarının mümkün olup olmadığını sordu. Aldığı olumsuz cevapla her şeyin bittiğini anladı.
- B) Bir bayram sabahıydı. Her zamanki gibi en güzel elbiselerimizi giymiş, harçlıklarımızı almıştık. Kendimizi caddelere atmış, kapı kapı dolaşip mendillerin arasına konulan şekerleri almaya çıkmıştık. Gönlü bol olanlardan da harçlık almıştık.
- C) Sabah erkenden varmıştık Amasra'ya. Önce kent merkezinde bir çorba içmiş, ardından keşfe dalmıştık "Şehzadeler Şehri"ni.
- D) Atatürk, okumayı çok severdi. Bir geziden Ankara'ya dönüyordum. Köşke gittiğimde özel hizmetine bakanlara ne durumda olduğumu sordum. İki gecedir durmadan kitap okuyor ve koltukta dinlendiler, dediler.

2. Şimdiki o kocaman, kıpkırmızı, lezzetsiz ve kokusuz hormon çileklerine hiç benzemeyen; Arnavutköy ya da Osmanlı çileği denilen bir çilek türü vardı eskiden. Rengi beyaza yakın bir pembeydi, çok küçüktü ve mis gibi kokardı. Sınıf arkadaşım Emine ile ben, o çilek tarlalarına gider; topraktan kopardığımız çilekleri toprağıyla birlikte avuç avuç yerdik. Bir defasında, çileklerden çok yediğimiz için karnımız ağrımişti ve bizi doktora götürmüşlerdi.

Bu metnin türü aşağıdakilerden hangisidir?

- A) Gezi yazısı B) Mektup C) Tiyatro D) Anı

3. Bir sabah Bodrum'a giden araçla yol almaya başladık. İnişli çıkışlı Ortatepe ve Adabükü yöresinde, dere tepe demeden, keçilerin bile zor çıktığı yerlere yapılmış beyaz evleri şaşkınlıkla izleyerek Bodrum yoluna vardık. Pırıl pırıl görüntüler sunan Bodrum girişinde bindiğim kent içi araçla kent merkezine vardım. Yolları dolduran araçları izledikçe İstanbul yolları, gözümün önüne geldi. Belleğime, İstanbul ve Bodrum'a akın eden araçlardan giriş ücreti ya da vergi alınmalı, düşüncesi geldi.

Aşağıdakilerin hangisinde bu metnin tür özellikleriyle ilgili yanlış bir bilgi vardır?

- A) Gezilen yerlerle ilgili izlenimler anlatılır.
- B) Nesnel ifadeler çoğunlukta ve yazar tarafsızdır.
- C) Bu yazı türünde gözlem becerisi kullanılır.
- D) Yazarın anlattıkları hayal ürünü değil, gerçektir.

5. Bölüm

► SÖZEL MANTIK VE MUHAKEME

►► Sözel Mantık ve Muhakeme

Bu bölümde toplam

39

soru çözeceksiniz.

BURSLULUK SORU DAĞILIMI

	2018	2019	2020	2021	2022	2023	2024
Sözel Mantık ve Muhakeme	-	-	-	-	-	1	-



13. A ve B sınıflarından Ali, Burak, Cemil, Devran adlı öğrenciler matematik, fen bilimleri, İngilizce, sosyal bilgiler derslerinden kurs alacaklardır. Öğrencilerin aldıkları ders ile ilgili bilinenler şunlardır:

- Her öğrenci, tek dersten kurs almıştır.
- Ali, matematik dersini almıştır.
- Devran, fen bilimleri veya İngilizce derslerinden birini almıştır.
- B sınıfı öğrencileri, matematik ve sosyal bilgiler derslerini almışlardır.
- Burak, sosyal bilgiler dersini almamıştır.

Bu bilgilere göre aşağıdakilerden hangisine kesin olarak ulaşamaz?

- A) Cemil, B sınıfındadır.
B) Burak, İngilizce dersi almıştır.
C) Cemil, sosyal bilgiler dersi almıştır.
D) Devran, A sınıfındadır.

14. Arda, Ezgi, Çınar, Banu ve Şerife'nin Türkçe sınavları okunduğunda sıralamaları ile ilgili bilinenler şunlardır:

- Çınar, Arda'dan daha fazla puan almıştır.
- Banu, Ezgi'den daha fazla puan almıştır.
- Şerife, Arda'dan daha az puan almıştır.
- Arda, Banu'dan daha fazla puan almıştır.

Buna göre aşağıdakilerden hangisi kesinlikle doğrudur?

- A) Çınar, en yüksek notu almıştır.
B) Banu, sıralamada üçüncü olmuştur.
C) Şerife, bu gruptaki en düşük notu alan öğrencidir.
D) Ezgi, sıralamada dördüncü olmuştur.

15.

Marka	ABC	BAC	CBA	DCB
Gövde Tipi	Suv	Suv	Sedan	Suv
Yakıt Tipi	Elektrik	Elektrik	Elektrik	Elektrik
Beygir gücü	218	201	215	219
Şanzıman Türü	Otomatik	Otomatik	Otomatik	Otomatik
0-100 Hızlanma	7,4	7,5	5,7	7,2
Bagaj Hacmi	441	440	432	517
Fiyat	1.500.000	1.750.000	1.800.000	2.005.000

Ali Bey, uzun araştırmalar sonucu dört araç arasında kararsız kalmıştır. Aile bireyleri ile yapılan son toplantıda şu kararlar alınmıştır:

- Alacakları araç, 2 milyon lirayı geçmeyecektir.
- Gövde tipi, Suv ve otomatik şanzıman olmalıdır.
- Bagaj hacmi, en az 440 lt olmalıdır.
- Beygir gücü, 215'ten az olmamalı ve 0-100 hızlanması, 7,5 saniyeden aşağıda olmalıdır.

Buna göre Ali Bey, aşağıdaki araç markalarından hangisini alacaktır?

- A) ABC B) BAC C) CBA D) DCB



Video çözüm için QR Kodu okutunuz.



6. Bölüm

► GÖRSEL OKUMA, GRAFİK VE TABLO YORUMLAMA

►► Görsel Okuma, Grafik ve Tablo Yorumlama

Bu bölümde toplam

27

soru çözeceksiniz.

BURSLULUK SORU DAĞILIMI

	2018	2019	2020	2021	2022	2023	2024
Görsel Okuma	-	1	-	1	-	1	-
Grafik Yorumlama	-	-	1	1	-	-	1
Tablo Yorumlama	-	-	-	-	1	-	-

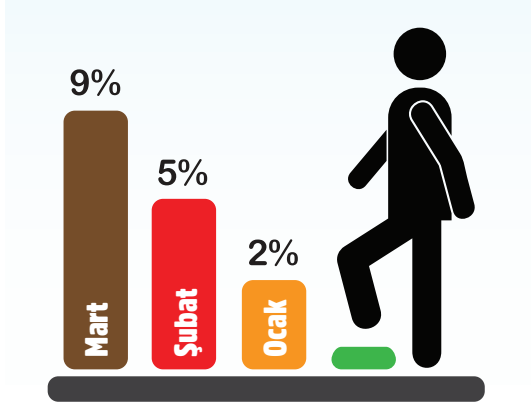


✓ Süre tut!

✓ MEB, böyle soruyor.



1. Aşağıdaki grafikte üç aylık sürede bir öğrencinin Türkçe dersi başarısındaki artış, yüzdeler olarak verilmiştir.



Bu grafikteki bilgilerden hareketle aşağıdaki bilgilerden hangisine ulaşılabilir?

- A) Öğrencinin Türkçe dersinde gösterdiği başarı, aydan aya artmıştır.
- B) Öğrencinin mevcut başarısı, nisan ayında artmaya devam edecektir.
- C) Öğrenci, mart ayında yapılan Türkçe sınavında sınıf birincisi olmuştur.
- D) Grafiğe göre öğrenci, bir önceki yıl sınıf ortalamasının altında başarı göstermiştir.

2. Dinozorlar zamanının en çok bilinen üyelerinden olan bu dinozor, dört ayaklı olmasına rağmen iki ayağı üzerinde yürümesiyle bilinir. Boyu uzun olmasına rağmen boyun kısmı, çok uzun değildir. En dikkat çekici özelliği, ön ayaklarının küçüklüğüdür. Etçil olan bu dinozorun sırtı, düz bir şekilde sivri kuyruğuna kadar inmektedir. Kafasının nispeten büyük olduğu söylenebilir.

Bu metinde bahsedilen dinozor türünü en iyi yansıtan görsel aşağıdakilerden hangisidir?

A)



B)



C)



D)





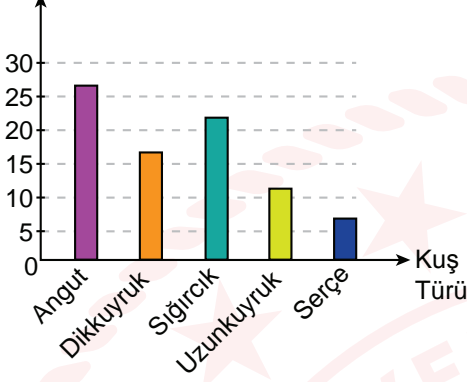
- ✓ Süre tut!
- ✓ MEB, böyle soruyor.



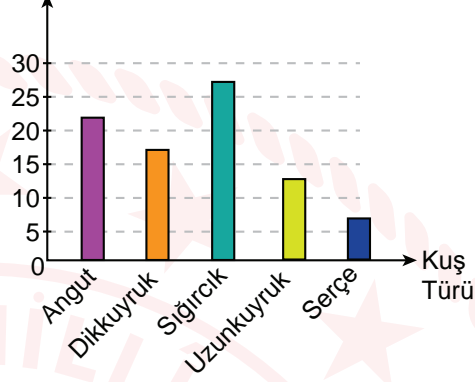
1. Bir göle bulunan angut, dikkuyruk, sıgırcık, uzunkuyruk ve serçe kuşlarının sayılarıyla ilgili bilinenler şunlardır:
- Uzunkuyruk sayısı dikkuyruk ve sıgırcıktan az, serçeden fazladır.
 - Sıgırcık sayısı dikkuyruktan fazla, anguttan azdır.

Buna göre, kuş türlerini ve sayılarını gösteren grafik aşağıdakilerden hangisi olabilir?

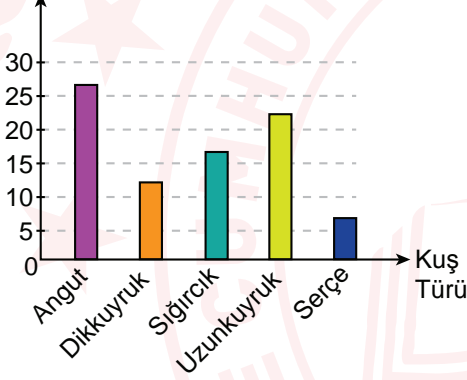
A) Kuş Sayısı



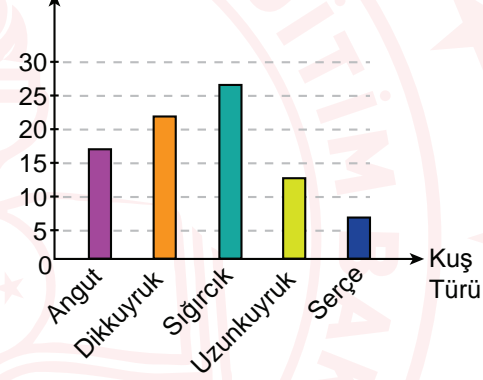
B) Kuş Sayısı



C) Kuş Sayısı

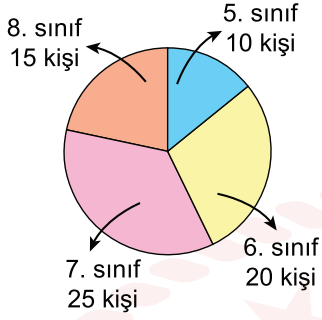
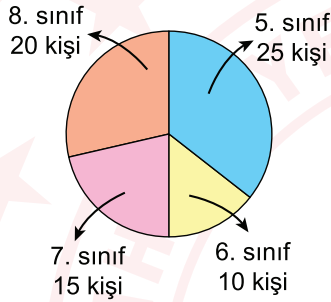


D) Kuş Sayısı



► 2024 BURSLULUK

4. A ve B ortaokullarının sınıf düzeylerine göre öğrenci sayıları aşağıdaki grafiklerde verilmiştir.

A Ortaokulu**B Ortaokulu**

Bu grafiklere göre aşağıdaki yargılardan hangisi doğrudur?


- A) 6. sınıftaki öğrenci sayıları iki okulda da aynıdır.
- B) 7. sınıftaki öğrenci sayısı, A Ortaokulunda B Ortaokulundakinden fazladır.
- C) 5. sınıftaki öğrenci sayısı, B Ortaokulunda A Ortaokulundakinden azdır.
- D) 8. sınıftaki öğrenci sayısı, A Ortaokulunda B Ortaokulundakinden fazladır.

► 2021 BURSLULUK

- 5.

2019 KÜTÜPHANE SAYILARI

Toplam kütüphane sayısı 32 bin 411'dir.

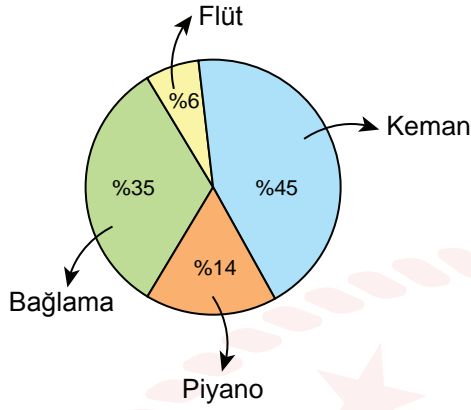


Bu bilgilerden aşağıdakilerin hangisine ulaşılabılır?

- A) Toplam kütüphane sayısı her yıl artmıştır.
- B) Halk kütüphanesi sayısı önceki yıla göre azalmıştır.
- C) Üniversite kütüphanesi sayısı, halk kütüphanesi sayısından azdır.
- D) Millî Kütüphane sayısı, eğitim kurumu kütüphanesi sayısından fazladır.

► 2021 BURSLULUK

6. Bir okulda öğrencilerin en çok ilgi duydukları müzik aletlerinin kullanım yüzdeleri grafikte verilmiştir.



Buna göre aşağıdakilerden hangisi söylenebilir?

- A) En az kullanılan müzik aleti piyanodur.
B) Piyanoyu kullananlar, keman kullananlardan daha fazladır.
C) Keman, bağlamadan daha çok tercih edilmiştir.
D) Bağlama kullananlar, piyano kullananlardan azdır.

► 2020 BURSLULUK

7.



Kutup ayıları bugün yirmi yıl öncesine göre daha zayıf ve sağlıksız. Çünkü yaşam alanlarındaki buzlar ilkbaharda eskisinden iki hafta önce erimeye başlıyor ve onlar avlanmayı iki hafta erken bırakmak zorunda kalıyor. Dünyadaki balıkların çoğu da daha serin sular bulabilmek için kuzeye doğru gidiyor.

Bu karikatür ve haber metninin ele aldığı ortak sorun aşağıdakilerden hangisidir?

- A) Küresel ısınma
B) Kuraklık
C) Çevre kirliliği
D) Su israfı

► 2019 BURSLULUK



Video çözüm için QR Kodu okutunuz.

