

Yeni Müfredata Göre Hazırlanmış

Arı Soru Bankası

SOSYAL BİLGİLER

Bu kitabın her hakkı Arı Yayıncılık'a aittir. İçindeki şekil, yazı, resim ve grafiklerin yayınevinin izni olmaksızın, elektronik, mekanik, fotokopi ya da herhangi bir kayıt sistemi ile çoğaltılması, yayımlanması ve depolanması yasaktır.



YAZAR

Erkan İSANMAZ - Şeyhmus YÜCE
Yavuz YILDIZ - Murat SAAT

GÖRSEL YÖNETMEN

İhsan SONDOĞAN

GRAFİK-TASARIM

Meltem YÜKSEL - Nurcan KOCAMAN

BASIM YERİ

İhlas Gazetecilik A.Ş. (0212 454 30 00)



Osmangazi Mah. Gazi Cad. No:1 Kıraç-Esenyurt/İSTANBUL

Tel: 0212 879 20 60 - info@ariyayin.com

www.ariyayin.com [f](#) [@](#) [x](#) [v](#)/ariyayin

Başarı "İÇİNDE"



İSTİKLAL MARŞI

Korkma, sönmez bu şafaklarda yüzen al sancak
Sönmeden yurdumun üstünde tüten en son ocak.
O benim milletimin yıldızıdır parlayacak!
O benimdir, o benim milletimindir ancak!

Çatma, kurban olayım, çehreni ey nazlı hilal!
Kahraman ırkıma bir gül... ne bu şiddet, bu celâl?
Sana olmaz dökülen kanlarımız sonra helal.
Hakkıdır, Hakk'a tapan milletimin istiklal.

Ben ezelden beridir hür yaşadım, hür yaşarım;
Hangi çılgın bana zincir vuracakmış? Şaşarım!
Kükremiş sel gibiyim, bendimi çiğner, aşarım.
Yırtarım dağları, enginlere sığmam, taşarım.

Garbin âfâkını sarmışsa çelik zırhlı duvar.
Benim iman dolu göğsüm gibi serhaddim var.
Ulusun, korkma! Nasıl böyle bir imânı boğar,
'Medeniyet!' dediğin tek dişi kalmış canavar?

Arkadaş, yurduma alçakları uğratma sakın;
Siper et gövdeni, dursun bu hayâsızca akın.
Doğacaktır sana va'dettiği günler Hakk'ın,
Kim bilir, belki yarın, belki yarından da yakın.

Bastığın yerleri 'toprak' diyerek geçme, tanı!
Düşün altındaki binlerce kefensiz yatanı.
Sen şehid oğlusun, incitme, yazıktır, atanı.
Verme, dünyâları alsan da bu cennet vatanı.

Kim bu cennet vatanın uğruna olmaz ki feda?
Şühedâ fişkırarak toprağı sıksan, şühedâ!
Cânı, cânânı, bütün varımı alsın da Hudâ,
Etmesin tek vatanımdan beni dünyâda cüdâ.

Rûhumun senden İlahî, şudur ancak emeli:
Değmesin ma' bedimin göğsüne nâ-mahrem eli!
Bu ezanlar-ki şehâdetleri dinin temeli-
Ebedî yurdumun üstünde benim inlemeli.

O zaman vecd ile bin secde eder -varsa- taşım.
Her cerîhamdan, İlahî, boşanıp kanlı yaşım;
Fişkırır rûh-ı mücerred gibi yerden na'sım;
O zaman yükselerek arşa değer belki başım!

Dalgalar sen de şafaklar gibi ey şanlı hilâl!
Olsun artık dökülen kanlarımın hepsi helâl.
Ebediyyen sana yok, ırkıma yok izmihlâl;
Hakkıdır, hür yaşamış, bayrağımın hürriyet,
Hakkıdır, Hakk'a tapan milletimin istiklâl!

Mehmet Âkif ERSOY

İÇİNDEKİLER

1. ÖĞRENME ALANI

Gruplar ve Roller	3
Kültürel Özelliklere Saygı ve Birlikte Yaşama Kültürü	11
Yardımlaşma ve Dayanışma Faaliyetlerinin Toplumsal Birlikteliğe Etkisi	19
Öğrenme Alanı Değerlendirmesi	27

2. ÖĞRENME ALANI

Yaşadığımız İlin Göreceli Konumu	35
Yaşadığımız İlde Doğal ve Beşerî Çevredeki Değişim	43
Yaşadığımız İlde Meydana Gelebilecek Afetlerin Etkileri	51
Ülkemize Komşu Devletler	63
Öğrenme Alanı Değerlendirmesi	71

3. ÖĞRENME ALANI

Ortak Miras Ögeleri	79
Anadolu'nun İlk Yerleşim Yerlerinde Sosyal Hayat	91
Mezopotamya ve Anadolu Medeniyetlerinin Ortak Kültürel Mirasa Katkıları	103
Öğrenme Alanı Değerlendirmesi	117

4. ÖĞRENME ALANI

Demokrasi ve Cumhuriyetin Temel Nitelikleri	125
Etkin Vatandaşın Özellikleri	133
Temel Haklar, Sorumluluklar	141
Sorunlarımızın Çözümünde Başvurabileceğimiz Kurumlar	149
Öğrenme Alanı Değerlendirmesi	157

5. ÖĞRENME ALANI

Kaynakların Verimli Kullanımı	165
Bütçe Oluşturma	175
Yaşadığımız İldeki Ekonomik Faaliyetler	183
Öğrenme Alanı Değerlendirmesi	191

6. ÖĞRENME ALANI

Teknolojik Gelişmelerin Toplum Hayatına Etkileri	199
Teknolojik Ürünlerin Bilinçli Kullanımı	207
Öğrenme Alanı Değerlendirmesi	215

Cevap Anahtarı	223
----------------------	-----

Nasıl Geçti? 😞 😐 😊 Doğru Yanlış Boş Net

1. Prof. Dr. Tekin Öztürk, özel bir hastanede kalp damar cerrahisi uzmanı olarak görev yapmaktadır. Aynı zamanda hastanenin başhekimidir. Atletizm ile de ilgilenmekte olan Tekin Bey'in bu alanda madalyaları bulunmaktadır. Haftada iki gün üniversitede ders veren Tekin Bey evli ve üç çocuk babasıdır.

Buna göre aşağıdakilerden hangisi Tekin Bey'in toplumdaki rollerinden biri değildir?

- A) Doktor B) Kardeş
C) Sporcu D) Eş

2. Tabloda grup ve gruba ait rol eşleştirmesi verilmiştir:

	Grup	Rol
I	Akraba	Öğrenci
II	Arkadaş	Ara bulucu
III	Okul	Nöbetçi
IV	Sosyal Sorumluluk	Gönüllü

Bu eşleştirmelerden kaç tanesi doğrudur?

- A) 1 B) 2 C) 3 D) 4

3. En az iki kişiden oluşan, ortak bir amaç için araya gelen, aralarında iş birliği bulunan topluluğa denir.

Verilen cümlede boş bırakılan yere yazılabilecek en uygun kavram aşağıdakilerden hangisidir?

- A) Kurum B) Grup
C) Birey D) Toplum

4. Murat Öğretmen öğrencilerinden dâhil oldukları bir gruptaki rollerine ilişkin hak ve sorumluluklarını el kuklası yardımıyla anlatmalarını istemiştir.



Buna göre öğrenciler el kuklası etkinliğindeki konuşmalarında dâhil oldukları hangi grup ve rol üzerinde durmuşlardır?

- A) Sosyal sorumluluk - Yönetici
B) Okul - Akran öğretiminde öğretici
C) Komşuluk - Oyun arkadaşı
D) Aile - Çocuk

5. Aile grubunda çocuk olan rolümüze okula başladığımızda öğrenci rolü de eklenir. İş hayatına başladığımızda doktor, öğretmen, polis gibi mesleki rollere sahip oluruz. Aile grubunda önce eş, çocuğumuz olduğunda ise baba veya anne rolü de üstleniriz.

Verilen bu bilgiden yararlanarak,

- I. Bireylerin sahip olduğu sosyal roller zaman içerisinde değişim gösterebilir.
II. Birey olarak aynı grup içinde farklı rollere sahip olabiliriz.
III. Üstlendiğimiz roller katıldığımız gruplara göre farklılık gösterebilir.

Çıkarımlarından hangilerinde bulunulabilir?

- A) I ve II B) I ve III
C) II ve III D) I, II ve III

6. Birey, hayatı boyunca birçok grupta yer almaktadır. Bu gruplarda farklı görevler üstlenmektedir. Bu görevler rol olarak adlandırılır.

Buna göre rol kavramı ile ilgili aşağıdaki ifadelerden hangisi doğru olamaz?

- A) Rollerin gerektirdiği bazı sorumluluklarımız vardır.
B) Rollerimiz zaman içinde değişebilir.
C) Dâhil olduğumuz ilk grup okuldur.
D) Aynı anda birden çok rolü üstlenebiliriz.

7. Yer aldığımız gruplardaki rollerimizin gereklerini yerine getirmek sorumluluk olarak isimlendirilir. Sorumluluk duygusu kazanarak başarılı ve mutlu bireylerin olduğu bir toplumun oluşmasına katkıda bulunuruz.

Sorumluluk duygusu gelişmiş kişilerin özellikleri arasında aşağıdakilerden hangisi yer almaz?

- A) Kendi hatalarını başkasına yüklemeye çalışır.
B) Hayatıyla ilgili kararları kendisi verir.
C) Çevrenin değerlerini önemser.
D) Kararlarının arkasında durur.

8. Toplum içinde ortak hedef ve değerleri olan insanlar grupları meydana getirir. Her grubun kendine ait birtakım kuralları vardır. Bu kurallara uymak grup için oldukça önemlidir ve grubun her üyesi için birer sorumluluktur.

Buna göre aşağıda verilen örneklerden hangisi sorumluluk olarak kabul edilemez?

- A) Duygu ve düşüncelerimizi özgürce ifade etmek
B) Okul araç ve gereçlerine zarar vermemek
C) Takım arkadaşlarımızla uyum içinde olmak
D) Oyun oynarken kurallara uymak

9.

GÜNLÜK

Sabah erkenden kalkarak annemin hazırladığı kahvaltı ile güne başladım. Okul kıyafetlerimi giyerek günlük ders programına uygun şekilde çantamı hazırlayıp okula gittim. İngilizce dersi çok zevkliydi. Kimsenin bilemediği bir soruyu sadece ben cevaplamıştım.

Nazlı'nın günlüğünde anlattıklarına göre aşağıdakilerden hangisi söylenemez?

- A) Gün içinde farklı gruplar içinde yer almaktadır.
B) Sorumluluklarını yerine getirmektedir.
C) Çevre bilincine sahip bir kişidir.
D) Katılımcı bir bireydir.

10. Hastane-
de tedavi
olmak

Sınıf ku-
rallarına
uymak



Farklılık-
lara saygı
duymak

Okula za-
manında
gelmek

Roketin havalanabilmesi için numaralandırılarak verilen örneklerin hepsinin de sorumluluk kavramına uygun olması gerekmektedir.

Buna göre roketin havalanmasını engelleyen örnek kaç numarada yer almaktadır?

- A) I B) II C) III D) IV

Nasıl Geçti? 😞 😐 😊 Doğru Yanlış Boş Net

1. Kişisel zaman planlaması yapmak, zamanımızı etkili ve verimli şekilde kullanmamızı sağlar. Kişisel zaman planlamasında oyun oynamaya vakit ayırmalı ancak ders çalışma ve kitap okumayı da ihmal etmemeliyiz.

Verilen bilgiye göre kişisel zaman planlaması yaparken öncelikle aşağıdakilerden hangisini dikkate almak gerekir?

- A) Grup ve kurumları
B) Sosyal rolleri
C) Hak ve sorumlulukları
D) Farklılıklara saygıyı

2. Anne ve babasıyla yaşayan Harun Bey, öğrencilerinin tavsiyesiyle voleybol takımına katılarak oldukça başarılı bir performans sergilemiştir.

Harun Bey'in sahip olduğu roller hangi seçenekte doğru olarak verilmiştir?

- A) Evlat - Öğretmen - Sporcu
B) Baba - Evlat - Öğretmen
C) Eş - Öğretmen - Kardeş
D) Baba - Müdür - İzcı

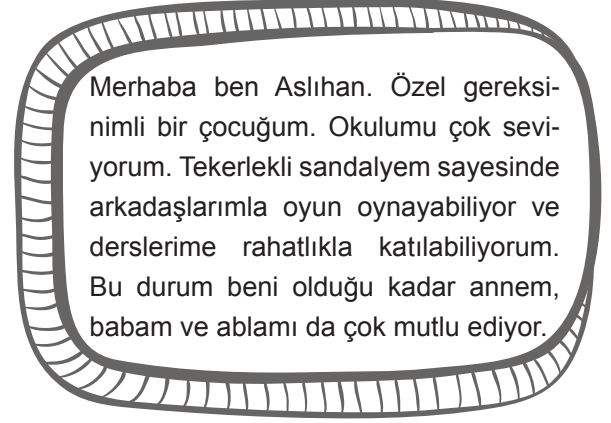
3.



Şemada "....." ile belirtilen alana aşağıdaki kavramlardan hangisinin getirilmesi uygun olur?

- A) Sorumluluk
B) Rol
C) İş bölümü
D) Hak

4.



Merhaba ben Aslıhan. Özel gereksinimli bir çocuğum. Okulumu çok seviyorum. Tekerlekli sandalyem sayesinde arkadaşlarımla oyun oynayabiliyorum ve derslerime rahatlıkla katılabiliyorum. Bu durum beni olduğu kadar annem, babam ve ablamı da çok mutlu ediyor.



Aslıhan bu konuşmasında aşağıdaki gruplardan hangisinde yer aldığına değınmemiştir?

- A) Arkadaş
B) Komşuluk
C) Aile
D) Okul

5. En az iki kişiden oluşan, ortak bir amaç için bir araya gelen, aralarında iş birliği bulunan topluluğa grup denir. Gruplarda yer alan üyeler tecrübe, beceri ve farklı bakış açıları ile gruba değer katar ve grubun diğer üyelerinin gelişimine katkı sağlar. **Buna göre aşağıdakilerden hangisinin grup olduğu söylenemez?**

- A) Aynı takımında oynayan sporcular
B) Yaya geçidinde bekleyenler
C) Mahalle arkadaşları
D) Halk oyunları ekibi

6. Ahmet Bey, gün boyu öğretmen rolünü üstlendikten sonra akşam pazara uğradığında müşteri rolündedir. Evine geldiğinde ise karısına karşı eş, çocuklarına karşı baba rolündedir. Evlerine misafir gelirse o anki eş ve baba rolüne ek olarak bir de ev sahibi rolünü de üstlenir.

Verilen örnekten yararlanarak,

- I. Aynı anda birden fazla rol sahibi olabiliriz.
- II. Müşteri olmak üstlenebileceğimiz roller içinde en önemli olanıdır.
- III. Roller çok çeşitli olabilir.

çıkarımlarından hangilerinde bulunulabilir?

- A) I ve II B) I ve III
C) II ve III D) I, II ve III
7. Ömer, ortaokul 5. sınıfa gitmekte olan bir öğrencidir ve yaşamın gereği olarak farklı ortamlarda bulunmaktadır. Ömer'in farklı ortamlarda üstlenebileceği roller aşağıdaki tabloda verilmiştir.

I	Okul	Sınıf başkanı
II	Ev	Kardeş
III	Market	Yolcu
IV	Halı saha	Oyuncu

Bu tablonun kaç numaralı satırında hata yapılmıştır?

- A) I B) II C) III D) IV
8. Yasal veya toplumsal olarak bireylere tanınan yetki ve kazanımlara hak denir. Bireyin yaptığı davranışların sonuçlarını üstlenmesine de sorumluluk denir.
- Buna göre aşağıdakilerden hangisi diğerlerinden farklıdır?**
- A) Okulu ve sınıfı temiz tutmak
B) Derslere düzenli çalışmak
C) Okula zamanında gelmek
D) Teneffüse çıkmak

9.



Görseldeki öğrenci ile ilgili aşağıdakilerden hangisi söylenebilir?

- A) Gruplar değiştiğinde rolleri de değişmektedir.
B) Tüm gruplarda aynı haklara sahiptir.
C) En önemli rolü, öğrenci rolüdür.
D) Bütün sorumluluklarını yerine getirmiştir.
10. Bireyin üzerine düşen ve yapmak zorunda olduğu görevler vardır. Bir kimsenin üzerine aldığı, yapmak zorunda olduğu ya da yaptığı bir iş için gerektiğinde hesap verme durumuna sorumluluk denir.
- Bu bilgilere göre,**
- I. Sınıfta söz hakkı aldıktan sonra konuşmak
 - II. Okulumuzdaki kütüphaneden yararlanmak
 - III. Ev işlerinde ailemize yardımcı olmak
 - IV. Çevremizi temiz tutmak
- maddelerinden hangileri sorumluluklarımızla ilgilidir?**
- A) I ve III B) II ve IV
C) I, III ve IV D) II, III ve IV

Nasıl Geçti? 😞 😐 😊 Doğru Yanlış Boş Net

1. Aşağıda Tuna'nın gün içerisinde yaptığı etkinliklerin yer aldığı günlük planı verilmiştir.



- 07.00 - 07.15 Erkenden kalkıp yatağımı topladım.
 07.15 - 08.00 Kahvaltıyı hazırlarken anneme yardım ettim. Gün içerisinde dinç olabilmek için kahvaltımı tam yaptım.
 08.00 - 08.15 Okula geç kalmamak için zamanında evden çıktım.
 08.30 - 13.00 Konuları daha iyi anlamak için öğretmenlerimi dikkatlice dinledim.
 14.00 - 15.30 Okul yüzme takımındaki antrenmanlara katıldım.
 17.00 - 18.00 Bahçemizdeki ve sokaktaki çiçekleri suladım.
 20.00 - 21.00 Kardeşimle birlikte satranç oynadım.
 21.30 - 21.45 Dişlerimi fırçaladıktan sonra tatlı bir uykuya daldım.

Bu günlük plana göre Tuna hakkında,

- I. Sorumluluk sahibi bir çocuktur.
- II. Spor faaliyetlerinde görev almıştır.
- III. Derslerinde çok başarılı bir öğrencidir.
- IV. Farklı gruplar içerisinde çeşitli roller üstlenmiştir.

çıkarmalarından hangilerine ulaşılabilir?

- A) I ve II B) III ve IV C) I, II ve IV D) I, II, III ve IV

2.



DÜNYANIN İLK KADIN SAVAŞ UÇAĞI PİLOTU SABİHA GÖKÇEN

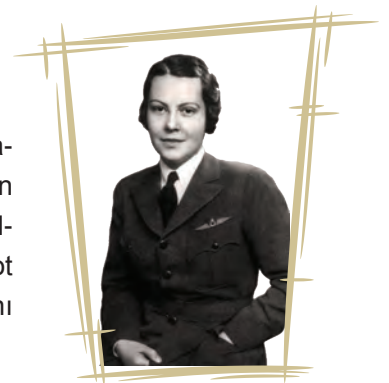
Babası ve annesinin vefatının ardından 1925 yılında Bursa'yı ziyaret eden Atatürk tarafından evlat edinilmiştir. Sabiha Gökçen, iyi bir ortaöğrenimin ardından Türk Hava Kurumunun sivil havacılık okuluna girerek yüksek planörcülük ödüllerini almıştır. Daha sonra Eskişehir Askerî Hava Okuluna girmiş ve askerî pilot ünvanını almıştır. Gökçen "Dünyanın İlk Kadın Savaş Uçağı Pilotu" ünvanını alarak Türk kadınının adını dünya tarihine yazdırmayı başarmıştır.

Verilen bilgilerden Sabiha Gökçen ile ilgili,

- I. Sahip olduğu rolleri
- II. İçinde yer aldığı gruplar
- III. Pilot olarak hak ve sorumlulukları

bilgilerinden hangisi ya da hangilerine ulaşılabilir?

- A) Yalnız II B) I ve II C) I ve III D) I, II ve III



3.



Benim adım Azra. 11 yaşındayım. Kemal Paşa Ortaokulu 5. sınıf öğrenciyim. İki tane kardeşim var. Babam, doktor; annem ise ev hanımıdır. Ailemle zaman geçirmeyi çok seviyorum. Hafta sonları dedemi ve babaannemi görmek için otomobilimizle sık sık il dışına çıkarız. Dedemlerin yaşadığı köy çok şirin bir yerdir. Köye gitmişken akrabalarımızı da ziyaret ederiz. Yavuz amcamın kızı benimle aynı yaştadır ve onunla seksek oynamayı çok seviyorum.

Bu anlattıklarına göre Azra kaç farklı rol üstlenmiştir?

- A) 2 B) 4 C) 6 D) 8

4. Kerem, okulun halk dansları ekibindeydi. Genellikle haftada bir kez çalışma yapıyorlardı. Üç ay sonra katılacakları çok önemli bir gösteri vardı. Kerem çalışmalara düzenli olarak gelmemeye başlamıştı. Bu yüzden birçok oyunu karıştırıyor ve oyunun aksamasına neden oluyordu. Gösteri günü geldiğinde de Kerem oyunu karıştırmış ve ekibin birçok sıkıntı yaşamasına neden olmuştu.

Verilen bilgiye göre Kerem hakkında,

- I. Görev ve sorumluluklarını aksatmıştır.
II. Okulda yalnızca öğrencilik rolüne sahiptir.
III. Grubun başarısını olumsuz etkilemiştir.

yargılarından hangilerine ulaşılabilir?

- A) I ve II B) I ve III C) II ve III D) I, II ve III

5. Aşağıda 5. sınıf öğrencisi Beyza'nın katıldığı gruplardaki sahip olduğu roller ile bu rollerin gerektirdiği hak ve sorumluluklar verilmiştir.

	Ailede	Okulda	Basketbol takımında
Rolleri	Çocuk	Öğrenci	Oyun kurucu
Hakları	Anne ve babasına yardımcı olmak	Okulun imkânlarından faydalanmak	Smaç yapmak
Sorumlulukları	Sevgi görmek	Okul kurallarına uymak	Takım hücumunu organize etmek

Tablodaki bilgilerin doğru olabilmesi için aşağıdaki değişikliklerden hangisinin yapılması gerekir?

- A) Okuldaki rolü ile ailedeki rolü yer değiştirilmelidir.
B) Basketbol takımındaki hakkı ile basketbol takımındaki sorumluluğu yer değiştirmelidir.
C) Ailedeki hakkı ile ailedeki sorumluluğu yer değiştirmelidir.
D) Ailedeki sorumluluğu ile okuldaki hakkı yer değiştirmelidir.

6. 5. sınıf öğrencisi Zeynep'in aşağıdaki görselleri hak ve sorumluluk olarak gruplandırması gerekmektedir.



Kanunlara uymak



Hastalanınca doktora gitmek



Ödevlerimizi yapmak



Ev işlerinde ailemize yardımcı olmak

Buna göre Zeynep aşağıdaki işaretlemelerden hangisini yaparsa etkinliği doğru bir şekilde tamamlamış olur?

A)

	Hak	Sorumluluk
I		✓
II	✓	
III		✓
IV		✓

B)

	Hak	Sorumluluk
I		✓
II		✓
III	✓	
IV		✓

C)

	Hak	Sorumluluk
I	✓	
II		✓
III	✓	
IV	✓	

D)

	Hak	Sorumluluk
I	✓	
II	✓	
III		✓
IV	✓	

7.



Merhaba adım Melis. Gazi Ortaokulu 5. sınıfta öğrenim görüyorum. Bir abim ve bir ablam var. Evimizin en küçük üyesi benim. En sevdiğim spor voleybol. Okul voleybol takımına girmek için hazırlanıyorum.

Buna göre aşağıdakilerden hangisi Melis'in üstlendiği rollerden biri değildir?

A) Kulüp üyesi

B) Öğrenci

C) Kardeş

D) Evlat

8.



Kocaman bir gemide küçük mü küçük bir çivi varmış. Bu çivi gemi tahtalarını birbirine bağlayan çivilerden biriymiş. Çivi her gün gemidekileri incelemiş. Tahtaların, çeliklerin, halatların büyük görevler yaptıklarını görmüş. Kendi kendine,

- Bu gemide herkes çok önemli işler yapıyor. Ama ben küçücüğüm. Bu gemide hiçbir işe yaramıyorum. Bari buradan çıkıp gideyim, demiş. Bu konuşmaları gemide duymayan kalmamış. Bütün levhalar, tahtalar, çiviler, halatlar, lastikler hep bir ağızdan küçük çiviye seslenmişler,

- Sakın ha, yerinden ayrılma! Yoksa gemi paramparça olur. Hepimiz denizde kayboluruz.

(Nefise Atçakarlar, Masallarla Değerler Eğitimi Bir Varmış Bir Yokmuş Masal Parkı, s.109-110)

Bu metin aşağıdaki kavramlardan hangisinin önemini vurgulamak için yazılmış **olamaz**?

- A) Rol B) Sorumluluk C) Hak D) İş birliği

9. "Haklarımız, beraberinde sorumluluklar da getirir." diyerek derse başlayan sosyal bilgiler öğretmeni açıklamasına örnek vermek amacıyla "....." ile devam etmiştir.

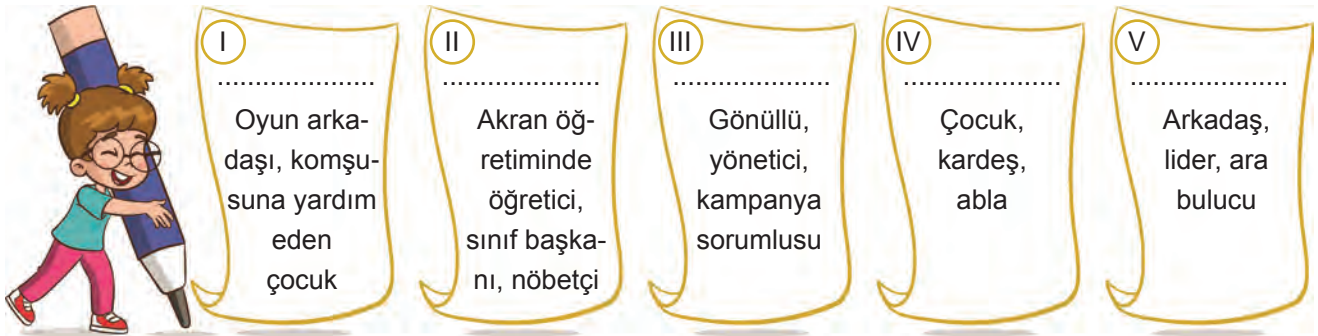
Yukarıdaki cümlede "....." ile boş bırakılan yere,

- I. Araştırma yapmak için kütüphaneye gittiğimizde sessiz olmalıyız.
II. Temiz ve sağlıklı bir çevrede yaşamak istiyorsak yerlere çöp atmamalıyız.
III. Kamu hizmetlerini kesintisiz almak için vergilerimizi düzenli ödemeliyiz.

ifadelerinden hangileri getirilebilir?

- A) I ve II B) I ve III C) II ve III D) I, II ve III

10. Gizem aile, komşuluk, arkadaş, okul ve sosyal sorumluluk grupları olmak üzere dâhil olduğu grupları beş gruba ayırır. Dâhil olduğu bu gruplarda üstlenebileceği olası rolleri aşağıdaki kartlara yazar.



Buna göre Gizem'in dâhil olduğu gruplar hangi seçenekte daha uygun olarak eşleştirilmiştir?

	Aile	Komşuluk	Arkadaş	Okul	Sosyal sorumluluk
A)	II	III	I	IV	V
B)	IV	I	V	II	III
C)	III	II	IV	I	V
D)	IV	I	III	V	II

1. Hıdırellez, Nevruz, Kurban Bayramı, düğün, yaya şenlikleri gibi kültürümüzün önemli bir parçası olan özel günler, insanların bir arada yaşaması için önemli unsurlardır. Bu günlerde insanlar bir araya gelir, sohbetler edilir, birlikte yenilir içilir ve hoşça vakitler geçirilir.

Buna göre kültürümüzün önemli bir parçası olan özel günlerin toplumsal hayata öncelikli katkısı aşağıdakilerden hangisi olabilir?

- A) Birlik ve beraberliğimizi güçlendirmesi
- B) Ekonomik faaliyetleri canlandırması
- C) Bilimsel çalışmaları hızlandırması
- D) Tasarruf bilincini geliştirmesi

2. Türk kültürünü ve âdetlerini yansıtan, kuşaktan kuşağa aktarılan çeşitli geleneksel çocuk oyunlarımız vardır.

Aşağıdakilerden hangisi bu oyunlarımızdan biri değildir?

- A) İstop
- B) Körebe
- C) Beştaş
- D) Beyzbol

3. Kültür, bir milletin tarih boyunca meydana getirdiği maddi ve manevi değerlerinin bütünüdür. Bir toplumu millet yapan ve diğer milletlerden ayıran önemli bir değerdir. Kültür, toplum içinde dayanışma, birlik ve beraberliğin sağlanmasında önemli bir yer tutar.

Buna göre Türk kültürünü yansıtan öğeler arasında,

- I. Sanat
- II. Bayramlar
- III. Halk oyunları
- IV. Gelenek ve görenekler

hangilerinin yer alması beklenir?

- A) I ve III
- B) II ve IV
- C) II, III ve IV
- D) I, II, III ve IV

4.



Öğretmen söylediği cümle doğrultusunda öğrencilerinden ipli kukla ile canlandırmalar yapmalarını istemiştir.

Öğrenciler bu canlandırmalarda aşağıdaki cümlelerden hangisini savunursa öğretmenin sözleri ile ters düşerler?

- A) Kültürel zenginlikleri tanımak ve onlara saygı duymak gerekir.
- B) Birlikte yaşayabilmek için farklılıkları yargılamamalıyız.
- C) Farklı kültürlerden olan insanları ötekileştirmek gerekir.
- D) Kültürel zenginlikler bizleri geliştirir ve büyütür.

5. Ukraynalı bir yazılım mühendisi olan Igor, çalışmak için ailesi ile birlikte Türkiye'ye geldi. Bu taşınma işi küçük kızları Tanya'nın çok hoşuna gitmemiştir. Yeni bir kültür ve bilmediği bir dille karşılaşan Tanya kendisini ifade etmekte zorlanmış ve yalnızlık hissetmişti.

Ülkemize uyumu için Tanya'ya aşağıdaki önerilerden hangisinde bulunmak doğru olmaz?

- A) Türkçeyi ve Türk kültürünü öğrenmeye çalışmalısın.
- B) Farklı kültürel özellikleri kendi kültürünle karşılaştırarak eleştirmelisin.
- C) Yeni arkadaşlar edinerek onlarla etkileşime girmelisin.
- D) Kültürel özelliklere saygı duymalısın.

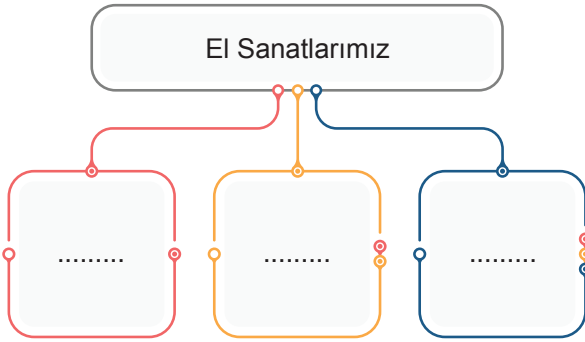
6. Yurt dışından Türkiye'ye eğitim veya turizm amaçlı birçok insan gelmektedir. Kültürel saygımızdan ve misafirperverliğimizden etkilenen bu insanların bir kısmı ülkemize yerleşmektedir.

Yurt dışından gelen bu misafirlerin,

- I. Milletler arasındaki ön yargıların ortadan kalkması
 - II. Ülkeler arası etkileşimin artması
 - III. Uluslararası ticaretin kesintiye uğraması
- durumlarından hangilerine ortam hazırlaması beklenir?**

- A) I ve II
B) I ve III
C) II ve III
D) I, II ve III

7.



Şemada "....." ile belirtilen alanlara aşağıdaki örneklerden hangisinin yazılması uygun olmaz?

- A) Çinicilik
B) Halıcılık
C) Zeybek
D) Ebru
8. Kanadalı ressam John, tatil için Rize'ye geldi. Buranın doğasına ve kültürüne hayran kaldı. Horon oynamasını öğrendi. Bu güzellikleri tabii ki tuvaline yansıtmaktan da kendini alıkoyamadı. Yöre halkı ile çok samimi bir bağ kuran John, gelecekte Rize'ye yerleşmeyi planladığını da belirtti. **Bu örnekte farklı kültürel özelliklere sahip insanların bir araya gelmesini sağlayan durum aşağıdakilerden hangisidir?**
- A) Eğitim
B) Turizm
C) Savaş
D) Spor

9.



Azra

Tarihî ve kültürel bağlarımız olan bu ülke kızartılmış hellim peyniri, sirtto oyunu, keten kumaştan yapılan efkara nakışı ile tanınır. İşlemeli cepken geleneksel kıyafetleridir. Darbuka, zurna ve ud en çok kullandıkları müzik aletleridir.

Azra aşağıdaki ülkelerden hangisi hakkında bilgi vermiştir?

- A) Kuzey Kıbrıs Türk Cumhuriyeti
B) Türkmenistan
C) Bulgaristan
D) Rusya

10.



Bulgaristan

Verilen görselden Bulgaristan'ın kültürel özelliklerinden,

- I. Halk oyunları
- II. Kıyafet
- III. Yemek
- IV. Müzik

hangileri hakkında bilgi edinilebilir?

- A) I ve IV
B) II ve III
C) I, II ve IV
D) II, III ve IV

1. Devletimiz, iç karışıklıklar ve savaş gibi sebeplerden ülkemize gelen birçok sığınmacıya kapılarını açarak insani bir yaklaşım sergilemiştir. Milletimiz ekmeğini ve aşını bu mazlum insanlarla paylaşmıştır.

Bu durum Türk milletinin,

- I. Misafirperverlik
II. Yardımlaşma
III. Dayanışma

özelliklerinden hangilerine sahip olduğunu gösterir?

- A) I ve II
B) I ve III
C) II ve III
D) I, II ve III

2.



Japonya

Rusya

İspanya

Bu görseller ülkelerin kültürel özelliklerinin hangi açıdan farklılaştıklarını kesin olarak kanıtlar?

- A) Yemek
B) Kutlama
C) Müzik
D) Kıyafet

3. Almanya'dan gelen işçi talebi üzerine 1960-1965 yılları arasında birçok vatandaşımız çalışmak amacıyla Almanya'ya gitmiştir. Bu vatandaşlarımız Almanya ile ilişkilerimizin gelişmesine katkı sağlamışlar ve Alman toplumu ile uyum içinde yaşamışlardır. Hatta Almanya'ya tanıttıkları döner burada en popüler yemeklerden biri hâline gelmiştir.

Bu örnekte farklı kültürel özelliklere sahip insanların bir araya gelerek uyum içinde yaşamasına ortam hazırlayan durum aşağıdaki alanlardan öncelikle hangisi ile ilgilidir?

- A) Askerî
B) Ekonomi
C) Sanat
D) Eğitim

4.



“23 Nisan Ulusal Egemenlik ve Çocuk Bayramı”, Mustafa Kemal Atatürk tarafından Türk çocuklarına armağan edilen bir bayramdır. Günümüzde yabancı ülke çocukları da 23 Nisan şenliklerine misafir olarak katılmaktadır.

Verilen bu bilgilerden yola çıkarak ülkemiz hakkında aşağıdaki yargılardan hangisine ulaşılamaz?

- A) Çocuklara bayram hediye ederek bu bayramı bütün dünya ile paylaşmıştır.
B) Birçok millet ve kültürün bir araya gelmesine imkân sağlamıştır.
C) Farklı kültürden çocukları ötekileştirerek onları dışlamıştır.
D) Birçok kültürden çocuğun birlik ve beraberliğine uygun ortam oluşturmuştur.

5. Aşağıda Türk kültüründe bireylerin birbiriyle selamlaşma şekillerinden bazıları verilmiştir.



El öpme

Sarıma

El sıkışma

Selamlaşmanın aşağıdakilerden hangisine ortam hazırlaması beklenilemez?

- A) Toplumsal çatışmaya
B) İletişimin artmasına
C) Birlikte yaşamaya
D) Sosyal etkileşime

6. Televizyon izleyen Burak, "Rusya'da kışın bitişi, baharın müjdeleyicisi anlamına gelen Maslenitsa Bayramı başkent Moskova'da çeşitli etkinliklerle kutlandı." haberini dinledikten sonra bu bayramın Türk kültüründeki Bayramı'na benzediğini fark etmiştir.

Verilen cümlede "....." ile boş bırakılan yere aşağıdakilerden hangisi yazılmalıdır?

- A) Ramazan B) Cumhuriyet
C) Nevruz D) Kurban

7.



"Türk zekâ ve strateji oyunu" olarak nitelendirilen oyun yukarıdakilerden hangisidir?

- A) I B) II C) III D) IV

8. Türkmenistan'da erkekler telpek adı verilen koyun postundan yapılan bir başlık takarlar. Türkmen gelinleri ise düğünlerinde millî giysileri olan "Kürte" giyerler. Geleneksel tezgâhlarda dokunmaya devam eden Türkmen halıları oldukça ilgi görür. Etli Türkmen pilavı Türkmenistan'da düğünlerin, kutlamaların ve bayramların vazgeçilmez ikramları arasındadır.

Verilen bu bilgilerde Türkmenistan'ın aşağıdaki kültürel öğelerinden hangisine değnilmemiştir?

- A) Müzik aletlerine B) Kıyafetlerine
C) El sanatlarına D) Yemeklerine

9. Ülkemizdeki bir basketbol takımında oynayan yabancı oyuncular farklı ülkelerdeki insanlarla uyum içinde birlikte yaşama kültürü oluşturulabileceğini aşağıdaki sözlerle ifade etmişlerdir.

Farklı ülkelerden sporcularla bir araya gelerek onlarla kaynaştık.



Basketbol sosyal hayata uyum sağlamama katkıda bulundu.

Bu konuşmalara göre basketbolun farklı ülkelerden insanları bir araya getirmesi aşağıdaki kavramlardan hangisini ön plana çıkarmış olamaz?

- A) Nezaket B) Ön yargı
C) Anlayış D) Saygı

10.



Ege yöresine ait bir halk oyunudur. Tek kişi tarafından oynandığı gibi birkaç kişinin çember şeklinde bir araya gelmesiyle toplu hâlde de oynanabilir. Büyük adımlar ve ağır hareketlerle oynanır. Cesaret, yiğitlik, mertlik gibi duyguları yansıtır.

Hakkında bilgi verilen halk oyunu aşağıdakilerden hangisidir?

- A) Kafkas B) Karşılama
C) Halay D) Zeybek

Nasıl Geçti? 😞 😐 😊 Doğru Yanlış Boş Net

1.

KÖREBE



Geleneksel çocuk oyunları, millî kültür öğelerimizden biridir. Türkiye ve dünya genelinde oynanan geleneksel çocuk oyunlarından biri de körebe oyunudur.

Oynanma Şekli:

Oyuncular arasından bir ebe belirlenir ve ebenin gözleri bağlanır. Oyun, adını ebenin gözlerinin bağlanmasından alır. Ebe, bu sırada kollarını öne doğru uzatarak dokunduğu oyuncunun başını, yüzünü ve üstünü elleriyle yoklar. Kim olduğunu anlayabilirse adını söyler. Eğer tanırsa dokunduğu oyuncu ebe olur. Tanıyamazsa oyun aynı ebeyle devam eder.

Oynandığı Bazı Ülkeler:

Nijerya, Kazakistan, Kırgızistan, Özbekistan, Türkmenistan, Almanya, Fransa, İngiltere.

Verilen bilgilerden hareketle,

- I. Geleneksel çocuk oyunları millî kültürümüzün bir parçasıdır.
- II. Farklı kültürlerde aynı oyunlar yer alabilir.
- III. Körebe oyunu en fazla üç oyuncu ile oynanabilir.

çıkarmalarından hangisi ya da hangilerinde bulunulabilir?

- A) Yalnız I B) I ve II C) II ve III D) I, II ve III

2.



İnsanları birbirine yaklaştıran geleneklerimizden biri de "aşure günü"dür. İslam inancına göre Nuh Peygamber, Muharrem ayının 10. günü Tufan olayından sonra kara-ya çıktığında elindeki son malzemelerle aşure yemeğini yapmıştır. Kültürümüz içinde ayrı bir yeri olan aşureyi, bazı vakıf ve belediyeler halka ve turistlere ikram eder. Bu ikramlarda birçok millet ve kültürün bir araya gelmesi, farklı ürünlerin aynı kazanda bir araya gelip güzel bir lezzet oluşturması gibi kültürel bir tat ve zenginlik sağlamaktadır.

Verilen bu bilgilerden yola çıkarak aşure günü hakkında,

- I. Eski geleneklerin sona erdiğini gösterir.
- II. Kültürel etkileşime ortam hazırlar.
- III. Paylaşma duygusunu güçlendirir.

yorumlarından hangileri yapılabilir?

- A) I ve II B) I ve III C) II ve III D) I, II ve III

3. T.C. Millî Eğitim Bakanlığınca, Türkiye'nin nitelikli insan kaynağı ihtiyacını karşılamak amacıyla 850 öğrenci, resmî burslu statüde lisansüstü öğrenim görmek üzere yurt dışına gönderilecek. Öğrenciler, bu kapsamda 69 farklı ülkede öğrenim görebilecek.

Genel ağ haberi

T.C. Millî Eğitim Bakanlığı tarafından planlanan bu etkinliğin, etkinliğe katılacak öğrencilere katkısı aşağıdakilerden hangisi olamaz?

- A) Farklı kültürel özelliklere sahip insanlarla uyum içinde yaşamayı öğrenmek
B) Ülkelerin kültürlerini kendi kültürümüzle kıyaslayarak onları eleştirmek
C) Ülkelerin dili, kültürel mirası ve çeşitliliği hakkında bilgi edinmek
D) Mesleki ve kültürel gelişimlerini destekleyen eğitimler almak
4. Milletlerin kültürel özelliklerinden biri de selamlaşmaktır. Selamlaşma şekilleri kültürden kültüre değişse de selamlaşmanın topluma olan katkıları büyüktür.



İnsanlar büyüklerinin elini alnına koyarak selamlaşırlar.

İnsanlar başlarını hafifçe öne eğerek selamlaşırlar.

İnsanlar birbirini yanaktan öperek selamlaşırlar.

Selamlaşmanın topluma olan katkıları arasında,

- I. Aile, akrabalık ve komşuluk bağlarının güçlenmesi
II. Birlik ve beraberlik duygusunun canlanması
III. Karşılıklı sevgi ve saygının artması

hangisi ya da hangileri yer alır?

- A) Yalnız III
B) I ve II
C) II ve III
D) I, II ve III
5. Anadolu; Asya, Avrupa ve Afrika kıtalarını birbirine bağlayan bir köprü konumundadır. Coğrafi konumunun elverişliliğinin yanı sıra uygun iklim koşullarına, verimli tarım arazilerine ve doğal kaynaklara sahiptir. Ayrıca Anadolu önemli göç ve ticaret yolları üzerinde bulunmaktadır. Bu nedenle Anadolu tarih boyunca önemli bir yerleşim ve uygarlık merkezi olmuştur. Uygarlığın beşiği olarak da adlandırılan Anadolu, tarih boyunca birçok kültür ve medeniyete ev sahipliği yapmıştır.
- Buna göre Anadolu topraklarının bizlere bıraktığı önemli miras aşağıdakilerden hangisi olamaz?**
- A) Kültürel özelliklere saygı duymak
B) Kültürel zenginlikleri tanımak
C) Farklılıkları yargılamak
D) Birlikte yaşayabilmek

6. Bir toplumun ürettiği, nesilden nesile aktarılan maddi ve manevi değerlerin tümüne kültür denir. Kültür, toplumsal kimliği oluşturan önemli bir ögedir. Kültürel kimlik sayesinde bir toplum diğer toplumlardan ayrılır. Toplamların kendine özgü tarihî, dili, sanatı, inançları, örf ve âdetleri, anlayış ve davranış biçimleri vardır.

Buna göre aşağıdaki görsellerden hangisi Türk kültürüne örnek olarak verilemez?

A)



B)



C)



D)



7.



Ebru sanatı, özel olarak hazırlanmış suyun üzerine fırça ve çeşitli aletler yardımıyla istenilen desenlerin yapılması ve bunların kâğıt üzerine aktarılmasıyla yapılır. İlk örnekleri Orta Asya'da görülen ebru sanatı Türkler tarafından Anadolu'ya getirilmiştir. Ebru sanatı, 2014 yılı itibarıyla ülkemiz adına UNESCO tarafından İnsanlığın Somut Olmayan Kültürel Mirası Temsili Listesi'ne kaydedilmiştir.

Bu bilgilerden hareketle ebru sanatı hakkında,

- I. Türkler uzun yıllar boyunca bu sanat dalı ile ilgilenmiştir.
- II. Uluslararası bir kuruluş tarafından korunmak istenmiştir.
- III. Ülkemizde sadece çocuklar tarafından yapılmaktadır.

Yorumlarından hangileri yapılabilir?

A) I ve II

B) I ve III

C) II ve III

D) I, II ve III

8. Dünya Etnospor Konfederasyonu tarafından 2016 yılından bu yana düzenlenen, renkli etkinlikler ve çekişmeli mücadelelerle geleneksel spor ve kültür şenliğine dönüşen Etnospor Kültür Festivali, geleneksel sporlar ve oyunlar kapsamında dünyanın en geniş katılımlı festivalidir. Farklı ülkeleri temsil eden yüzlerce sporcunun kazanmak için azim ve kararlılıkla mücadele ettiği festivalde; ülkelere özgü geleneksel etkinlikler, geleneksel lezzetler ve geleneksel yaşam ritüelleri de başrol oynamaktadır. Farklı milletlerden pek çok katılımcının kültürlerini sergilemesine olanak sağlayan festival, her sene bir katılımcı ülkenin geleneksel sporunu öne çıkarmaktadır.

Verilen bu bilgilere göre Etnospor Kültür Festivali'nin aşağıdakilerden hangisine ortam hazırlaması beklenilemez?

- A) Barış ve huzur ortamının oluşmasına
B) Toplumlar arası ayrılıkları derinleştirmeye
C) Birlikte yaşam kültürü oluşturmaya
D) Kültürel özelliklere saygı duymaya

9.



Cumalıkızık köyü, Osmanlı dönemi konut dokusunu günümüze kadar koruyan evlere sahip tarihi bir mekandır. Osmanlıların Bursa'da ilk yerleştikleri yerlerden biridir. Yaklaşık 700 yıllık bir geçmişe sahip olan köyde 270 civarında ev bulunmaktadır. İki veya üç katlı olan evler; moloz, taş, kerpiç ve ağaçtan yapılmıştır.

Cumalıkızık köyündeki bu evler aşağıdaki kültürel unsurlarımızdan öncelikle hangisini örneklendirmek amacıyla kullanılabilir?

- A) Halk oyunlarımızı
B) Geleneksel kıyafetlerimizi
C) Mimari eserlerimizi
D) Ahlak kurallarımızı
10. Kültürümüzün en önemli öğelerinden biri geleneksel yemeklerimizdir. Yemek kültürümüz iklime bağlı olarak yöreden yöreye farklılıklar göstermektedir. Yemeklerimizin dışında yörelerimize özgü geleneksel çorbalarımız, tatlılarımız, şekerlemelerimiz ve şerbetlerimiz de bulunmaktadır.
- Aşağıdakilerden hangisi geleneksel lezzetlerimizden biri değildir?**
- A) Vinegret salatası
B) Baklava
C) Zeytinyağlı sarma
D) Kebap

Nasıl Geçti? 😞 😐 😊 Doğru Yanlış Boş Net

1. Mustafa Kemal Paşa, Millî Mücadele Dönemi'nde ordunun ihtiyaçlarını halktan karşılamak için Teklif-i Millîye Emirlerini yayımladı. Yayımlanan emirler karşısında Türk milleti hiçbir fedakârlıktan kaçmadı ve ordusuyla iş birliği yaptı. Vatanın kurtuluşunu sağlayacak olan ordusuna destek oldu. Ülkesi için maddi ve manevi bütün kaynaklarını seferber etti.

Bu durum Türk milletinin,

- I. Millî birlik ve beraberlik
II. Yardımlaşma
III. Dayanışma

anlayışlarından hangilerine sahip olduğunu gösterir?

- A) I ve II
B) I ve III
C) II ve III
D) I, II ve III

2. Sosyal sorumluluk projelerinin güçlü ve zayıf yönlerini doğru bir şekilde belirlemek projelerin başarısı açısından oldukça önemlidir.

Aşağıdakilerden hangisi sosyal sorumluluk projelerinin güçlü yönlerinden biri olamaz?

- A) Okul idaresinin sosyal sorumluluk projelerine önem vermesi
B) Grup üyelerinin düşüncelerini özgürce ifade edebilmesi
C) Projenin belli bir plan içinde yürütülmesi
D) İhtiyaç listesinin eski olması

3. Toplumsal birlikteliğin oluşturulmasında ve sürdürülmesinde dayanışma ve yardımlaşma önemli bir yere sahiptir. Dilimizde yardımlaşma ve dayanışmanın önemi ile ilgili pek çok sayıda atasözü vardır.

Aşağıdakilerden hangisi bu atasözlerinden biri olamaz?

- A) El elin eşeğini türkü söyleyerek çağırır.
B) Bir elin sesi var iki elin sesi var.
C) Yalnız taş duvar olmaz.
D) Nerde birlik orda dirlik.

4.



Hazırladıkları proje dikkate alındığında bu öğrencilerin aşağıdaki tutum ve davranışlardan hangisini benimsedikleri söylenemez?

- A) İnsan sevgisi
B) Dayanışma
C) Ön yargı
D) Fedakârlık

5.



Öğrencilerimle hazırladığımız sosyal sorumluluk projesi sürecinde çekilen fotoğraf ve videoları kullanarak dijital bir sunu hazırladık. Bu sunuyu okulumuzun bütün sınıflarındaki öğrencilere izlettik. Çalışmalara yönelik

görseller ve hazırlanan okuma metinlerini sınıf sosyal medya panosunda sergiledik. Projemizle ilgili haberlerin yerel gazetelerde yayımlanmasına da çok sevindik.

Öğretmen bu proje ile öğrencilerine aşağıdakilerden hangisini kazandırmış olamaz?

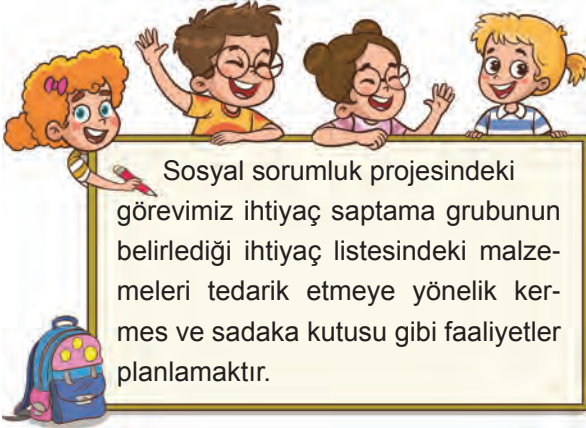
- A) Kişisel başarıya odaklanma
B) Birlik ve beraberlik duygusu
C) Sosyal farkındalık oluşması
D) Sorumluluk üstlenebilme

6. Ağrı'daki okullarda eğitim gören öğrenciler, Kahramanmaraş merkezli 6 Şubat'ta meydana gelen depremlerden etkilenen Hatay'daki çocuklara yalnız olmadıklarını hissettirmek amacıyla oyuncak gönderdi.

Yukarıdaki yardım faaliyeti ile ilgili aşağıdaki sorulardan hangisinin cevabına ulaşamaz?

- A) Kime? B) Neden?
C) Nasıl? D) Kim?

7.



Görevleri hakkında bilgi veren bu öğrencilerin aşağıdaki gruplardan hangisinde yer alması daha uygundur?

- A) Kampanya sorumlusu
B) Faaliyet yürütücüleri
C) Kaynak belirleyici
D) Yönetici

8. Toplumsal birlikteliğin oluşturulmasında ve sürdürülmesinde ve önemli bir yere sahiptir.

Verilen cümlede boş bırakılan yerlere aşağıdaki kavramlardan hangisi yazılamaz?

- A) farklılıklara saygı B) duyarsızlık
C) yardımlaşma D) dayanışma

9. Aşağıda sosyal sorumluluk projesi ile ilgili hazırlanan bir yönerge verilmiştir.

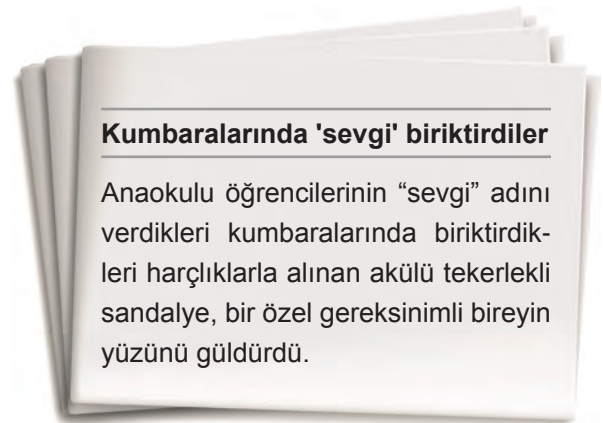
YÖNERGE

- (I) Sosyal sorumluluk projesi hazırlamak için öğretmeniniz rehberliğinde beş grup oluşturunuz.
(II) MEB'e bağlı kurum ve kuruluşlar tarafından yapılmış örnek projeleri inceleyerek proje fikirleri üretiniz.
(III) Ortaya çıkan fikirleri sınıf içinde müzakerede ediniz.
(IV) Ortaya çıkan fikirlerden birini sınıf başkanına seçtiriniz ve uygulamak üzere tasarıya dönüştürünüz.

Bu yönergede yer alan cümlelerden hangisinde demokratik olmayan bir ifade vardır?

- A) I B) II C) III D) IV

10.



Gazete haberindeki öğrenciler ile ilgili aşağıdakilerden hangisi söylenemez?

- A) Çevrelerindeki sorunlara duyarsız kalmamışlardır.
B) Toplumsal yardımlaşma ile ilgili yasa çıkarmışlardır.
C) Özel gereksinimli bireylere destek olmuşlardır.
D) Sosyal sorumluluk projesi geliştirmişlerdir.

1. Konya Selçuklu Değerler Eğitimi Projesi kapsamında birçok okulda "İtimat Bakkaliyesi" köşesi kuruldu. Öğrenciler, doğruluk bölümünden aldıkları ürünün ücretini kasaya koyuyor ve para üstünü de yine kendileri alıyorlar. Yardım yapmak isteyen öğrenciler ise aldıkları ürünleri cömertlik bölümüne bırakıyorlar. Böylece okula beslenme getiremeyen veya parası olmayan arkadaşlarına yardım ediyorlar.

Bu uygulamanın sonuçları arasında aşağıdakilerden hangisi yer almaz?

- A) Kardeşlik ve dostluk duygularını geliştirir.
B) Toplumsal barışa katkı sağlar.
C) Birlik ve beraberliği güçlendirir.
D) Siyasi çekişmelere neden olur.

2. I. Zekât ve sadaka toplumsal dayanışma ve yardımlaşmayı güçlendirir.
II. Kültürümüzde yardımlaşma ve dayanışmanın herhangi bir önemi bulunmamaktadır.
III. Sivil toplum kuruluşları gönüllülük esasına dayalı olarak yaptıkları çalışmalarla toplumda dayanışmanın oluşmasına katkı sunarlar.

Yukarıda verilen bilgilerden hangileri doğrudur?

- A) I ve II
B) I ve III
C) II ve III
D) I, II ve III

3. Bireyin kendi gücünü ve imkânlarını başka birinin iyiliği için kullanmasına denir. Bir topluluğu oluşturan kişilerin bir şeyi gerçekleştirmek için duygu, düşünce ve çıkar birliği göstermesine, birbirini kollamasına denir. **Verilen cümlelerde "....." ile boş bırakılan yerlere sırasıyla gelmesi gereken kavramlar hangi seçenekte doğru olarak verilmiştir?**

- A) fedakârlık - bencillik
B) ayrışma - çatışma
C) yardımlaşma - dayanışma
D) hoşgörü - saygı

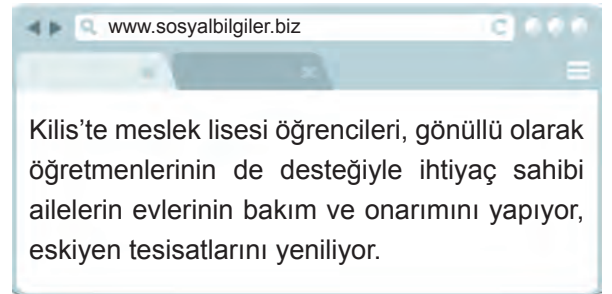
4. Aşağıdaki öğrenciler sınıfça hazırladıkları sosyal sorumluluk projesinde kendi gruplarına düşen görevlerden bazılarını açıklamışlardır.



Buna göre bu öğrencilerin aşağıdaki gruplardan hangisinde yer alması daha uygundur?

- A) Kampanya sorumlusu
B) Faaliyet yürütücüsü
C) Kaynak belirleyici
D) İhtiyaç saptama

- 5.



Bu etkinlikte görev alan meslek lisesi öğrencilerinde,

- I. İnsan sevgisi
II. Dayanışma
III. Fedakârlık

değerlerinden hangilerinin gelişmesi beklenir?

- A) I ve II
B) I ve III
C) II ve III
D) I, II ve III

6. Furkan ve sınıf arkadaşları Kahramanmaraş Depremi'nde zarar gören ailelerin ihtiyaçlarını gidermek için okullarında kermes düzenlemişlerdir. Topladıkları parayı da depremzedeler için açılan banka hesabına yatırmışlardır.

Buna göre Furkan ve arkadaşları hakkında,

- I. Sorunlara karşı duyarsız kalmışlardır.
- II. Uluslararası birlik ve beraberliğe katkı sağlamışlardır.
- III. Sosyal yardımlaşma ve dayanışmaya önem vermişlerdir.

çıkarmalarından hangisi ya da hangilerinde bulunulabilir?

- A) Yalnız II B) Yalnız III
C) I ve III D) II ve III

7. Öğrenciler deprem bölgesine yönelik AFAD tarafından hazırlanan ihtiyaç listesini de dikkate alarak sosyal sorumluluk projeleri için aşağıdaki ihtiyaç listesini hazırlamışlardır.



Öğrenciler tarafından hazırlanan bu ihtiyaç listesinde hangi alanla ilgili bir ürün yoktur?

- A) Temizlik B) Kırtasiye
C) Kıyafet D) Gıda
8. Aşevi, maddi durumu yetersiz veya bakıma muhtaç kimselere ücretsiz olarak yemek verilen yerdir. İhtiyacı olan insanlar aşevlerine gelerek burada hazırlanan yemeklerden alabilmektedir. Aşevlerinin faaliyetlerini yürütebilmelerinde hayırseverlerin bağışları etkilidir. Ülkemizin çeşitli yerlerinde aşevleri vardır.

Aşevleri toplumumuzda aşağıdakilerden hangisinin geliştiğini gösterir?

- A) Yardımlaşma ve dayanışmanın
B) Demokratik devlet anlayışının
C) Sağlık hizmetlerinin
D) Ticari faaliyetlerin

9. 5-A sınıfı öğrencileri yaşlılara yönelik aşağıdaki sosyal sorumluluk projesi fikrini ortaya atmışlardır.



Yakın çevremizde yaşayan bakıma muhtaç yaşlıları belirleyeceğiz. Bu kişileri ayın belli dönemlerinde ailemizle birlikte ziyaret edeceğiz.

Seçeneklerin hangisinde bu fikrin zayıf yönü vurgulanmıştır?

- A) Çevremizde bakıma muhtaç yaşlı bireylerin olması
B) Konuksever bir toplum olmamız
C) Ailelerimizin çalıştıkları için zamanlarının kısıtlı olması
D) Arkadaşlarımızın istekli olması

- 10.



Türk Kızılay, bazı illerde "2. El Tekstil" projesi başlatmıştır. Kutular aracılığı ile bağışlanan kıyafet ve tekstil ürünleri barınma, gıda, sağlık, giyim ve eğitim desteği gibi Kızılay iyilik faaliyetlerinde kaynak oluşturmak için değerlendirilmektedir.

Aşağıdakilerden hangisi Türk Kızılay tarafından başlatılan bu projenin sağlayacağı bireysel ve toplumsal katkılar arasında yer almaz?

- A) İnsanlarla iletişimimizi zayıflatır.
B) Sosyal bağlarımızı güçlendirir.
C) Bir arada yaşamamızı sağlar.
D) Toplumsal huzuru artırır.

Nasıl Geçti? 😞 😐 😊 Doğru Yanlış Boş Net

1.

OYUNCAKSIZ ÇOCUK

KALMASIN



Arkadaşlarımla sosyal sorumluluk projesi hazırlamaya karar verdik. Bu amaçla sınıfta “yönetici, ihtiyaç saptama, kaynak belirleyici, kampanya sorumlusu, faaliyet yürütücüler” olmak üzere beş grup oluşturduk. Sınıftaki tüm öğrenciler bu gruplarda belirlenen görevlerden birini üstlendi. Çocuklar, yaşlılar veya okullara yönelik sosyal sorumluluk proje fikirleri ürettik. Ortaya çıkan fikirleri sınıf içerisinde müzakere ederek bu fikirlerin güçlü ve zayıf yönleri üzerinde durduk. Sınıfın ortak kararıyla “Oyuncaksız çocuk kalmayın.” diyerek ihtiyaç sahibi çocuklar için oyuncak toplama kampanyası düzenlemeye karar verdik. Broşürler, posterler hazırladık. Okuldaki sınıfları ziyaret ederek projemiz hakkında bilgi verdik. Belediyeden projemize destek vermesini istedik. Kısa sürede çok sayıda oyuncak topladık. Proje kapsamında toplanan oyuncakları mahalledeki ihtiyaç sahibi çocuklara ulaştırdık.

Sosyal sorumluluk projesi hazırlayan bu öğrenciler hakkında aşağıdaki yargılardan hangisine ulaşamaz?

- A) Toplumsal birliğe katkı sağlamaya yönelik fikirleri uygulamaya koymuşlardır.
- B) Yardımlaşma ve dayanışma faaliyetlerine yönelik fikirler üretmişlerdir.
- C) Proje sürecinde yalnızca yaşlıları çocuklardan destek görmüşlerdir.
- D) Sosyal sorumluluk projesine yönelik görev paylaşımı yapmışlardır.

2.



TÜRKİYE’NİN EN ESKİ GELENEKLERİNDEN BİRİ AYDIN’DA YAŞATILYOR.

“Dedebağ Keşkek Hayrı”, Aydın iline bağlı Karacasu ilçesinde 700 yılı aşkın bir süredir devam eden bir gelenektir. Bu gelenek her yıl binlerce vatandaşın bir araya getirmektedir. İmece usulü ile gerçekleşen hayırda yöre halkı keşkeğin malzemesinin temininde ve keşkeğin yapımında birlikte çalışır. Keşkek yapımı için gece geç saatlerde hazırlıklara başlanır. Onlarca kazanda pişirilen keşkek vatandaşlara dualar eşliğinde ikram edilir.

“Dedebağ Keşkek Hayrı” uygulaması toplumda,

- I. Birlik ve beraberlik
- II. Yardımlaşma
- III. Dayanışma
- IV. Paylaşma

anlayışlarından hangilerinin güçlenmesine katkı sağlar?

- A) I ve II
- B) III ve IV
- C) I, II ve IV
- D) I, II, III ve IV

3. Düğünler geçmişten günümüze yüzyıllar boyunca süregelen geleneklerimizin yaşatıldığı değerlerimizdir. Düğünlerde davul zurna eşliğinde halaylar çekilir. Evlenenlerin mutluluğu için dualar edilir. Düğünler, gelen davetlilerin kaynaşmasını sağlar. Düğünlerde davetlilere yemek ikram edilir. Davetliler de düğüne güçleri oranında hediye getirirler. Bu hediyeler; ev eşyası, para, düğün için yiyecek, zahire, düğünde kesmek için küçükbaş hayvan olabilir.

Metinden hareketle düğünlerimiz hakkında,

- I. Birlik ve beraberlik duygusunu güçlendirir.
- II. Bireysel farklılıkları ön plana çıkarır.
- III. Sosyal dayanışmaya katkı sağlar.

yorumlarından hangileri yapılabilir?

- A) I ve II B) I ve III C) II ve III D) I, II ve III

4. "Türkler tarih boyunca yardımlaşma ve dayanışmanın en güzel örneklerini sergilemişlerdir. Birlik olmayı başardıkları zaman hep zaferler kazanıp güçlü devletler kurmuşlardır." **diyen bir kişi aşağıdaki atasözlerinden hangisini açıklamasını desteklemek amacıyla kullanabilir?**

A)

“Baş başa vermeyince taş yerinden kalkmaz.

B)

“Tatlı dil yılanı deliğinden çıkarır.

C)

“Büyük lokma ye, büyük söz söyleme.

D)

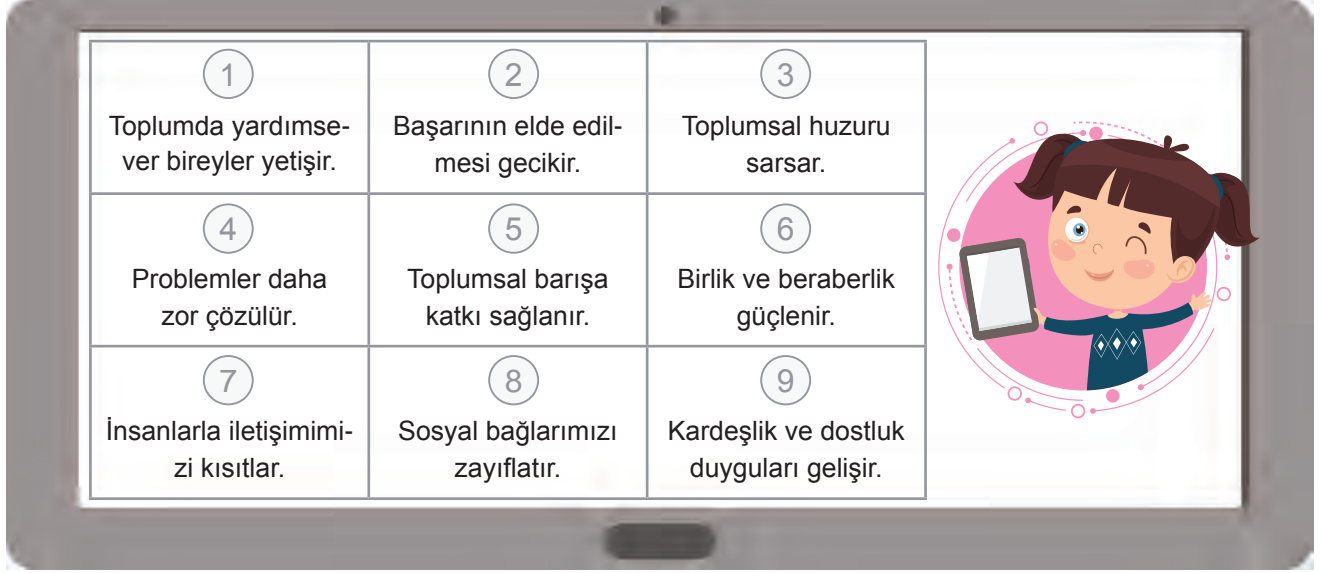
“Üzüm üzüme baka baka kararır.

5. Bireylerin çeşitli konularda birbirlerine yardım etmesine ve ortak olarak işlerin üstesinden gelmesine yardımlaşma denir. Bir topluluğu oluşturan bireylerin duygu, düşünce ve ortak amaçlarda birbirlerine karşılıklı olarak bağlanmasına ise dayanışma denir. Sosyal yardımlaşma ve dayanışma için bizlere önemli görevler düşmektedir. Bizler de sosyal yardımlaşma ve dayanışmayı destekleyici faaliyetlere katılmalıyız.

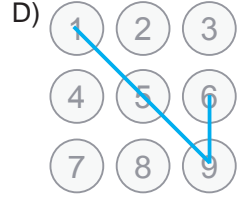
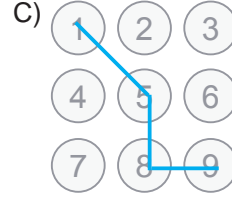
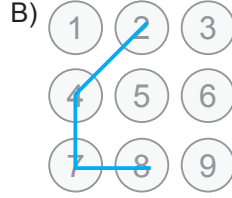
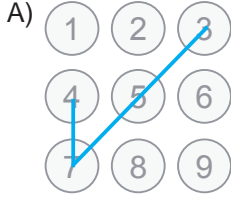
Aşağıdaki faaliyetlerden hangisine katılmamız sosyal yardımlaşma ve dayanışmaya doğrudan katkı sağlamaz?

- A) Velilerimizi kan bağına yönlendiren bir etkinlik düzenlemek
- B) Edindiğimiz kardeş okul için kitap kampanyası başlatmak
- C) Bayramda yurt dışı tatil turlarına katılmak
- D) İhtiyaç sahiplerine yardım etmek


6. Tabletindeki ekran kilidini açabilmesi için Gökçe'nin, yardımlaşma ve dayanışmanın faydalarının yazılı olduğu kutucukları takip ederek bir desen oluşturması gerekiyor.



Buna göre Gökçe'nin oluşturması gereken desen aşağıdakilerden hangisinde doğru olarak verilmiştir?



7.



Sadaka Taşı



Sadaka Taşı

Selçuklu ve Osmanlı dönemlerinde meydanlara, cami ve çeşme yanlarına yardımlaşma amaçlı taşlar konulurdu. Yardım etmek isteyenler bu taşın üstüne para bırakırdı. Böylece derdini kimseye anlatamayan ihtiyaç sahibi kişiler gecenin geç saatlerini bekler, kimseye görünmeden ihtiyacı kadar olan parayı alırdı. Merhametin simgesi olan bu taşlardan bazıları günümüze kadar gelmiştir.

Bu bilgilerden hareketle sadaka taşı uygulaması hakkında,

- I. Yardımlaşma ve dayanışmaya önem verildiğini kanıtlar.
- II. Toplumsal birliği sürdürmeye katkı sağlar.
- III. Ayrımcılığın artmasına neden olur.

Yorumlarından hangileri yapılabilir?

A) I ve II

B) I ve III

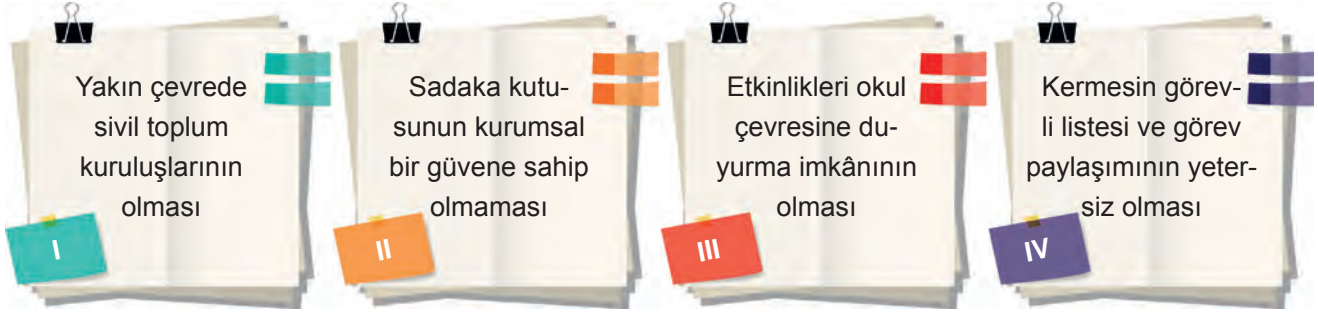
C) II ve III

D) I, II ve III

8. Tuğrul Bey, Dandanakan Savaşı sonrasında toplanan kurultayda eline aldığı bir oku ağabeyi Çağrı Bey'e vererek kırmasını ister. Çağrı Bey bu tek oku rahatça kırar. Ok sayısı üçe çıkınca kırmakta zorlanır. Ok sayısı dörde çıkarılınca kıramaz. Bu olayın ardından Tuğrul Bey, "Bu oklar gibi olursak her daim milletimiz var olur." der.

Tuğrul Bey, bu davranışıyla toplum için hangi unsurun önemini vurgulamaya çalışmıştır?

- A) Farklılıklara saygı duymanın
B) Merhamet duygusunun
C) Birlik ve beraberliğin
D) Hoşgörü anlayışının
9. Deprem bölgesindeki bir okulun öğrencilerinin ihtiyaçlarını karşılamaya yönelik sosyal sorumluluk projesi hazırlanmıştır. Kaynak için kermes düzenlemeyi ve sadaka kutusu oluşturmayı planlayan proje ekibi çalışmalarının güçlü ve zayıf yönlerini aşağıdaki gibi belirlemiştir.



Yaptıkları fikir alışverişi sonrası zayıf yönlerini güçlendirmek için kararlar alan proje ekibinin kaç numaralı kutucuklara yönelik çözüm üretmesi gerekir?

- A) I ve III
B) II ve IV
C) I, II ve IV
D) II, III ve IV
10. İmece, Anadolu insanının iş birliğinin en güzel örneklerinden biridir. İmece usulüyle bir araya gelen köy halkı, sıra ile birbirlerinin işini ya da bütün köy halkının ortak kullandığı yol, çeşme, okul, cami ve köy odasını yaparlar. Bu yapılar köyün ortak mallarıdır.
- Buna göre imece uygulamasının toplumsal hayata olan öncelikli katkısı aşağıdakilerden hangisidir?**
- A) Yardımlaşma ve dayanışma anlayışını güçlendirmesi
B) Dargın insanların barıştırılmasına ortam sunması
C) Ekonomik faaliyetleri canlandırması
D) Tasarruf bilincini geliştirmesi