

Kazanım Odaklı Beceri Temelli Sorularla

ARI SORU BANKASI SOSYAL BİLGİLER

6 .SINIF

YAZAR

Erkan İSANMAZ - Şeyhmus YÜCE
Yavuz YILDIZ - Murat SAAT

GÖRSEL YÖNETMEN

İhsan SONDOĞAN

GRAFİK-TASARIM

Meltem YÜKSEL - Nurcan KOCAMAN

BASIM YERİ

Aykut Basım (0212 428 52 74)


Akıllı
Tahta



Akıllı tahta için
QR kodu okutunuz.

Bu kitabın her hakkı Ari Yayıncılık'a aittir.
İçindeki şekil, yazı, resim ve grafiklerin
yayınevinin izni olmaksızın, elektronik,
mekanik, fotokopi ya da herhangi
bir kayıt sistemi ile çoğaltılması,
yayımlanması ve depolanması yasaktır.


ARI

Osmangazi Mah. Gazi Cad.
No:1 Kiraç-Esenyurt/İSTANBUL
Tel: 0212 879 20 60 - info@ariyayin.com
www.ariyayin.com     /ariyayin

Başarı "İçinde"



İSTİKLAL MARŞI

Korkma, sönmez bu şafaklarda yüzen al sancak
Sönmeden yurdumun üstünde tüten en son ocak.
O benim milletimin yıldızıdır parlayacak!
O benimdir, o benim milletimindir ancak!

Çatma, kurban olayım, çehreni ey nazlı hilal!
Kahraman ırkıma bir gül... ne bu şiddet, bu celâl?
Sana olmaz dökülen kanlarımız sonra helal.
Hakkıdır, Hakk'a tapan milletimin istiklal.

Ben ezelden beridir hür yaşadım, hür yaşarım;
Hangi çılgın bana zincir vuracakmış? Şaşarım!
Kükremiş sel gibiyim, bendimi çiğner, aşarım.
Yırtarım dağları, enginlere sığmam, taşarım.

Garbin âfâkını sarmışsa çelik zırhlı duvar.
Benim iman dolu göğsüm gibi serhaddim var.
Ulusun, korkma! Nasıl böyle bir imânı boğar,
'Medeniyet!' dediğin tek dişi kalmış canavar?

Arkadaş, yurduma alçakları uğratma sakın;
Siper et gövdeni, dursun bu hayâsızca akın.
Doğacaktır sana va'dettiği günler Hakk'ın,
Kim bilir, belki yarın, belki yarından da yakın.

Bastığın yerleri 'toprak' diyerek geçme, tanı!
Düşün altındaki binlerce kefensiz yatanı.
Sen şehid oğlusun, incitme, yazıktır, atanı.
Verme, dünyâları alsan da bu cennet vatanı.

Kim bu cennet vatanın uğruna olmaz ki feda?
Şühedâ fişkıracak toprağı sıksan, şühedâ!
Cânı, cânânı, bütün varımı alsın da Hudâ,
Etmesin tek vatanımdan beni dünyâda cüdâ.

Rûhumun senden İlahî, şudur ancak emeli:
Değmesin ma' bedimin göğsüne nâ-mahrem eli!
Bu ezanlar-ki şehâdetleri dinin temeli-
Ebedî yurdumun üstünde benim inlemeli.

O zaman vecd ile bin secde eder -varsa- taşım.
Her cerâhamdan, İlâhî, boşanıp kanlı yaşım;
Fişkırır rûh-ı mücerred gibi yerden na'sım;
O zaman yükselerek arşa değer belki başım!

Dalgalar sen de şafaklar gibi ey şanlı hilâl!
Olsun artık dökülen kanlarımın hepsi helâl.
Ebediyen sana yok, ırkıma yok izmihlâl;
Hakkıdır, hür yaşamış, bayrağımın hürriyet,
Hakkıdır, Hakk'a tapan milletimin istiklâl!

Mehmet Âkif ERSOY

İÇİNDEKİLER

1. ÜNİTE

Değişen Rollerim.....	3
Kültürümüzle Yaşıyor ve Gelişiyoruz.....	9
Ön Yargılarımı Kırıyorum.....	15
Birlikte Daha Güçlüyüz.....	21
Sorunlarımın Çözümünü Biliyorum.....	27
Ünite Değerlendirmesi.....	33

2. ÜNİTE

Destan ve Yazıtlarda Türkler.....	37
İslamiyet'in Doğuşu ve Değişim.....	49
İslamiyet ve Türkler.....	55
Yeni Yurt Anadolu.....	61
Medeniyete Yön Veren Yollar.....	71
Ünite Değerlendirmesi.....	75

3. ÜNİTE

Dünyanın Neresindeyim.....	79
Ülkemin Güzellikleri Haritada.....	85
Ülkemin Zenginlikleri Haritada.....	91
Çevremizde Kimler Yaşıyor.....	97
Ünite Değerlendirmesi.....	103

4. ÜNİTE

Sosyal Bilimler ve Toplum.....	107
Hayalimdeki Gelecek.....	113
Araştırma Yapıyorum.....	119
Emek Bir Hazinedir.....	125
Ünite Değerlendirmesi.....	131

5. ÜNİTE

Kaynaklarımız Kazanca Dönüşüyor.....	135
Dünyamıza Sahip Çıkalım.....	145
Bir Projem Var.....	151
Vergilerimizle Aydınlık Yarınlara.....	155
Nitelikli İnsan, Güçlü Türkiye.....	159
Mesleğimi Seçiyorum.....	163
Ünite Değerlendirmesi.....	167

6. ÜNİTE

Nasıl Bir Yönetim.....	171
Üç Kuvvet.....	175
Yöneticilerimiz ve Biz.....	179
Hayatın İçinde Demokrasi.....	183
Haklarımın Bilincindeyim.....	187
Kadın ve Toplum.....	191
Ünite Değerlendirmesi.....	195

7. ÜNİTE

Komşularımız ve Kardeşlerimiz.....	199
Ticari İlişkilerimiz.....	203
Lider Türkiye.....	207
Kültürümüze Sahip Çıkalım.....	211
Ünite Değerlendirmesi.....	215
Cevap Anahtarı.....	223

Nasıl Geçti? 😞 😐 😊

Doğru Yanlış Boş Net

1. Mareşal Mustafa Kemal Ortaokulu 6. sınıfta okuyan Emel, anne ve babasının tavsiyesiyle okul voleybol takımına katıldı. Okullar arası yapılan turnuvada okul voleybol takımında yer alarak başarılı bir mücadele sergiledi.

Emel'in sahip olduğu roller aşağıdakilerin hangisinde doğru verilmiştir?

- A) Öğrenci - Evlat - Oyuncu
B) Evlat - Oyuncu - Solist
C) Öğrenci - Futbolcu - Kardeş
D) Torun - Evlat - Üye

2.



Üniversite eğitimini başarıyla tamamlayan Şule Hanım, Konya'nın Seydişehir ilçesine bağlı Cumhuriyet Ortaokuluna öğretmen olarak atandı. Görev yaptığı ilçede annesiyle birlikte yaşayan Şule Hanım, her sabah okula otobüsle gitmektedir.

Verilen bilgide Şule Hanım'ın üstlendiği aşağıdaki rollerden hangisine değilmiştir?

- A) Evlat
B) Öğretmen
C) Arkadaş
D) Yolcu

3. Birey olarak dünyaya geldiğimiz andan itibaren çeşitli sosyal roller üstleniriz. Rollerimizin bir kısmı doğuştan sahip olduğumuz rollerdir. Bu roller biyolojik özelliklerimizden kaynaklanan, herhangi bir ilgi ve yetenek gerektirmeyen rollerimizdir. Bunları seçme imkânımız yoktur.

Verilen bilgiye göre aşağıdakilerden hangisinin doğuştan sahip olunan roller arasında yer aldığı söylenebilir?

- A) Torun
B) Sınıf başkanı
C) Futbolcu
D) Müzisyen

4. Rollerimiz bize birtakım haklar ve sorumluluklar yükler. Haklarımız hukukun çizdiği sınırlar çerçevesinde sahip olduğumuz kazanımlar ya da yapabileceklerimizle ilgilidir. Sorumluluklarımız ise üstlendiğimiz rollerimizin gereklerini yerine getirmeyle ilgilidir.

Bu bilgiden hareketle 6. sınıfta öğrenim gören bir çocuğun hakları arasında aşağıdakilerden hangisi yer alır?

- A) Derslere zamanında girmek
B) Arkadaşları ve öğretmenleriyle iyi geçinmek
C) Okulunu ve sınıfını temiz tutmak
D) Okuldaki eğitim öğretim hizmetlerinden faydalanmak

5.



24 yaşında başladığı mesleğinden 60 yaşında emekli olan Mehmet amca, evli ve 3 çocuk babasıdır. Emekliliğin tadını çıkaran Mehmet amca şu günlerde torunu Yusuf'la bolca vakit geçirmektedir.

Verilen bilgiye göre Mehmet amca ile ilgili,

- I. Aynı anda birden fazla rol sahibidir.
II. Zaman içinde rolleri değişmiştir.
III. Sosyal rolleri hep aynı kalmıştır.

hangisi ya da hangileri söylenebilir?

- A) Yalnız II
B) I ve II
C) I ve III
D) I, II ve III

6. Mesleki rollere ilişkin beklentiler yazılıdır, sosyal rollere ilişkin beklentiler ise yazılı değildir. Örneğin, hâkimlerin kanun ve yönetmelikler çerçevesinde belirlenmiş görev ve sorumluluklarının yanında toplumun da onlardan beklentileri vardır. Buna toplumsal beklenti denir.

Bu bilgiden hareketle,

- I. Adaletli hüküm verme
- II. Dürüst ve adil olma
- III. Tarafsızlık ilkesini ihlal etme

hangisi ya da hangileri hâkimlerden beklenen toplumsal beklentiler arasında yer alır?

- A) Yalnız I
B) I ve II
C) II ve III
D) I, II ve III

7. Ortaokul 6. sınıfta okuyan Berkcan, saat 07.00'de uyandı. Annesi, babası ve ablasıyla kahvaltısını yaptıktan sonra yürüyerek okula gitti. Okulun müzik kulübünün faaliyetlerine katıldı. Okuldan eve yürüyerek dönen Berkcan, arkadaşlarıyla dışarıda oyun oynamak için annesinden izin istedi. Ona izin veren annesi gelirken ekmek almasını söyledi. Arkadaşlarıyla oynadığı maçta kalecilik yapan Berkcan, marketten ekmek alıp eve döndü.

Verilen metinde Berkcan'ın sahip olduğu roller arasında,

- I. Öğrenci
- II. Çocuk
- III. Müşteri
- IV. Üye

hangisi ya da hangileri yer alır?

- A) Yalnız I
B) II ve III
C) I, III ve IV
D) I, II, III ve IV

8. İçinde yer aldığımız meslek grubunun gerektirdiği davranışlara ve kurallara uygun hareket etmeye mesleki rol denir.

Bu tanıma göre aşağıdakilerden hangisi mesleki rol olarak nitelendirilebilir?

- A) Kardeş
B) Terzi
C) Kuzen
D) Anne

9. Sevinçlerimizin ve üzüntülerimizin paylaşıldığı ilk yer olan ailemiz, hayatımız boyunca yer alacağımız gruplar içinde en önemlisidir. Bu yüzden aile içi roller, ve duygularıyla yerine getirilmelidir.

Verilen bilgide boş bırakılan yerlere aşağıdakilerden hangisi yazılırsa yanlış olur?

- A) dayanışma
B) sevgi
C) yardımseverlik
D) çıkarıcılık

10. Ahmet Bey, gün boyu okulda öğrencilerine yeni bilgiler öğrettikten sonra akşam pazara uğramış, meyve ve sebze almıştır. Evine geldiğinde ise karısı ile günün değerlendirmesini yapmış, çocuklarıyla ilgilenmiştir. Ailecek akşam yemeğini yedikten sonra evlerine komşuları misafir olarak gelmiş, birlikte hoş bir akşam geçirmişlerdir.

Verilen bilgide Ahmet Bey'in üstlendiği roller arasında aşağıdakilerden hangisi yer almaz?

- A) Ev sahibi
B) Baba
C) Okul müdürü
D) Müşteri

Nasıl Geçti?



Doğru



Yanlış



Boş



Net



1. Aşağıdaki tabloda bazı mesleki rollerle ilgili görev ve sorumluluklar ile toplumsal beklentiler verilmiştir.

Meslek/Rol	Görev/Sorumluluk	Toplumsal Beklentiler
Öğretmen	Eğitim-öğretim yapmak	Örnek insan olmak
Çiftçi	Tarım ürünleri yetiştirmek	Sağlıklı ürünler yetiştirmek
Doktor	Sağlık hizmeti sunmak	İlgili ve anlayışlı olmak
Polis	Asayişli sağlamak	Fedakâr ve tarafsız olmak

Yalnızca bu tabloya göre,

- I. Mesleki roller bireylere bazı sorumluluklar yüklemektedir.
 II. Bireylerin sahip olduğu rollerden toplumun beklentileri bulunmaktadır.
 III. Bireyler mesleki rollerine uygun olan sorumlulukları yerine getirmek durumundadırlar.

yargılarından hangisi ya da hangilerine ulaşılabilir?

- A) Yalnız I B) Yalnız II C) II ve III D) I, II ve III

2. Aşağıda 6. sınıf öğrencisi Meryem'in katıldığı gruplardaki sahip olduğu roller ile bu rollerin gerektirdiği hak ve sorumluluklar verilmiştir.

	Ailede	Okulda	Basketbol takımında
Rolleri	Çocuk	Öğrenci	Oyun kurucu
Hakları	Sevgi görmek	Okulun imkânlarından faydalanmak	Potaya şut atmak
Sorumlulukları	Anne ve babasına yardımcı olmak	Okul kurallarına uymak	Takım hücumunu organize etmek

Tablodaki bilgilere göre Meryem ile ilgili aşağıdakilerden hangisi söylenemez?

- A) Sahip olduğu rollerin gereği olarak hak ve sorumlulukları bulunmaktadır.
 B) Doğuştan kazandığı roller dışında sonradan kazandığı roller de olmuştur.
 C) Rollerine bağlı olarak kazandığı hakları, her zaman sorumluluklarından fazladır.
 D) Farklı gruplar içinde farklı roller üstlenmiştir.

3. Rollerimizin bir kısmı doğuştan sahip olduğumuz rollerdir. Bu roller evlat ya da kardeş olmak gibi biyolojik özelliklerimizden kaynaklanan, herhangi bir ilgi ve yeteneği gerektirmeyen rollerimizdir. Bunları seçme imkânımız yoktur. Bazı rollerimiz de vardır ki bunlara isteğimizle çalışarak, başarı göstererek sonradan sahip oluruz. Bunlar özgür irademizle katıldığımız grupların bize yüklediği rollerdir. Sınıf başkanı olmak, takım kaptanı olmak gibi.

Verilen bilgiye göre roller ile ilgili,

- I. Bazı roller sonradan kazanılmaktadır.
 II. Kişinin doğuştan sahip olduğu roller daha önemlidir.
 III. Roller bireyin içinde bulunduğu gruplara göre değişiklik gösterebilir.


yargılarından hangisi ya da hangileri söylenebilir?

- A) Yalnız I B) I ve III C) II ve III D) I, II ve III

4. Hüseyin Bey, aşağıda zaman içindeki sosyal rollerinden bazıları ile ilgili bilgiler vermiştir.

Bu fotoğrafta çocuğum. Anne ve babamın öğrenciyim. Anne ve babamın sevgilerine layık olmak benden beklenen davranışlardı. Ben de bir çocuk olarak sorumluluklarımı yerine getirmeye çalıştım.

Meslek hayatım başlayınca evlenip baba oldum. Mesleğim öğretmenlik olduğu için insan yetiştirmenin sorumluluğunu üzerimde hissediyordum. Ben de iyi bir öğretmen olmak için çaba gösterdim.



Okulda öğrenci ve arkadaş rolündeyim. Okul kurallarına uymam, derslerime çalışmam, arkadaşlarımla uyumlu olmam gerektiğini biliyordum. Arkadaşlarımla yaşadığım sorunları konuşarak çözmeye çalıştım.

Torunum oldu, dede rolündeyim. Bir dede olarak torunumun beslenme, sevgi, eğitim, sağlık gibi temel ihtiyaçlarını karşılamada benim de görevim olduğunun bilincindeydim.

Verdiği bilgilere göre Hüseyin Bey ile ilgili aşağıdakilerden hangisi söylenemez?

- A) Üstlendiği rollerden bazılarına doğuştan sahip olmuştur.
B) Bazı rollerine isteğiyle çalışarak, başarı göstererek sonradan sahip olmuştur.
C) Tüm hayatı boyunca en uzun süren rolü babalık olmuştur.
D) Üstlendiği rollerin gerektirdiği sorumlulukların bilinciyle hareket etmiştir.
5. Gazi Ortaokulu 6/A sınıfında öğrenim gören Mert, aşağıdaki açıklamalar doğrultusunda öğretmenin verdiği ders içi etkinliği doğru bir şekilde yapmak istemektedir.

DERS İÇİ ETKİNLİK

Aşağıdaki etkinliği verilen açıklama ve yönergeyi kullanarak yapınız.

Doğuştan kazanılan rol: Biyolojik özelliklerimizden kaynaklanan, herhangi bir ilgi ve yetenek gerektirmeyen rollerimizdir. Bunları seçme imkânımız yoktur.

Sonradan kazanılan rol: Özgür irademizle katıldığımız grupların bize yüklediği rollerdir. Bunlara isteğimizle çalışarak, başarı göstererek sonradan sahip oluruz.

SORU: Verilen açıklamalara göre aşağıdaki rollerden doğuştan kazanılan rolleri kırmızıya, sonradan kazanılan rolleri ise maviye boyayınız.

Evlat	Kardeş	Öğrenci	Gönüllü
Öğretmen	Sınıf başkanlığı	Ağabey	İzci lideri
Müşteri	Torun	Doktor	Abla

Verilen bilgilere göre Mert kaç tane kutuyu kırmızıya boyarsa ders içi etkinliği doğru yapmış olur?

- A) 5 B) 6 C) 7 D) 8

6.



Yeşilçam'ın Güldüren Yüzü

1944'te İstanbul'da dünyaya geldi. İlk öğrenimini Mimar Sinan İlkokulunda, lise eğitimini ise Vefa Lisesinde tamamladı.

1966'da profesyonel tiyatro oyunculuğuna başladı. İlk kez Kenter Tiyatrosu'nda "Fadik Kız" adlı piyeste rol aldı.

1973'te "Tatlı Dillim" filmiyle sinemaya adım attı.

1975'te Gül Sunal ile evlendi. Ali ve Ezo adlarında iki çocuğu oldu.

2000 yılında Trabzon'a gitmek üzere bindiği uçakta kalp krizi geçirerek 3 Temmuz'da hayatını kaybetti.

Verilen görselden Kemal Sunal ile ilgili,

- I. Hayatı boyunca farklı rollere sahip olduğu
 - II. İçinde bulunduğu gruplara göre rollerinin değiştiği
 - III. Beyaz perdedeki rollerini tiyatrodaki rollerinden önce edindiği
- çıkarımlarından hangisi ya da hangileri yapılabilir?**

- A) Yalnız I B) I ve II C) II ve III D) I, II ve III

7. İnsanlar, hayatları boyunca içinde buldukları grup ve kurumlarda çeşitli roller üstlenirler. Hatta aynı anda birden fazla rol de üstlenebilirler. Kişi; ailede çocuk, okulda öğrenci, oyun grubunda oyuncu, toplu taşıma aracında yolcu, markette müşteri vb. roller içinde olabilir. Bireylerin içinde buldukları rollerle birlikte kendilerinden beklenen davranışlar da değişmektedir. Örnek olarak doktor bir anneden evde annelik yapması beklenirken hastanede hastalarını tedavi etmesi ve trafikte sürücü olarak trafik kurallarına uyması beklenir. Önemli olan içinde bulunduğumuz role uygun davranışlarda bulunmak ve farklı rollerin davranışlarını birbirine karıştırmamaktır.

Metne göre aşağıdakilerden hangisi söylenirse yanlış olur?


- A) İnsanlar sahip oldukları tüm rollerde başarılı olurlar.
- B) Üstlenilen rol, içinde bulunulan gruba ve kuruma göre değişebilir.
- C) İnsanların sahip olduğu rollerden toplumun beklentileri bulunmaktadır.
- D) Kişinin rolleri değiştikçe üstleneceği sorumluluklar da değişmektedir.

8. "Birey olarak dünyaya geldiğimiz andan itibaren çeşitli roller üstleniriz. Bu rollerimizin bir kısmı biyolojik özelliklerimizden kaynaklanır, seçme şansımız yoktur. Bazı rollerimizi ise ilgi ve yeteneklerimiz doğrultusunda sonradan kazanırız."

Bu bilgi doğrultusunda hazırlanan oyun matı, oyun kartı ve oyun kuralları aşağıdaki gibi belirtilmiştir.

OYUN KURALLARI

- Sırasıyla oyun kartındaki soruları ve öğrencinin cevaplarını okuyunuz.
- Cevabın doğruluğu ve yanlışlığına göre belirtilen yönde bir birim ilerleyiniz.
- Oyunun son sorusunu cevapladığınızda ulaştığınız nokta oyunu bitirdiğiniz yerdir.

GİDİLECEK YÖN		SORULAR	ÖĞRENCİ CEVAPLARI
CEVAP DOĞRU İSE	CEVAP YANLIŞ İSE		
		Kişinin aile içinde evlat rolünü üstlenmesi	Doğuştan sahip olunan rol
		Kişinin okulda öğretmen rolünün gereklerini yerine getirmesi	Sonradan kazanılan rol
		Ali'nin futbol takımında kaleci olması	Sonradan kazanılan rol
		Yapılan seçimde Ebru'nun 6/A sınıfına başkan seçilmesi	Doğuştan sahip olunan rol



Oyun kartındaki soru ve cevapları okuyan bir öğrenci verilen soruların cevaplarının doğruluğunu ya da yanlışlığını dikkate alarak oyun matında ilerlediğinde oyun sonunda kaç numaralı noktada olur?

- A) II B) III C) IV D) Bitiş
9. Aşağıda 6. sınıf öğrencisi Damla'nın katıldığı gruplardaki sahip olduğu roller ile ilgili görseller verilmiştir.



Çocuk



Öğrenci



Abla



Oyuncu

Buna göre Damla ile ilgili,

- I. Bulunduğu yere göre rolleri değişmektedir.
 - II. Sosyal gruplar içinde farklı roller üstlenmiştir.
 - III. Bazı rollerini doğuştan, bazılarını sonradan kazanmıştır.
- yargılarından hangisi ya da hangileri söylenebilir?

- A) Yalnız I B) I ve II C) II ve III D) I, II ve III

Nasıl Geçti?



Doğru



Yanlış

Boş

Net

1. Eski bayramlarda arife günü mahalledeki ihtiyaç sahibi komşularımızın eksikleri mahalleli tarafından tamamlanmaya çalışılırdı. Bayram sabahı güneşin ilk ışıklarıyla ayağa kalkar, yatağımızın yanında hazır olan bayramlıklarımızı giyer, bayram namazına giderdik. Camiden çıkınca herkes büyükten küçüğe dizilerek birbirleriyle bayramlaşır. Ardından topluca mezarlığa gidilerek dua edilirdi. Eve geldiğimizde büyüklerimizin elini öperdik. Sonra ailenin en büyüğünün evinde toplanır, hep birlikte yemeğimizi yerdik.

Verilen metinde bayramlarımızın topluma kattığı değerlerden hangisine değinilmemiştir?

- A) Birlik ve beraberliği sağlama
B) Ferdî menfaatleri ön plana çıkarma
C) Komşuluk ilişkilerini geliştirme
D) İnsanlar arasındaki bağları güçlendirme

2. Aşağıda yurdumuzun her tarafından şehitlerimizin bulunduğu Çanakkale Şehitliği'ne ait bir görsel verilmiştir.



Verilen görsel toplumu bir arada tutan ve toplumsal birlikteliği sağlayan unsurlardan daha çok hangisiyle ilişkilendirilebilir?

- A) Dil
B) Gelenekler
C) Tarih
D) Mimari

3. “Her milletin kendine özgü gelenekleri, kendine özgü âdetleri, kendine göre millî özellikleri vardır. Hiçbir millet, diğer bir milletin aynen taklitçisi olmamalıdır. Çünkü böyle bir millet, ne taklit ettiği milletin aynısı olabilir, ne kendi milliyeti içinde kalabilir. Bunun sonucu şüphesiz ki acıdır.”

Mustafa Kemal Atatürk bu sözü ile aşağıdaki-lerden hangisinin önemini vurgulamıştır?

- A) Millî kimliğin önemini
B) Diğer milletlerin taklit edilmesini
C) Geçmişle bağların ayrıştırılmasını
D) Ulusal değerlerin göz ardı edilmesini

4. Aşağıda Türk milleti olarak bizi “biz” yapan özelliklerimizi anlatan bazı ifadeler verilmiştir.

- Düğün merasimlerimiz dost ve akrabaların bir araya toplanmasını sağlar.
- Yemek davetleri, el sanatları, spor müsabakaları vb. bizi bir araya getirip ortak duygularda buluşmamızı sağlar.

Verilen ifadeler millî birlik ve beraberliğimizi güçlendiren unsurlardan hangisine aittir?

- A) Dil
B) Mimari
C) Gelenek ve görenekler
D) Din

5. Kültür bir toplumun devamı için önemli bir unsurdur. Kuşaktan kuşağa aktarılan ve bir toplumu diğer toplumlardan ayıran hayat tarzı o toplumun millî kültürüdür. Millî kültür, aynı zamanda millî kimliği oluşturur. Kültür, millî birlik ve beraberliğe katkı sağlar.

Bu bilgidен hareketle,

- I. Örf ve âdetler
II. Manevi değerler
III. Siyasi çatışmalar
- unsurlarından hangisi ya da hangileri kültürel unsurlar arasında yer alır?**

- A) Yalnız I
B) I ve II
C) II ve III
D) I, II ve III

6. Ebru, İpek Yolu'ndan geçip Anadolu'ya "ebru" ismiyle gelmiştir. Kitap kapaklarına renk olmuş, zamanla yeni tekniklerle kendi özgünlüğünü bulmuş, yaşamın ve geleneksel kültürün bütünlüğü bir parçasıdır ebru. Toplumun tüm kesimlerinin bir su teknesinin başında bir araya gelebileceğinin ispatıdır ebru. Kuşaktan kuşağa usta-çırak ilişkisiyle aktarılan bu sanat, ustanın çırağına sabırla fısıldadığı bir hikâyedir. İnsan ruhunu rahatlatan, olumlu düşünceye yönelten bir terapidir.

Metindeki altı çizili cümle ile ebru sanatının,

- I. Birlik ve beraberliği sağlaması
- II. İnsanlar arasındaki bağları güçlendirmesi
- III. Ekonomiyi canlandırması

özelliklerinden hangisi ya da hangileri vurgulanmıştır?

- A) Yalnız I
- B) I ve II
- C) II ve III
- D) I, II ve III

7. İslamiyet'in birleştirici gücü, millî kültürümüzü etkileyerek toplumsal birlikteliğimizi güçlendirmiştir. Toplumsal birlikteliğimizin güçlenmesine Hacı Bektaş-ı Veli, Yunus Emre, Mevlâna Celâleddin-i Rumi gibi şahsiyetlerin eserleri de katkı sağlamıştır.

Verilen bilgide millî birlik ve beraberliğimizi güçlendiren unsurlardan daha çok hangisine değinilmiştir?

- A) Sanat
- B) Mimari
- C) Gelenekler
- D) Din

8. Kültürü oluşturan unsurların en başında yer alır. Toplumsal yaşamın vazgeçilmezi olan değerler, örf ve âdetler, gelenek ve göreneklerin nesilden nesile aktarılmasında önemli bir paya sahiptir.

Hakkında bilgi verilen kültür ögesi aşağıdaki-lerden hangisidir?

- A) Mimari
- B) Din
- C) Dil
- D) Sanat

9.



Bu öğrenciler, birlik ve beraberliğimizi güçlendiren unsurlardan hangisinin faydalarıyla ilgili sohbet etmektedirler?

- A) Tarih
- B) Din
- C) Gelenekler
- D) Mimari

10. Eski bayramlarda arife günü çocuklar aileleriyle bayramlık almak için çarşıya giderlerdi. Her evde bir bayram telaşı olurdu. Analarımız geç vakitlere kadar şerbetler kaynatır, gelecek misafirlere ikram edilecek yemekleri yetiştirmeye çalışırlardı. Bayram sabahı bayramlıklarımızı giyer, bayram namazına giderdik. Camiden çıkınca cemaatle bayramlaşırđık. Eve geldiğimizde büyüklerimizin elini öperdik. Ailenin en büyüğünün evinde toplanır, hep birlikte yemeğimizi neşe içinde yerdik.

Bu metinde birlik ve beraberliğimizi artıran,

- I. Gelenek ve görenekler
- II. Din
- III. Sözlü sanat

unsurlarından hangisi ya da hangilerine değinilmiştir?

- A) Yalnız II
- B) I ve II
- C) I ve III
- D) II ve III

Nasıl Geçti? 😞 😐 😊 Doğru Yanlış Boş Net

1. Kültür, bir toplumu diğer toplumlardan farklı kılan, geçmişten beri değişerek devam eden; kendine özgü sanatı, inançları, örf ve âdetleri, anlayış ve davranışları ile onun kimliğini oluşturan yaşayış ve düşünüş tarzıdır. Bu tanımdan yola çıkarak millî kültürümüz, milletimizin her ferdini "biz" duygu ve düşüncesi etrafında birleştiren öğelerden oluşur. Millî kültür unsurlarımız en başta dil olmak üzere din, tarih, gelenek ve görenekler, mimari, sanat vb. şeklinde sıralanabilir.

Aşağıdaki görsellerden hangisi verilen açıklamayı örneklendirmek amacıyla kullanılamaz?



2. Bireyin gelişiminde ve toplumsal birlikteliğin oluşmasında tarih, dil, din, örf, gelenek, görenek ve bayramlar gibi öğeler etkilidir. Bu öğelerin bir araya gelmesi kültürü oluşturur. Kültür bir toplumun devamı için önemli bir unsurdur. Türk toplumu olarak kültürel özelliklerimiz yani millî kültürümüz bizim millî kimliğimizdir. Kültürümüz, milletimizin her ferdini "biz" duygu ve düşüncesi etrafında birleştiren öğelerden oluşur. Kültürümüzü oluşturan din, dil, tarih, mimari, gelenek ve görenekler vb. öğeler bizi birbirimize bağlar ve böylece daha güçlü olmamızı sağlar.

Verilen bilgiye göre millî kültürün aşağıdakilerden hangisine doğrudan katkı sağladığı söylenemez?

- A) Millet olma şuuruna erişilmesine B) Toplumsal birlikteliğin güçlenmesine
C) Küresel sorunların çözümüne D) Millî birlik ve beraberliğin sağlanmasına

3. Aşağıda Türkçe ile ilgili bazı afişler verilmiştir.



Verilen afişlere göre,

- I. Türkçemizi korumak devletimizin bekasını sağlamak demektir.
II. Türkçemizin toplumsal birliktelik oluşturmada önemli bir rolü vardır.
III. Türkçemizin korunması ve geliştirilmesi, kültürümüzün yaşaması için önemlidir.

yargılarından hangisi ya da hangileri söylenebilir?

- A) Yalnız I B) I ve II C) II ve III D) I, II ve III

4.


AŞK VE İRFAN İNSANI: YUNUS EMRE

Türk şiirinin kurucusu ve millî birliğin önemli tutkallarından birisidir. Yazdığı şiirleriyle Türkçenin gelişimine önemli bir katkıda bulunmuştur.

İslam'ın sabır, kanaat, hoşgörü, cömertlik, iyilik değerlerini benimsemeye yönelik telkinleriyle yüzyıllardır insanlığa ışık saçıyor, öğütleriyle yol gösteriyor.

“Gelin tanış olalım, işi kolay kılalım
Sevelim sevillelim, dünya kimseye kalmaz.”

Yunus Emre



Verilen görsele göre Yunus Emre ile ilgili,

- I. Millî kültürümüzün korunması için çaba sarf etmiştir.
- II. Toplumsal birlikteliğin güçlenmesine katkı sağlamıştır.
- III. İslam ahlakının önemli ilkelerinin halk tarafından benimsenmesi için çaba sarf etmiştir.

yargılarından hangisi ya da hangileri söylenebilir?

- A) Yalnız I B) I ve III C) II ve III D) I, II ve III

5. Bir yerde yaşayan insanların inançları, düşünce dünyaları, kültürel yapıları dikkate alınarak oluşturulan şehirler ve konutlar toplumsal birlikteliği destekler. Ülkemizde Ankara'da Beypazarı, Karabük'te Safranbolu, Sakarya'da Taraklı Evleri vb. kültürümüzü yansıtan mimari eserlerimize örnektir.



Beypazarı Evleri - Ankara



Safranbolu Evleri - Karabük



Taraklı Evleri - Sakarya

Verilen bilgi ve görsellere göre şehirler ve konutlarla ilgili,


- I. Kültürümüzün maddî unsurları arasında yer alırlar.
- II. Toplumsal dayanışmanın güçlenmesini desteklerler.
- III. Toplumun estetik anlayışının gelişmesine katkı sağlarlar.

yargılarından hangisi ya da hangileri söylenebilir?

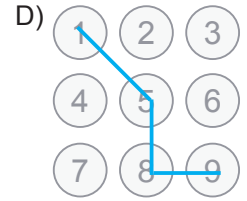
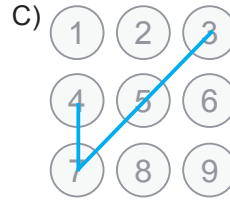
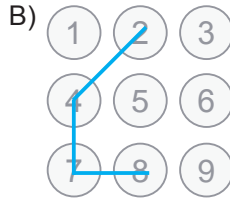
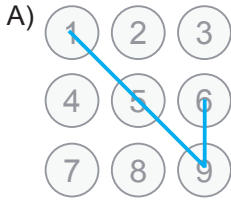
- A) Yalnız I B) I ve III C) II ve III D) I, II ve III

6. İdil'in, tabletindeki ekran kilidini açabilmesi için Türk milleti olarak bizi "biz" yapan özelliklerimizden kültürümüzün dil ile tarih öğelerine ait olanlarının yazılı olduğu kutucukları takip ederek bir desen oluşturması gerekmektedir.


1 Düğün merasimlerimiz dost ve akrabaların bir araya toplanmasını sağlar.	2 Kültür öğelerinin nesilden nesile aktarılmasını sağlar.	3 Zekât, toplumsal yardımlaşma ve dayanışmayı sağlar.
4 Türk milleti asırlar boyunca üç kıtada güçlü devletler kurmuş bir millettir.	5 Kültürümüze uygun olarak oluşturulan geleneksel Türk konutlarımız hâlâ ayakta.	6 Ramazan ve Kurban Bayramlarının kutlanması, millî birlik ve beraberliğimiz için önemli günlerdendir.
7 Çanakkale Zaferi'nde milletçe destan yazdık.	8 Birliğimizi ve dirliğimizi sağlayan önemli iletişim aracıdır.	9 Kültürel yapıya göre oluşturulan şehirler, toplumsal birlikteliğin sağlanmasında önemlidir.



Buna göre İdil'in oluşturması gereken desen aşağıdakilerden hangisinde doğru olarak verilmiştir?



7.



Ülkemizdeki salgın nedeniyle 23 Nisan Ulusal Egemenlik ve Çocuk Bayramı ile TBMM'nin açılışının 100. yılı kutlamalarının evlerde gerçekleştirilmesine karar verildi. Milyonlarca vatandaşımız 23 Nisan 2020 saat 21.00'de evlerinin balkonlarına çıkarak ellerindeki bayraklarla hep birlikte İstiklal Marşı okudu.

Bu durumun öncelikle aşağıdakilerden hangisine katkı sağladığı söylenebilir?

- A) Millî birlik ve beraberliğin gelişmesine
B) Toplumsal ayrışmanın artmasına
C) Farklılıklara saygı duyulmasına
D) Eğitim seviyesinin yükselmesine

8.

TÜRKİYE VE TÜRK ESERLERİNİN UNESCO'DA ALTIN YILI

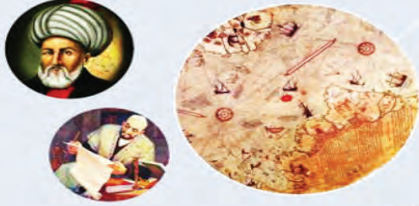
“Kutadgu Bilig’in Yusuf Has Hacib tarafından yazılışının 950. Yıl Dönümü” Kazakistan ve Azerbaycan’ın desteğiyle **2019 UNESCO Anma ve Kutlama Yıl Dönümleri** arasına alındı.



“Atabetü'l Hakâyık'ın Basılışının 100. Yıl Dönümü” Kazakistan ve Kırgızistan’ın desteğiyle **2018 UNESCO Anma ve Kutlama Yıl Dönümleri** arasına alındı.



Dîvânü Lugâti't Türk ve Piri Reis'in haritası, Dünya Belleği Kütüğü'ne kaydedildi.



Edirne'deki Selimiye Camii ve Külliyesi, UNESCO Dünya Mirası Listesi'ne girildi.



Hıdırellez, UNESCO İnsanlığın Somut Olmayan Kültürel Mirası Temsili Listesi'ne eklendi.



Doğu Karadeniz'de halk arasında “kuş dili” olarak ifade edilen “ışık dili”, UNESCO Acil Koruma Gerektiren Somut Olmayan Kültürel Miras Listesi'ne dâhil edildi.

UNESCO Yaratıcı Şehirler Ağı'na tasarım dalında **İstanbul**, gastronomi dalında **Hatay** ile zanaat ve halk sanatları dalında da **Kütahya** dâhil oldu.



Çanakkale'deki Assos Arkeolojik Alanı, Balıkesir Ayvalık Endüstriyel Kültürel Peyzajı ve Konya'daki İvriz Kültürel Peyzajı, UNESCO Dünya Mirası Geçici Listesi'ne alındı.



Verilen görsele göre kültürümüzü oluşturan,

- I. Mimari
- II. Tarih
- III. Dil
- IV. Gelenek ve görenekler

unsurlarından hangisi ya da hangilerine ait eserlerimiz UNESCO tarafından koruma altına alınmıştır?

- A) Yalnız I B) II ve IV C) I, II ve III D) I, II, III ve IV

Nasıl Geçti?



Doğru



Boş



1.

Berke, futbol oynamalım mı?

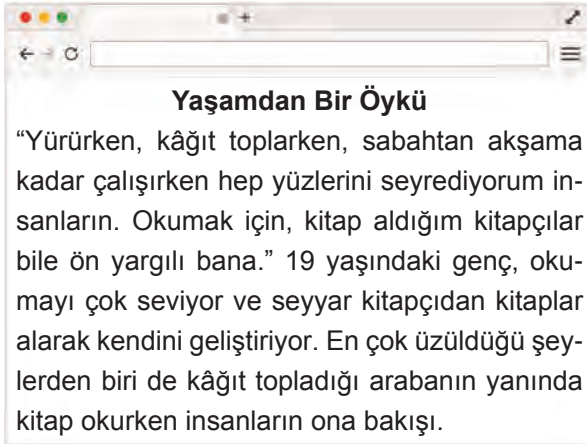
Hayır Eda. Kızlar futbol oynayamaz.



Konuşmaya göre Berke'nin, insanlar arasındaki iletişimin azalmasına sebep olan hangi ön yargıya göre davrandığı söylenebilir?

- A) Din ve mezhep ayrımcılığı
- B) Irk ve millet ayrımcılığı
- C) Sosyal sınıf ayrımcılığı
- D) Cinsiyet ayrımcılığı

2.



Genel ağ haberine konu olan genç ile ilgili aşağıdakilerden hangisi söylenemez?

- A) İnsan hak ve özgürlüklerini göz ardı etmiştir.
- B) Ön yargılı bakışlardan rahatsız olmuştur.
- C) Ayrımcılığa maruz kalmıştır.
- D) Kültürel birikimine önem vermektedir.

3.

Ön yargının azalması isteniyorsa toplumsal temas artırılmalıdır. İnsanlar arasındaki iletişim ve duygusal bağ güçlendirilmelidir. Bunun yanında empati ve karşılıklı saygı anlayışı da geliştirilmelidir.

Buna göre ön yargıyı ortadan kaldırmak için,

- I. Kendimizi karşıımızdaki insanların yerine koyarak onun bakış açısıyla düşünmek
- II. Farklı düşünceleri anlamaya çalışmak
- III. Toplumun belli bir kesimini yok saymak

tutum ve davranışlarından hangileri sergilenmelidir?

- A) Yalnız I
- B) I ve II
- C) II ve III
- D) I, II ve III

4.

Aşağıdakilerden hangisi insanlar arasında ayrımcılık oluşturan bir duruma örnektir?

- A) Özel gereksinimli bireylerin istedikleri işlerde çalışmalarının sağlanması
- B) İnsanların inançlarına saygı duyulması
- C) Kadınların iş veriminin erkeklerle aynı olmayacağına düşünülmesi
- D) İnsanların görünüşleriyle değerlendirilmemesi

5.

“Farklılıklarımız birbirimizi tamamlayan zenginliklerimizdir. Bu zenginliği korumanın yolu ön yargı, kalıp yargı ve ayrımcılığa karşı çıkıp farklılıklara saygı göstermektir.” **diyen bir kişiden, aşağıdaki davranışlardan hangisini sergilemesi beklenir?**

- A) Her insanın kendince değer taşıdığını kabul etmesi
- B) İnsanlarla ilişkilerinde bireyselliği ön plana çıkarması
- C) Empati anlayışını görmezden gelmesi
- D) İnsanları dış görünüşleriyle değerlendirmesi

6. Toplumda bağımsız yaşayabilmek için birtakım özel önlemlere ve desteğe ihtiyaç duyan bireylere özel gereksinimli birey denilmektedir. Başka bir ifade ile özel gereksinimli birey, gelişimi normalden farklı olan birey olarak tanımlanmaktadır.

Bu bilgiden hareketle özel gereksinimli bireylere karşı aşağıdaki davranışlardan hangisinin sergilenmesi doğru olmaz?

- A) Onları daha yakından tanımak için çaba harcanmalıdır.
B) Empati kurulmalıdır.
C) Farklılıklara saygı duyulmalıdır.
D) Arkadaşlık ilişkileri belli bir düzeyde tutulmalıdır.

7. Aşağıdakilerden hangisi toplumsal birlik ve beraberliği zedeleyen bir uygulama **değildir**?

- A) Erkek çocukların okula gönderilip kız çocuklarının gönderilmemesi
B) Özel gereksinimli bir bireyin iş için istenen tüm şartları taşımasına rağmen işe alınmaması
C) İnsanların inançlarının gereklerini yerine getirmelerine izin verilmesi
D) Ülkesindeki savaş nedeniyle ülkemize sığınan bir kişiye ev kiralanmaması

8. Üstünde eski elbiseler olan bir genç, aracına binen bir kadının arabasının camına tıklayarak camı açmasını ister. Kadın, gencin hâlini görünce para istediğini düşünerek ona bozuk para uzatır. Aslında genç adam, kadına az önce düşürdüğü cüzdanını vermeye çalışmaktadır.

Bu metindeki kadının gence karşı tutumu,

- I. Ön yargı
II. Cinsiyet ayrımcılığı
III. Empati

kavramlarından hangisi ya da hangileriyle ifade edilebilir?

- A) Yalnız I
B) I ve II
C) II ve III
D) I, II ve III

9. Günümüzde aile, komşu, arkadaşlık ve akrabalık gibi değerlere verilen önem gittikçe azalmaktadır. Bu da insanlar arasındaki etkileşimin, iletişimin özellikle de duygusal bağın azalmasına yol açmaktadır. Birbirini tanımayan, empati kuramayan, farklılıklara saygı duymayan bireylerde başkalarına karşı ön yargılar oluşmaktadır.

Verilen bilgiye göre,

- I. Karşılıklı saygı ve hoşgörünün olmadığı durumlarda ön yargılar artmaktadır.
II. Ön yargılar, insanların sosyalleşmesini olumsuz yönde etkilemektedir.
III. Ön yargılar, insanlar arasındaki birlik ve beraberliğin gelişmesine katkıda bulunmaktadır.

yargılarından hangisi ya da hangilerine ulaşılabilir?

- A) Yalnız I
B) I ve II
C) II ve III
D) I, II ve III

10. Ön yargı, bir kimse veya bir şeyle ilgili olarak belirli şart, olay ve görüntülere dayanarak önceden edinilmiş olumlu veya olumsuz yargı, peşin yargıdır. Ön yargılar genellikle fiziksel farklılığı olan, farklı kültürden, dinden ve mezhepten insanlara karşı olmaktadır. Ön yargının, ayrımcılığın ve çatışmanın azalmasını istiyorsak

Verilen bilgide "....." ile boş bırakılan yere aşağıdakilerden hangisi yazılamaz?

- A) insanların hak ve özgürlükleri ihlal edilmelidir.
B) toplumsal birlik ve beraberlik artırılmalıdır.
C) insanlar arasındaki iletişim ve duygusal bağ güçlendirilmelidir.
D) karşılıklı saygı anlayışı geliştirilmelidir.

Nasıl Geçti?



Doğru



Yanlış



Boş



Net



1.



İtalya'da ırkçılık tartışmaları alevlendi!

İtalyan spor gazetesi Corriere dello Sport'un yarın birbirlerine rakip olacak iki siyahi futbolcunun fotoğrafını kullanarak "Black Friday (Kara Cuma)" manşetini atması tartışma konusu oldu.

İtalya Birinci Futbol Ligi'nin 15. haftasında yarın akşam Inter ile Roma arasında oynanacak olan önemli maç öncesi, gazetenin bu manşeti, ülkede bir süredir önü alınamayan ırkçılık tartışmalarını yeniden alevlendirdi.

Inter'in Belçikalı siyahi forveti Romelu Lukaku ile Roma'nın İngiliz siyahi stoperi Chris Smalling'in fotoğraflarını kullanarak "Black Friday (Kara Cuma)" manşetini atan gazeteye başta iki kulüp olmak üzere pek çok taraftar sosyal medya üzerinden tepki gösterdi.

Verilen bilgilerdeki ayrımcılığa karşı,

- I. Farklılıklara saygı duyulmalı
 - II. İnsanlar fiziki özellikleriyle yadırganmamalı
 - III. Karşılıklı sevgi ve hoşgörü anlayışı oluşturulmalı
- önlemlerinden hangisi ya da hangileri alınabilir?

A) Yalnız I

B) I ve III

C) II ve III

D) I, II ve III

2.





Avusturya'da Müslüman kız çocuklarına "başörtüsü yasağı" ayrımcılığı

Avusturya'da 15 Mayıs'ta mecliste kabul edilen başörtüsü yasağının yalnızca Müslüman kız çocuklarına yönelik olması sivil toplum kuruluşlarının tepkisine yol açtı.





Ülkede 700 bini aşkın Müslüman yaşıyor.



Yahudi ve Sihizm inancına mensup çocukların kullandığı kipa ve patka gibi dinî kıyafetler serbest bırakılıyor.



Yasağı ihlal eden aileler, 440 avro para ve iki haftaya kadar hapis cezasına çarptırılıyor.

Verilen görsele göre Avusturya Meclisi ile ilgili aşağıdakilerden hangisi söylenemez?

- A) İnanç ayrımcılığı yapmıştır.
- B) Toplumsal ayrışmanın oluşmasına ortam hazırlamıştır.
- C) İnsanlar arasındaki birlik ve beraberliğin artması için önlem almıştır.
- D) Toplumun belli bir kesimini dışlamıştır.

3.

YENİ ZELANDA'DA İKİ CAMİYE TERÖR SALDIRISI

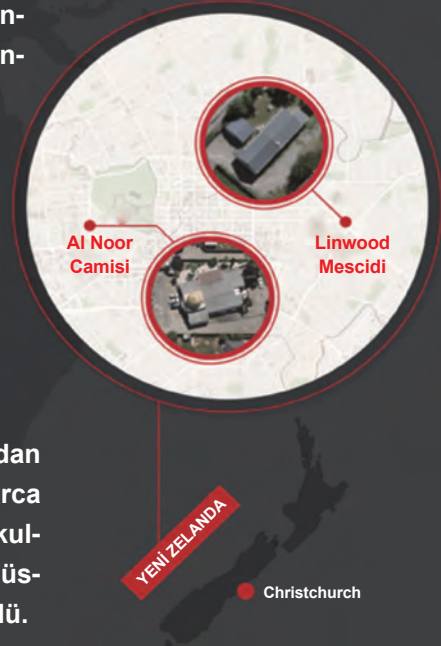
Yeni Zelanda'nın Christchurch kentinde cuma namazı sırasında iki camiye on dakika arayla yapılan silahlı terör saldırılarında 50 kişi yaşamını yitirdi, 50 kişi de yaralandı.



Katliamı gerçekleştiren teröristlerden Avustralya vatandaşı

BRENTON TARRANT

Terör saldırısıyla ilgili 1'i kadın 4 kişi yakalandı.



Teröriste ait olduğu ifade edilen sosyal medya hesabından "göçmen ve Müslüman karşıtı" açıklamaların olduğu onlarca sayfalık bir manifesto yayınladığı belirlendi. Teröristlerin kullandıkları silahlarda İslam karşıtı ifadelerin ve Avrupa'nın Müslümanlarla yaptıkları savaşların tarihlerinin yer aldığı görüldü.

Verilen görsele göre elli kişinin yaşamını yitirmesine neden olan bu kişi ile ilgili,

- I. Müslümanlara karşı ön yargılı davranmıştır.
- II. İnanç ayrımcılığı yapmıştır.
- III. Müslümanlarla empati kurmuştur.

yargılarından hangisi ya da hangilerine ulaşılabilir?

- A) Yalnız I B) I ve II C) II ve III D) I, II ve III

4.

SOSYAL BİLGİLER GAZETESİ

Üniversite Giriş Sınavı Birincisi Görme Engelli Fulya, Boğaziçili Oldu

Üniversiteye giriş sınavında Türkiye birincisi olan Konyalı görme engelli Fulya Akkaya, "Çok mutluyum. Hayallerime kavuştum." diye konuştu. Büyük şirketlerde üst düzey yönetici olmayı hedeflediğini belirten Akkaya, azmi ve çalışkanlığıyla tüm Türkiye'nin takdirini topladı.

Akkaya, özel gereksinimli bireylere hayatta hiçbir zaman ümidini kesmemeleri mesajını vererek, "Öz güven çok önemli. Ön yargılara ve kalıplaşmış yargılara rağmen hiçbir zaman yılmayınlar. Azmedip çalıştıktan sonra başarılmayacak hiçbir iş yok." dedi.

Verilen gazete haberine göre aşağıdaki yargılardan hangisine ulaşamaz?

- A) Özel gereksinimli bireyler, isterlerse toplumun her alanındaki faaliyetlerde başarılı olabilirler.
- B) İnsanın kendine inanması, fiziksel eksikliklerin ortaya çıkardığı olumsuzlukları bertaraf edebilir.
- C) Özel gereksinimli bireyler, toplumdaki diğer bireylerden her zaman üstün tutulmalıdır.
- D) Toplumda özel gereksinimli bireylere karşı birtakım ön yargılar görülebilmektedir.

5.

IRKÇILIK KARŞITLARI MESUT ÖZİL'İ YALNIZ BIRAKMADI



MESUT ÖZİL

Türkiye Cumhuriyeti Cumhurbaşkanı ile çektiği fotoğraf sonrasında uğradığı ırkçı ve ayrımcı saldırılar nedeniyle Almanya Millî Takımı'nı bırakan Mesut Özil'e dünyadan destek yağıyor. Mesut Özil, olaylardan sonra yaptığı açıklamada "Ben kiminle fotoğraf çektireceğimin kararını vermekte özgürüm." dedi.

KEVİN CAMPBELL



"Bravo Mesut Özil. Ayrımcılığın dünyada ve futbolda yeri olmamalı. Sen Almanya'nın kupalar kazanmasına yardım ettin ama şimdi sana doğru döndüler. Kim olduğun ve kökeninle gurur duymalısın."

RİO FERDİNAND



Sosyal medyada yaptığı paylaşımında Mesut Özil'in yayımladığı metne yer vererek "Çok büyük saygı." yazdı.

LUKAS PODOLSKI



"Çoğu zaman beraber kazandık, bazen de başaramadık. Sonuçta futbol bu. Seninle takım arkadaşı olmak her zaman büyüleyiciydi. Eğlenceli ve kahkaha dolu anlar paylaştık. Daha da paylaşacağımızıza eminim. Her zaman mutlu ol."

Verilen görsele göre Mesut Özil ile ilgili,

- I. İrkçı ve ayrımcı davranışlara maruz kaldığı
 - II. Hak ve özgürlüklerinin korunmasında duyarlı davrandığı
 - III. Birçok insanın kendisine destek vermek amacıyla mesaj yayınladığı
- yargılarından hangisi ya da hangileri söylenebilir?**

- A) Yalnız I B) I ve III C) II ve III D) I, II ve III

6. Ön yargı; bir kimse ya da bir olayla ilgili yeteri kadar bilgi sahibi olmadan, önceden düşünülen bir takım yargılara veya kararlara varma durumudur. Ön yargılar; genellikle fiziksel farklılığı olan, kültür, din, sosyo-ekonomik yapı ve cinsiyet farklılığı gibi sebeplerden kaynaklanmakta olup insanlar arasında etkileşim ve iletişimin azalmasına sebep olmaktadır. Ön yargılar, olumlu ya da olumsuz olabilmektedir.

Bu bilgidten hareketle,

- I. Matematik yazılısından en yüksek puanı sınıfta İsa aldı.
- II. Ömer Usta bu arabayı tamir edemez, Yasin Usta'ya gidelim.
- III. Ayşe yeni bir işe başlamış ama bir haftaya kalmaz kovulur.
- IV. Temizliği Meltem yapıyorsa iki saate her yer bal dök yala olur.

cümlelerinden hangisi ya da hangileri ön yargıya örnek oluşturmaz?

- A) Yalnız I B) I ve IV C) II, III ve IV D) I, II, III ve IV

7.



Bir gün markette aldığım ürünleri poşetlerken yaşlı bir kadın, poşetlemeye başladığım ürünlerin geri kalanını kendisi de önüne bir poşet olarak doldurmaya başladı. Hemen tepki göstererek “Teyze ne yapıyorsun, onlar benim.” diyerek yüksek sesle konuştum. O da “Biliyorum oğlum senin olduğunu, ben sana yardım ediyorum.” dedi. O an ne diyeceğimi bilemedim. Hemen özür diledim. O da “Önemli değil, biz insanlar iyilikten, yardımdan o kadar uzak kalmışız ki her hareketi kötü gibi algılıyoruz.” dedi. Bu olay beni çok etkiledi.

Verilen metinden hareketle aşağıdaki yargılardan hangisine ulaşılabilir?

- A) İkili ilişkilerde bireysellik ön plana çıkarılmalıdır. B) İnsanlara karşı ön yargılı olunmamalıdır.
C) Yaşlı insanlara her zaman öncelik verilmelidir. D) İnsanlar ne olursa olsun rahatsız edilmemelidir.
8. Ayrımcılık, bir gruba veya grubun üyelerine karşı ön yargılardan beslenen olumsuz tutum ve davranışların tümüyle ilgili bir süreçtir.
Buna göre aşağıdakilerden hangisi bir ayrımcılık durumu olarak görülemez?
- A) Engelli olduğu için bir kişinin işe alınmaması
B) Göçmen olduğu için bir kişinin ev kiralayamaması
C) Bir konserde kadın ve çocukların ön sıralarda yer alması
D) Kadınların çalışma imkânlarından erkeklerle eşit şekilde yararlanamaması

9.



Kilimlerdeki desenlere tek tek baktığımızda bir anlam ifade etmezler. Desenler bir araya gelince zenginliğe dönüşür. Renkler desenleri, desenler motifleri, motifler de kilimi oluştururken bütün bunlar bir sanata dönüşmüştür.

Verilen bilgide aşağıdakilerden hangisine vurgu yapılmıştır?

- A) Farklılıklara karşı saygılı olunmasına B) İnsanlara ön yargıyla yaklaşılmamasına
C) Empati kurmanın engellenmesine D) Sanatsal faaliyetlerin göz ardı edilmesine

Nasıl Geçti?



Doğru



Boş



1. İnsanlar beslenme, giyinme, barınma, eğitim, sağlık gibi ihtiyaçlarını karşılamak için kurumsal bir düzene gereksinim duyarlar. Sosyal yardımlaşma ve dayanışma bu ihtiyaçları karşılamak üzere ortaya çıkan, toplumun ekonomik yapısını dengede tutan, birlik ve beraberliği artıran değerlerdir. Bu değerler kapsamında yapılan faaliyetler arttıkça toplumun refah düzeyi ve toplumsal huzur artar.

Verilen bilgidен hareketle yardımlaşma ve dayanışmanın faydaları arasında,

- I. Kardeşlik ve dostluk duyguları gelişir.
II. Toplumsal barışa katkı sağlanır.
III. Sosyal bağlarımız güçlenir.

hangisi ya da hangileri yer alır?

- A) Yalnız I
B) I ve II
C) II ve III
D) I, II ve III

2.

SOSYAL BİLGİLER GAZETESİ

Burada Para Geçmez Sokağı

Beyazıd-ı Cedid Camii Derneği, üç yıldır her cumartesi günü ihtiyaç sahibi aileler için ücretsiz sebze meyve dağıtımını yapıyor. Dernek başkanının halden getirdiği ürünler, mahalle sakinleri tarafından poşetlenip saat 17.00 olduğunda ayırım yapılmaksızın sırada kim varsa dağıtılıyor. Başlangıçta 30-40 aile iken bugün 170 ailenin mutfağını şenlendiren bu hareketin sloganları ise tebessüm ettiriyor: "Burada Para Geçmez Sokağı", "İnsanlığı İyilik Kurtaracak", "Her Şey Parasız, Burada Para Geçmiyor."

Aşağıdakilerden hangisi bu habere konu olan bu durumu ifade etmek için kullanılamaz?

- A) Komşusu aç iken tok yatan bizden değildir.
B) Söz gümüşse sükût altındır.
C) Baş başa vermeyince taş yerinden kalkmaz.
D) Birlikten kuvvet doğar.

3. Ülkemizde farklı alanlarda hizmet veren birçok sivil toplum kuruluşu bulunmaktadır. Sivil toplum kuruluşları gönüllülük esasına dayalı olarak yaptıkları çalışmalarla toplumda dayanışmanın oluşmasına katkıda bulunurlar.

Aşağıdaki sivil toplum kuruluşlarından hangisi maddi zorluklar çeken öğrencilere eğitim alanında fırsat eşitliği sağlamak amacıyla kurulmuştur?

- A) Türk Kızılay
B) Darülaceze
C) TEV
D) LÖSEV

4. Bir toplumu oluşturan bireylerin duygu, düşünce ve ortak çıkar birliği ile birbirlerine bağlanmaları ve her konuda birbirlerine destek olmalarına dayanışma denir.

Verilen tanımdan hareketle,

- I. Kırsal kesimlerde ortak ya da kişisel işlerin el birliğiyle yapılması
II. Cenaze evlerine taziye ziyaretlerine gidilmesi
III. Fakir ve muhtaç vatandaşlarımızın desteklenmesi

durumlarından hangisi ya da hangileri dayanışmaya örnek olarak gösterilebilir?

- A) Yalnız I
B) I ve II
C) II ve III
D) I, II ve III

5. İslamiyet ile birlikte yardımlaşma ve dayanışma duygumuz daha da pekişmiştir. "Komşusu aç iken tok yatan bizden değildir." hadis-i şerifinden hareketle

Verilen bilgideki "....." ile boş bırakılan yer aşağıdakilerden hangisiyle tamamlanırsa yanlış olur?

- A) vakıflar oluşturulmuştur.
B) toplumsal sorunlara duyarsız kalınmıştır.
C) aşevleri kurulmuştur.
D) sadaka ve zekât ile muhtaç olan insanlara yalnız olmadıkları hissettirilmiştir.

6. Sosyal yardımlaşma ve dayanışma insanların bazı ihtiyaçlarını karşılamak üzere ortaya çıkan, toplumun ekonomik yapısını dengede tutan, birlik ve beraberliği artıran değerlerdir. Bu değerler kapsamında yapılan faaliyetler arttıkça toplumun refah düzeyi ve toplumsal huzur artar.

Buna göre yardımlaşma ve dayanışma ile ilgili aşağıdakilerden hangisi söylenemez?

- A) Bütünleşmeyi sağladığı
B) Sosyal bağları güçlendirdiği
C) Toplumsal uzlaşmayı kolaylaştırdığı
D) Toplumda ayrışmayı artırdığı
7. Alo 144 Sosyal Yardım Hattı, yoksullukla etkin bir mücadele için fakir ve muhtaç insanların desteklenmesi, bilgiye ve yardıma erişim fırsatlarının artırılması amacıyla hayata geçirilmiş bir projedir. **Bu bilgiden hareketle Alo 144 Sosyal Yardım Hattı'nın kurulmasının aşağıdakilerden hangisine ortam hazırladığı söylenebilir?**
- A) Toplumsal çatışmanın artması
B) Toplumsal birlikteliğin oluşması
C) Toplumsal barışın bozulması
D) Bireysel farklılıkların ortaya çıkarılması

8. Öncelikle doğal afetlerde yurt içi ve yurt dışında ihtiyaç sahibi insanlara, kimsesizlere, yoksullara yeme, içme, barınma, sağlık vb. alanlarda yardım ulaştırmaktadır.

Faaliyetleri hakkında bilgi verilen sivil toplum kuruluşu aşağıdakilerden hangisidir?

- A) Türk Kızılay
B) TEMA
C) Mehmetçik Vakfı
D) Darüşşafaka

9. Darülaceze din, dil, ırk, cinsiyet ve mezhep farkı gözetmeksizin muhtaç insanlara hizmet veren bir hayır kurumudur. Darülacezede barınan sakinlerin tüm giyinme, barınma, gıda, sağlık ve bakım ihtiyaçları kurum tarafından karşılanmaktadır.

Buna göre Darülaceze ile ilgili aşağıdakilerden hangisine ulaşılamaz?

- A) Yardımlaşma ve dayanışmayı destekleyici faaliyetler yürütmektedir.
B) Zor durumda kalan insanlara kapılarını açarak onların ihtiyaçlarını karşılamaktadır.
C) Toplumdaki kişilerin inanç ve düşüncelerine göre ayrı hizmet vermektedir.
D) Toplumsal ayrışmaya neden olabilecek uygulamalardan kaçınmaktadır.

10. Türk Silahlı Kuvvetleri Mehmetçik Vakfı, 17 Mayıs 1982 tarihinde ülkemizin ve milletimizin güvenliği için canlarını hiçe sayarak görev yapan erbaş ve erlerimizden şehit olan veya herhangi bir nedenle hayatını kaybedenlerin bakmakla yükümlü oldukları yakınları ile gazi ve engelli Mehmetçiklere sosyal ve ekonomik destek sağlamak amacıyla Ankara'da kurulmuştur.

Metinden Türk Silahlı Kuvvetleri Mehmetçik Vakfı ile ilgili hangi bilgiye ulaşılamaz?

- A) Giderlerini nasıl karşıladığına
B) Ne zaman kurulduğuna
C) Kuruluş amacına
D) Nerede kurulduğuna

Nasıl Geçti?



Doğru



Yanlış



Boş



Net



1. Aşağıda bazı özelliklerin yazılı olduğu 4x4'lük bir kare ile ülkemizde faaliyet gösteren sivil toplum kuruluşlarından bazılarının isimlerinin yazılı olduğu yapboz parçaları verilmiştir.

Gazi ve şehit ailelerine sosyal ve ekonomik destek sağlamak amacıyla kurulmuştur.	Lösemili çocukların sağlık ve eğitimi başta olmak üzere her türlü ihtiyaçlarını karşılamaya çalışır.
Her türlü doğal ve beşerî afette yurt içinde ve dışında insanların yardımına koşmaktadır.	Maddi zorluk çeken öğrencilere, eğitim alanında fırsat eşitliği yaratmak amacıyla kurulmuştur.



Sosyal Bilgiler öğretmeni; Yusuf'a yukarıdaki yapboz parçalarını verip ondan bu parçaları 4x4'lük kare içinde yazılı olan özelliklerle eşleştirmesini ve bu dört parçayı birleştirerek yapbozu tamamlamasını istemiştir.

Buna göre Yusuf yapbozu tamamladığında ortaya çıkan model aşağıdakilerden hangisi olabilir?

A)



B)



C)



D)



2.

<https://www.aa.com.tr/tr/yasam/ogrencilerin-simit-parasi-7-aileyi-sevindiriyor/754129>

Öğrencilerin simit parası 7 aileyi sevindiriyor.

Yunus Emre Anadolu Lisesi öğretmeni ve öğrencilerinin başlattığı "Haftada 1 TL Bağış" kampanyası ile toplanan paralar her ay ihtiyaç sahibi yedi aileye dağıtılıyor. Okuldaki bağış kutusuna, gönüllülük esasıyla her hafta bir lira bağış yapan öğrenciler, belirledikleri ihtiyaç sahibi yedi aileye ayda 300 TL veriyor. Öğrenciler artan parayla aldıkları oyuncakları da Sevgi Evlerinde barınan çocuklara hediye edip onların yüzünün gülmesine vesile oluyor.

Habere konu olan öğretmen ve öğrenciler ile ilgili aşağıdakilerden hangisi söylenemez?

- A) Sosyal sorumluluk projesi geliştirmişlerdir.
 B) Maddi zorluk çeken ailelere destek olmuşlardır.
 C) Toplumsal yardımlaşma ile ilgili yasa çıkarmışlardır.
 D) Çevrelerindeki sorunlara duyarsız kalmamışlardır.

3.

**Asalet ve Merhametin Simgesi Sadaka Taşları**

Osmanlı Devleti'nde genellikle cami etrafında bulunan ve üzerinde para konulabilecek bir oyuğu bulunan sadaka taşları, mesaisine akşam karanlığında başlardı. Dar ve çıkmaz sokaklı Osmanlı mahallesine karanlık çöktüğünde canlanırdı sadaka taşları. Yardım etmek isteyenler bu taşın üstüne para bırakırdı. Sadaka taşlarına para bırakıldıktan sonra derdini kimseye anlatamayan ihtiyaç sahibi kişiler gecenin geç saatlerini bekler, kimseye görünmeden ihtiyacı kadar olan parayı alırdı ve diğer ihtiyaç sahiplerini de düşünürdü.

Buna göre Osmanlı'daki bu uygulamanın sonuçları ile ilgili aşağıdakilerden hangisi **söylenemez**?

- A) Yardımlaşma ve dayanışma duygularının gelişmesini sağlamıştır.
- B) Sosyal bağların güçlenmesinde etkili olmuştur.
- C) İnsanların ticari faaliyetlerde uluslararası destek almalarını sağlamıştır.
- D) Toplumsal birlik ve beraberliği artıran unsurlar arasında yer almıştır.

4.

TÜRKİYE RAMAZAN'DA ARAKANLILARA YARDIM ELİ UZATTI

Türkiye, Ramazan'da hem Arakan'da zorlu şartlarda yaşayan hem de Bangladeş'e sığınan Arakanlı Müslümanların umudu oldu.



Arakan'daki kamplarda kalan 5 bin aileye gıda, 180 aileye barınma yardımında bulundu.



Bangladeş'te kamplarda kalan 30 bin kişiye Ramazan boyunca sıcak yemek dağıttı.



İftar programları düzenledi.



Mynmar'daki Arakanlı Müslümanlara Ramazan boyunca 6 bin 200 gıda paketi dağıttı.



5 bin aileye iftar verdi.



Bangladeş'teki Arakanlı Müslümanlara 10 bin gıda kolisi dağıttı, 13 bin kişiye iftar verdi.



Verilen görsele göre,

- I. Ülkemizin uluslararası yardımlaşma örneği sergilediği
 - II. İnsanların barınma ve beslenme sorunlarının giderilmeye çalışıldığı
 - III. Ülkemizin zor durumda kalan Müslümanlara karşı duyarlı davrandığı
- yargılarından hangisi ya da hangilerine ulaşılabilir?**

- A) Yalnız I
- B) I ve III
- C) II ve III
- D) I, II ve III

5. **Türkiye “Vefa” ile iyiliği dalga dalga büyüttü.**

2020’de ortaya çıkan salgın hastalıkta sokağa çıkamayan yaşlı vatandaşların temel ihtiyaçlarını karşılamak için valilik ve kaymakamlıklar bünyesinde “Vefa Sosyal Destek” grupları kuruldu. Vefa Projesi, Türkiye’nin 81 ilindeki yaşlılar için seferber edildi. Sokağa çıkma yasağı bulunanların temel ihtiyaçları gönüllü olarak görev yapan kamu ve sivil görevlilerce karşılandı.



21 BİN

Türkiye’nin dört bir yanında yaygınlaştırılan projeye 21 bini aşkın yaşlı vatandaşa devletin “Vefa” eli uzatıldı.



Temel ihtiyaçlarını karşılayacak kimsesi olmayan, sokağa çıkması kısıtlanan 65 yaş üstü vatandaşlar 112 numaralarını arayarak destek talebinde bulundular.

Verilen görsele göre Vefa Destek Projesi ile,


- I. İnsanların zor günlerinde birbirlerine destek olmalarını sağlamak
 - II. Toplumdaki yardımlaşma ve paylaşma duygularını ön plana çıkarmak
 - III. Devlet ile yaşlılar arasında bir köprü kurarak toplumsal bütünleşmeyi gerçekleştirmek
- amaçlarından hangisi ya da hangilerinin gerçekleştirilmek istendiği söylenebilir?**

- A) Yalnız I B) I ve III C) II ve III D) I, II ve III

6.

https://www.aa.com.tr/tr/turkiye/elazigin-gonulluler-ordusu-gonulleri-fethediyor/1717562

Elazığ’ın “Gönüllüler Ordusu” Gönülleri Fethediyor.



Elazığ depreminden sonra AFAD ve Türk Kızılay, bölgede adeta seferber oldu. Ayrıca ülkenin dört bir yanından Elazığ’a koşan ve gönüllülük esasına göre çalışan bazı yardım kuruluşları da bölgede fedakârca çalıştı. Kente gelen “gönüllüler ordusu”, depremzedelerin hem ihtiyaçlarını karşıladı hem de psikolojik destek sağladı. Depremzede çocuklarla çeşitli oyunlar oynayan gönüllüler, zaman zaman da onlara hediyeler vererek gönülleri fethettiler.

Verilen genel ağ haberinden aşağıdaki çıkarımlardan hangisi yapılamaz?

- A) Ülkemizde yardımlaşma ve dayanışmanın güçlü olduğu
- B) Ülkemizin doğal afetleri önlemek için dış ülkelerden destek aldığı
- C) Türk halkının depremzedelerin ihtiyaçlarına duyarsız kalmadığı
- D) İnsanların zor anlarda birbirlerine destek oldukları

7.

T.C. AİLE VE SOSYAL HİZMETLER BAKANLIĞI

Bireyi ve aileyi güçlendiren sosyal hizmetler sunmak, toplumun refah seviyesini artırıp sosyal güvenlik sistemini sürdürmek amacıyla hizmet vermektedir.



TÜRK KIZILAY

Afetlerde ve olağan dönemlerde korumasız olanlara ve ihtiyaç sahiplerine yardım sağlamak, toplumda yardımlaşmayı geliştirmek ve kan ihtiyacını karşılamak amacıyla hizmet vermektedir.



TÜRK SİLAHLI KUVVETLERİ MEHMETÇİK VAKFI

Vatani görevi esnasında şehit olan veya herhangi bir nedenle hayatını kaybeden Mehmetçiklerin bakmakla yükümlü oldukları yakınları ile gazi ve engelli Mehmetçiklere sosyal ve ekonomik destek sağlamak amacıyla hizmet vermektedir.



TÜRK EĞİTİM VAKFI (TEV)

Eğitim alanında fırsat eşitliği sağlamak, maddi zorluk çeken öğrencilere yardım etmek amacıyla hizmet vermektedir.



Buna göre 6 Şubat 2023 Pazartesi gecesi Kahramanmaraş merkezli 7,7 ve 7,6 büyüklüğündeki depremlerden etkilenen ve evsiz kalan insanlara yukarıdaki kurum ve kuruluşlardan öncelikle hangisinin yardım etmesi beklenir?

- A) T.C. Aile ve Sosyal Hizmetler Bakanlığı
B) Türk Kızılay
C) Türk Silahlı Kuvvetleri Mehmetçik Vakfı
D) Türk Eğitim Vakfı

8. SEDEP Projesi ile Konya'da birçok okulda "İtimat Bakkaliyesi" köşesi kuruldu. Başında görevlisi olmayan bakkaliyenin biri dürüstlük, diğeri de cömertlik olmak üzere iki rafı bulunuyor. Dürüstlük rafından öğrenci kendi başına alışverişini yaparak parasını kasaya bırakıyor. Eğer başkaları ile de paylaşmak isterse aldığı ürünlerden cömertlik rafına da bırakabiliyor. Cömertlik rafından ise ihtiyaç sahibi olan öğrenci ihtiyacını ücretsiz karşılayabiliyor. Bu uygulama ile öğrencilerin "doğruluk", "dürüstlük" ve "cömertlik" gibi değerlerini özümsemeleri amaçlanıyor.



Buna göre İtimat Bakkaliyesi uygulaması ile aşağıdakilerden hangisinin amaçlandığı söylenebilir?

- A) Sosyal bağların güçlenmesini sağlamak
B) İhtiyaç sahibi öğrencilere burs vermek
C) Ferdî çıkarlarını düşünen bireyler yetiştirmek
D) Bireysel farklılıkları ön plana çıkarmak

Nasıl Geçti?



Doğru



Yanlış

Boş

Net

1. Rahatsızlığı nedeniyle hastaneye giden Can Bey, tedavi sürecinde kendisine iyi davranılmadığını düşünmüş ve hasta haklarını kullanarak başhekimliğine dilekçe vermiştir. Başhekimlik konuyu incelemiş, Can Bey'in hasta olarak sorumluluklarını yerine getirmedeğini belirterek olumsuz cevap vermiştir. Bunun üzerine Can Bey, "https://hastahaklarisaglik.gov.tr" adresi üzerinden hastane ve başhekimlikten şikâyetçi olunca konu ve şikâyet Sağlık Bakanlığına ulaşmış, inceleme altına alınmıştır.

Verilen bilgiye göre Can Bey ile ilgili,





- I. Sorunun çözümü için yasal hakkını kullanmıştır.
II. Sorunu görmezden gelmeyerek bilinçli bir hasta olduğunu göstermiştir.
III. Sorunu gayriresmî şekilde çözmeye çalışmıştır.

yargılarından hangisi ya da hangileri söylenebilir?

- A) Yalnız I
B) I ve II
C) I ve III
D) II ve III

2. ALO 175, tüketicilerin ister mesafeli alışverişlerde ister doğrudan alışverişlerde aldıkları her türlü ürün ve hizmetlere yönelik şikâyetlerini bildirebilecekleri, problem ve mağduriyetlerine çözüm arayabilecekleri bir hattır.

Kuruluş amacı verilen kurumsal telefon hattının aşağıdaki bakanlıklardan hangisine bağlı olarak faaliyet yürüttüğü söylenebilir?

- A)  B) 
C)  D) 

3. Herhangi bir sorunla karşılaştığımızda bu sorunumuzu çözmek amacıyla,

- I. Soruna karşı pasif bir tutum sergilenmelidir.
II. Kurum ile ilgili şikâyet hatlarını aranmalıdır.
III. Dilekçe ile başvuru yapılmalıdır.

davranışlarından hangisi ya da hangilerinin yapılması gerekir?

- A) Yalnız I
B) I ve III
C) II ve III
D) I, II ve III

4. Anayasamızın 74. maddesinde şu bilgiye yer verilmiştir: "Vatandaşlar ve karşılıklılık esası gözetilmek kaydıyla Türkiye'de ikamet eden yabancılar kendileriyle veya kamu ile ilgili dilek ve şikâyetleri hakkında, yetkili makamlara ve Türkiye Büyük Millet Meclisine yazı ile başvurma hakkına sahiptir."

Buna göre anayasamızın 74. maddesinde aşağıdaki haklarımızdan hangisiyle ilgili bilgiler yer almaktadır?

- A) Sağlık hakkı
B) Dilekçe hakkı
C) Yaşama hakkı
D) Barınma hakkı

5. Ülkemizde çocukların haklarını kullanmasına ve sorunlarını çözmelerine yardımcı olacak birçok resmî kurum ve sivil toplum kuruluşu vardır. Bunlardan biri de "Kamu Denetçiliği Kurumu"dur.

Bu durum,

- I. Çocuk haklarının koruma altına alındığı
II. Çocuk haklarına kısıtlama getirildiği
III. Çocuk haklarının göz ardı edildiği

sonuçlarından hangisi ya da hangilerinin göstergesidir?

- A) Yalnız I
B) I ve II
C) II ve III
D) I, II ve III

6.

Yetkili kurumlara dilekçe ile başvurmak

Bakanlık hatlarını arayarak yardım istemek

Hukuka uygun hareket etmek

Sorun karşısında pasif tutum sergilemek

Yukarıdaki öğrencilerden hangisinin önerisi sorunlarımızın çözümünde kullanacağımız yöntemlerden biri olamaz?

- A) Ela B) Nur
C) Can D) Elif

7. Nüfus, günümüzde genel olarak şehirlerde toplanmış ve yüksek katlı apartmanlardan oluşan bir şehir yaşantısı başlamıştır. Şehirleşmenin getirdiği toplum yapısı hak, özgürlük ve sorumluluk ilişkisini daha da önemli hâle getirmiştir.

Bu bilgiden hareketle çevremize karşı sorumluluklarımız arasında,

- I. Çevreyi temiz tutmak
II. Komşuları rahatsız etmemek
III. Mesire alanlarında piknik yapabilmek

hangisi ya da hangileri yer alır?

- A) Yalnız I B) I ve II
C) II ve III D) I, II ve III

8.



Mustafa Bey, marketten yeni aldığı ayranı eve gelince açmış ve kokusundan ayranın bozuk olduğunu fark etmiştir.

Mustafa Bey bu sorununu çözmek için öncelikle aşağıdakilerden hangisini yapmalıdır?

- A) Ürün ile birlikte markete gitmelidir.
B) Tüketici hakem heyetine başvurmalıdır.
C) Zabıta ekiplerine şikâyet etmelidir.
D) Ayranın yenisini satın almalıdır.

9. Haklarının ne olduğunu bilen bilinçli bireylerden oluşan toplumlarda karşılaşılabilecek sorunlar azalır. Şahıslarla hatta devlet kurumlarıyla sorun yaşandığında insanlar neler yapması gerektiğini bilir. Karşılaşılan sorunlar çözülürken insanlar hakları ve sorumlulukları doğrultusunda hukuka uygun hareket ederler.

Verilen bilgiden hareketle bilinçli bireylerden oluşan toplumların özellikleri arasında aşağıdakilerden hangisi yer almaz?

- A) Sorunlar yasalara uygun olarak çözülür.
B) İnsanların hak ve özgürlükleri ihlal edilir.
C) Huzur ve asayiş sorunları yaşanmaz.
D) Toplumsal sorunlar azalır.

10. Aşağıda Radyo Televizyon Üst Kuruluna (RTÜK) 2017 yılında vatandaşlardan gelen şikâyet konuları ve sayıları verilmiştir.

ŞİKÂYET KONUSU	SAYISI
Ailenin korunmasına aykırılık	63501
Çocuk ve gençlerin gelişimini olumsuz etkileme	26374
Toplumda özgürce kanaat oluşmasına engel olma	20515
Dil, din, ırk, renk, cinsiyet, mezhep farklılıkları	19743
TOPLAM	141763

Bu bilgi ve tabloya göre aşağıdaki yargılardan hangisine ulaşılabilir?

- A) RTÜK, en çok ailenin korunmasına aykırılık konusunda şikâyet almıştır.
B) RTÜK radyo ve televizyon yayınlarıyla ilgili gelen şikâyetleri değerlendirmek için kurulmuştur.
C) Vatandaşlar radyo ve televizyon programlarıyla ilgili sorunlarını yasal haklarını kullanarak ilgili kuruluşa ilemişlerdir.
D) RTÜK'e toplumda ayrımcılığa ve çatışmaya neden olabilecek konularla ilgili şikâyet olmamıştır.

Nasıl Geçti? 😞 😐 😊 Doğru Yanlış Boş Net

1.



Azra Hanım, yeni aldığı çamaşır makinesini, kullanım kılavuzunu okuyarak kullanmaya başlamıştır. Bir süre sonra çamaşır makinesinin çamaşırları iyi yıkamadığını ve çamaşırların suyunu sıkmadığını fark etmiştir. Azra Hanım, ürünü aldığı beyaz eşya mağazasına sorunu bildirmiştir. Mağaza yetkilileri yaşanan bu durumun kullanıcı hatasından kaynaklandığını ve bir şey yapamayacaklarını belirtmişlerdir.

Yaşadığı bu sorunu çözmek isteyen Azra Hanım öncelikle aşağıdakilerden hangisini yapmalıdır?

- A) Başka bir mağazadan yeni bir çamaşır makinesi satın almalıdır.
- B) Polisi arayarak mağaza yetkililerini şikâyet etmelidir.
- C) Tüketici hakem heyetine dilekçe ile başvurmalıdır.
- D) Çamaşır makinesi tamircisine giderek makineyi tamir ettirmelidir.

2. (I) Denizli Sıdık Çalışkan Ortaokulunda Sosyal Bilgiler öğretmeni olarak görev yapan Erkan Bey, pazar günü çocuklarıyla birlikte çocuk parkına gitti. (II) Gittiği parktaki oyuncakların kullanılamaz hâlde olduğunu ve parktaki çöplerin toplanmadığını fark etti. (III) Pazartesi sabahı Mahalle Muhtarı Murat Bey'in yanına giderek görevini yapmadığını söyledi ve Murat Bey ile tartıştı. (IV) Daha sonra parkın durumuyla ilgili bir dilekçe yazdı ve belediyenin ilgili birimine teslim etti.

Numaralandırılmış cümlelerin hangisi Erkan Bey'in yaşadığı bu soruna çözüm ararken yasal haklarına uygun hareket ettiğini gösterir?

- A) I
- B) II
- C) III
- D) IV

3. "CİMER; bilişim ve iletişim teknolojileri kullanılarak hayata geçirilen bir uygulamadır. CİMER, vatandaş ile devlet arasındaki iletişim kanallarını açık tutarak müracaatların her zaman ve her yerden yapılabilmesini mümkün kılmaktadır. Bu uygulama ile vatandaşın kendisi ile ve kamuyla ilgili talep, şikâyet, ihbar, görüş ve önerileri ile bilgi edinme haklarına ilişkin idari makamlara yapacakları müracaatlara cevapların hızlı ve etkin bir şekilde verilmesi hedeflenmektedir.

Verilen bilgi ve görselden CİMER ile ilgili aşağıdakilerden hangisinin cevabına ulaşılamaz?

- A) Başvurulara kaç gün içinde cevap verdiğine
- B) Hangi kuruma bağlı olarak faaliyet yürüttüğüne
- C) Hangi amaçla kurulduğuna
- D) Hangi kurumsal telefon hattını kullandığına



4.

Biz kimiz?

Herkes gibi senin de idarelerle (okul, hastane, aile hekimiği, yurt, valilik, kaymakamlık, karakol, itfaiye ve belediye gibi) yaşadığın sorunları çözmek için kurulmuş yeni bir KURUMUZ.

- Kamu Hizmeti (eğitim, sağlık, ulaşım, barınma gibi) alırken haksızlığa uğradığını mı düşünüyorsun?
- Kamu Görevlileri (öğretmen, doktor, hemşire, yurt görevlisi, itfaiyeci, asker, polis gibi) ile ilgili bir sorun mu yaşadın?

Senin idarelerle yaşadığın bu sorununu öncelikli olarak ilgili idare ile paylaşmanı, sorunun hala çözülmediğini düşünüyorsan bize başvurmanı bekliyoruz.

Bize kolaylıkla başvurabilirsin...

www.kdkeocuk.gov.tr

Şikayet Başvurusu ÜCRETSİZ!

BİZE KİMLER BAŞVURABİLİR?

- Çocuklar,
- Gençler,
- Yetişkinler,
- Dernekler,
- Vakıflar...

YALNIZ DEĞİLSİN!

KAMU DENETÇİLİĞİ KURUMU (KDK)

BÜTÜN ÇOCUKLARIN SESİDİR.

KDK KAMU DENETÇİLİĞİ

unicef

Verilen broşüre göre Kamu Denetçiliği Kurumu ile ilgili,

- I. Toplumun birçok kesiminin başvurularını kabul etmektedir.
 - II. Çocuk haklarının korunmasında etkin olarak faaliyet göstermektedir.
 - III. Halkın devlet ile ilgili yaşadığı sorunlarını çözüme kavuşturmak amacıyla kurulmuştur.
- yargılarından hangisi ya da hangileri söylenebilir?

- A) Yalnız I B) I ve II C) II ve III D) I, II ve III

5. Günümüzde sorunlarımızın çözüme kavuşması için çok kısa sürede ve zahmetsizce ulaşabileceğimiz telefon hatlarını kullanabilmekteyiz. Yapmamız gereken talep, görüş, öneri, ihbar veya şikâyetimizi doğru şekilde ifade etmek ve kimlik bilgilerimizi vermek olacaktır. Bu amaçla kullanabileceğimiz telefon hatlarından bazıları şunlardır:

ALO 112

Acil çağrı yapılmasını gerektirecek durumlarda vatandaşlarımızın arayabilmeleri ve bilgi verebilmeleri amacıyla kullanılan hattır.

ALO 175

Tüketicilerin alışverişlerinde aldıkları her türlü ürün ve hizmete yönelik şikâyetlerini bildirip problem ve mağduriyetlerine çözüm arayabilecekleri bir hattır.

ALO 178

Radyo ve televizyon yayınları hakkında gelen şikâyetleri değerlendirmek için kurulmuştur.

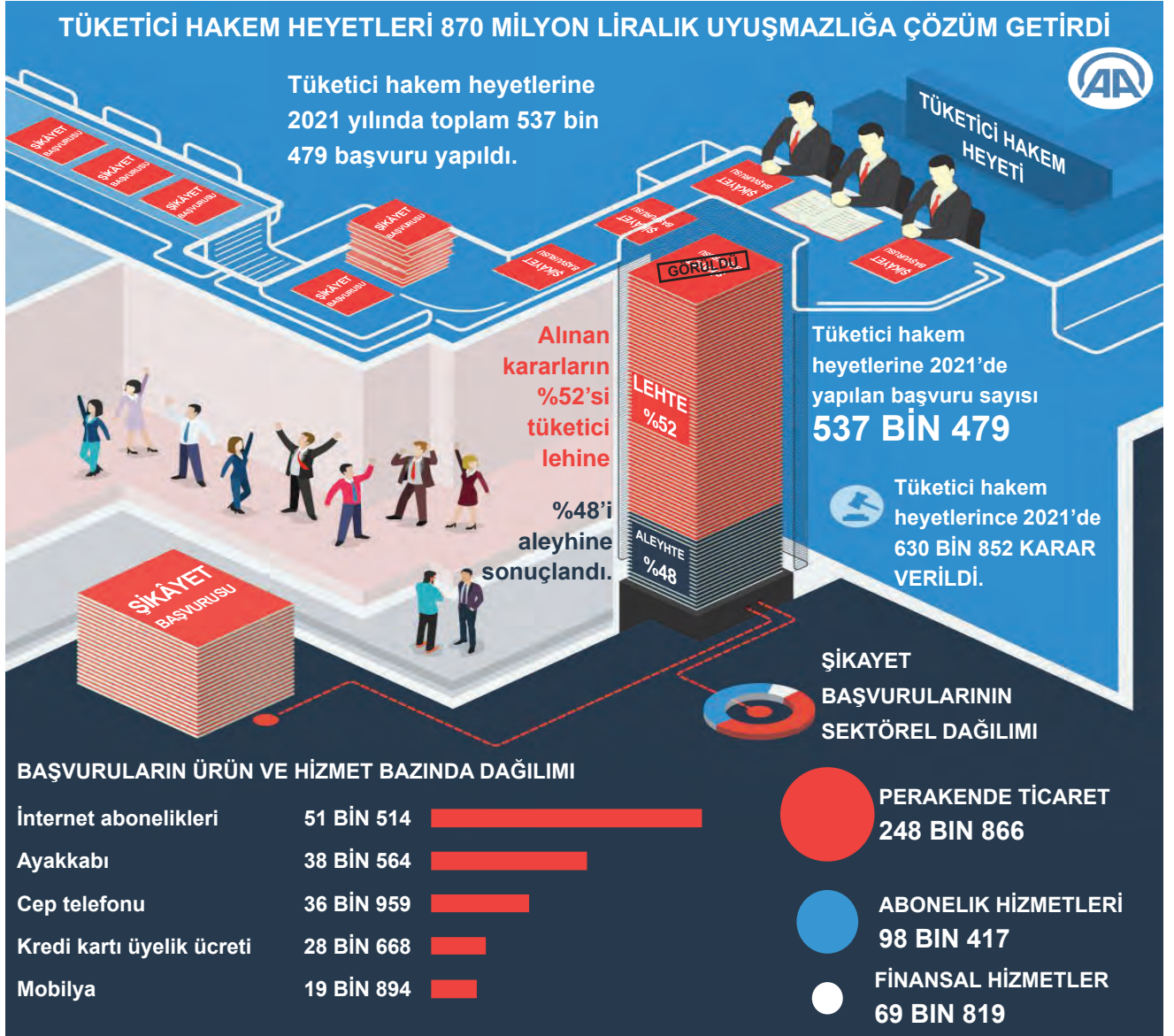
ALO 184

Sağlık sistemine yönelik talep, eleştiri ve önerilerde bulunabileceğimiz, sağlık hizmetinden yararlanırken yaşadığımız sorunları iletebileceğimiz bir hattır.

Buna göre rahatsızlığı nedeniyle başvurduğu hastanedeki tedavi sürecinde hasta haklarının ihlal edildiğini düşünen bir kişi, sorununun çözümü için aşağıdaki hatlardan hangisini aramalıdır?

- A) 112 B) 175 C) 178 D) 184

6.



Verilen görselden aşağıdaki yargılardan hangisine ulaşamaz?

- A) Tüketici hakem heyetlerine en çok şikâyet edilen sektör perakende ticaret sektörüdür.
 B) Tüketici hakem heyetlerinin verdiği karar sayısı, tüketicilerin yaptığı başvuru sayısından azdır.
 C) Ayakkabı için yapılan şikâyet, kredi kartı üyelik ücreti için yapılan şikâyetten fazladır.
 D) Tüketici hakem heyetlerinin aldığı kararların yarısından fazlası tüketicilerin lehinedir.

7.

Haklarının ne olduğunu bilen bilinçli bireylerden oluşan toplumlarda karşılaşılabilecek sorunlar azalır. Şahıslardan hatta devlet kurumlarından kaynaklanan sorunlar ile karşılaştığımızda neler yapmamız gerektiğini bilmeliyiz. Karşılaştığımız sorunları çözerken haklarımız ve sorumluluklarımız doğrultusunda hukuka uygun hareket etmeliyiz.

Verilen bilgidен hareketle sorunlarımızı çözerken,

- I. Yetkili kurumlara başvurarak sorunun çözümünü talep etmek
 II. Haklarımızı diğer insanların haklarından üstün tutmak
 III. Toplumsal sınıf ayrımını genişletecek adımlar atmak

yöntemlerinden hangisi ya da hangilerini kullanmamız hukuka uygun hareket ettiğimizi gösterir?

- A) Yalnız I B) I ve III C) II ve III D) I, II ve III

Nasıl Geçti?



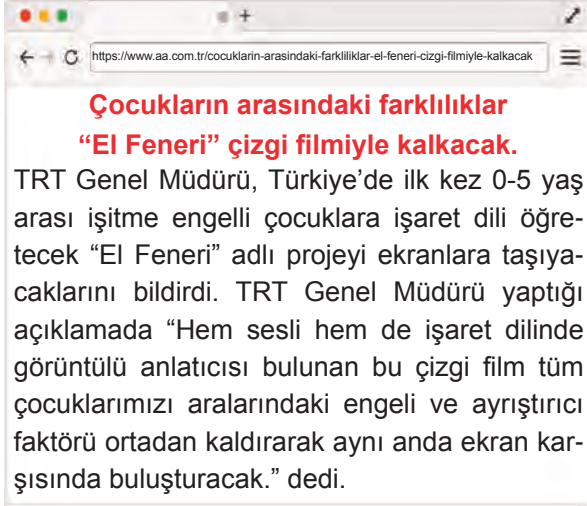
Doğru



Boş



1.



Çocukların arasındaki farklılıklar “El Feneri” çizgi filmiyle kalkacak.
TRT Genel Müdürü, Türkiye’de ilk kez 0-5 yaş arası işitme engelli çocuklara işaret dili öğretecek “El Feneri” adlı projeyi ekranlara taşıyacaklarını bildirdi. TRT Genel Müdürü yaptığı açıklamada “Hem sesli hem de işaret dilinde görüntülü anlatıcısı bulunan bu çizgi film tüm çocuklarımızı aralarındaki engeli ve ayrıştırıcı faktörü ortadan kaldırarak aynı anda ekran karşısında buluşturacak.” dedi.

Buna göre “El Feneri” çizgi filminin hangisine yönelik hazırlandığı söylenebilir?

- A) Bireyselliği ön plana çıkarmak
B) Farklılıkları görmezden gelmek
C) Özel gereksinimli bireylere karşı toplumdaki ön yargıları ortadan kaldırmak
D) Toplumsal ayrışmayı artırmak

2.



TÜRKİYE ELAZIĞ İÇİN SEFERBER OLDU
Elazığ ve Malatya’da iyileştirme çalışmaları devam ediyor.

Milletimizin yoğun ilgisi ile devam eden Elazığ ve Malatya Yardım Kampanyası kapsamında, banka hesaplarında 55.747.608 TL, SMS sisteminde 27.811.820 TL olmak üzere toplam 83.559.428 TL yardım toplamıştır.

Genel ağ haberinde Türk milletinin aşağıdaki anlayışlardan hangisine sahip olduğu vurgulanmamıştır?

- A) Birlik ve beraberlik
B) Yardımlaşma ve dayanışma
C) Özveri ve fedakârlık
D) Adalet ve barışseverlik

3.

Düğün, sünnet vb. sevinçli günlerimiz ya da hastalık, ölüm vb. hüzünlü günlerimiz, İslami motifler taşıyan geleneklerle doludur. Çevremizde bulunan yardıma muhtaç kişilere yardım etmek ve destek olmak, inancımız gereği yaptığımız görevlerdir. Örnek olarak, zekât toplumdaki sosyal yardımlaşma ve dayanışmaya güzel bir örnektir.

Bu parçada millî birlik ve beraberliğimizi güçlendiren unsurlardan hangisi hakkında bilgi verilmiştir?

- A) Din
B) Tarih
C) Dil
D) Sanat

4.

Sosyal yardımlaşma ve dayanışma maddi yardımlarla yapılabileceği gibi manevi destekle de yapılabilir.

Aşağıdakilerden hangisi manevi desteklere örnek olarak verilebilir?

- A) Aşure gününde aşureleri dağıtmak
B) Komşularımızın iyi ve kötü günlerinde yanında olmak
C) İhtiyaç sahibi öğrencilere burs vermek
D) Düğünlerde düğün sahibine hediye vermek

5.

1990’da Öner ailesinin ikinci çocuğu olarak dünyaya gelen Şerife; ilkökul, ortaokul, lise ve üniversite eğitimini başarıyla tamamlamıştır. 2015 yılında Erzurum’un Yakutiye ilçesindeki Atatürk Ortaokuluna Sosyal Bilgiler öğretmeni olarak atanmıştır. Hâlen bu görevini başarıyla sürdürmektedir.

Bu bilgilere göre Şerife Hanım ile ilgili aşağıdakilerden hangisine ulaşılamaz?

- A) Zamanla rollerinde değişim yaşanmıştır.
B) Öğrenci rolü yıllar içinde son bulmuştur.
C) Bazı rollerine doğuştan sahip olmuştur.
D) Mesleki rolünün başlamasıyla doğuştan kazandığı rolü sona ermiştir.

6.

Çöpü yere atma-
malısın, apartma-
nımızın çevresi
kirleniyor.

Apartmanımızın bahçesin-
de özgürce hareket edebi-
lirim. Üstelik bahçeye çöp
tenekesi de konulmamış.



Çöp tenekesinin olmaması
çöpü yere atmanı gerektir-
mez. Özgürsün ama sorum-
luluklarını da unutmamalısın.

Haklısın Ayşe,
özür dilerim. Ha-
tamı hemen telafi
ediyorum.

**Bu konuşmaya göre Ayşe ile ilgili aşağıdaki-
lerden hangisi söylenebilir?**

- A) Karşılaştığı soruna duyarsız kalmamıştır.
- B) Sorunun çözümü için insanların özgürlüğünü kısıtlamıştır.
- C) Karşılaştığı sorunu görmezden gelmiştir.
- D) Sorunu çözerken bireysel çıkarlarını göz önünde tutmuştur.

7. Darülaceze, 1895 yılında Sultan II. Abdülhamit Han tarafından kurulmuştur. Darülaceze din, dil, ırk, cinsiyet ve mezhep farkı gözetmeksizin muhtaç insanlara hizmet veren bir hayır kurumudur. Darülaceze’de barınan sakinlerin giyinme, barınma, gıda, sağlık ve bakım gibi tüm ihtiyaçları kurum tarafından karşılanmaktadır.

Bu bilgilerden Darülaceze ile ilgili,

- I. Kurucusunun kim olduğu
- II. Hangi amaçla kurulduğu
- III. İnsanların hangi eksikliklerine çözüm bulduğu
- IV. Giderlerini nasıl karşıladığı

sorularından hangilerinin cevabına ulaşılabilir?

- A) I ve III
- B) I, II ve III
- C) II, III ve IV
- D) I, II ve IV

8. Farklılıklarımız birbirimizi tamamlayan zenginliklerimizdir. Bu zenginliği korumanın yolu ön yargı, kalıp yargı ve ayrımcılığa karşı çıkıp farklılıklara saygı göstermektir. Farklılıklarımız kırdaki rengârenk çiçekler gibi düşünülmeli, bir bütün hâlinde daha güzel olduğumuz unutulmamalıdır.

Verilen bilgiye göre ön yargıya karşı alınabilecek önlemler arasında aşağıdakilerden hangisi yer almaz?

- A) Karşılıklı saygı ve hoşgörü anlayışı oluşturulmalıdır.
- B) Empati anlayışı geliştirilmelidir.
- C) İnsanlar görünüşleriyle değerlendirilmelidir.
- D) Toplumsal birlikteliğe önem verilmelidir.

9. Bilgeye “Bu dünyada en çok kimi seversiniz?” diye sorarlar. O da “Terzimi.” diye cevap verir. “Neden?” denince bilgenin cevabı, “Her gittiğimde ölçümünü yeniden alır ve beni öyle değerlendirir. Diğer insanlar ise ilk kez gördüklerinde bir kez karar verirler ve beni her zaman öyle değerlendirirler.” olur.

Metne göre terziyi diğer insanlardan ayıran davranış biçimi aşağıdakilerden hangisidir?

- A) Menfaatlerini her şeyden üstün tutması
- B) İnsanlara karşı ön yargılı olmaması
- C) İnsanlarla ilişkilerini belli bir düzeyde tutması
- D) İnsanları dış görünüşleriyle değerlendirmesi

10. Sercan Bey, elektronik eşya satan bir mağazadan cep telefonu satın almıştır. Eve geldiğinde cep telefonunun bazı özelliklerinin çalışmadığını fark etmiştir. Sercan Bey, ürünü değiştirmek için satın aldığı mağazaya gitmiştir. Mağaza yetkilileri Sercan Bey’e yardımcı olmuşlar ve hatalı ürünü yeni bir cep telefonu ile değiştirmişlerdir.

Buna göre Sercan Bey ile ilgili aşağıdakilerden hangisi söylenemez?

- A) Bilinçli bir tüketicidir.
- B) Karşılaştığı sorunu hak, sorumluluk ve özgürlükler çerçevesinde çözmüştür.
- C) Haklarını yasal yollardan aramıştır.
- D) Yaşadığı sorun karşısında tepkisiz kalmıştır.

Nasıl Geçti? 😞 😐 😊 Doğru Yanlış Boş Net

1.



İtalyan sanatçı ve bilim insanı: Da Vinci

Leonardo da Vinci, en çok ressam kimliğiyle tanınsa da aynı zamanda astronom, matematikçi, heykeltıraş, filozof, mimar, mühendis ve bilim insanı olarak yaptığı çalışmalarla biliniyor.

Leonardo da Vinci

İtalya'nın Floransa kenti yakınlarındaki Anchiano köyünde 15 Nisan 1452'de dünyaya geldi. 2 Mayıs 1519'da Fransa'da hayatını kaybetti. En önemli eserleri Mona Lisa, Son Akşam Yemeği, Beşaret adlı tablolarıdır.

Görsele göre Leonardo da Vinci ile ilgili aşağıdakilerden hangisi söylenemez?

- A) Hayatı boyunca farklı roller üstlenmiştir.
 B) En sevdiği rolü ressamlık olmuştur.
 C) Bazı rolleri özel yetenek ve beceri gerektirmektedir.
 D) İsteğe bağlı olarak birden fazla rol edinmiştir.

2.

İNGİLTERE'DE İSLAMOFOBİ ARTIYOR

İngiltere'de, Yeni Zelanda'daki iki camiyi hedef alan terör saldırısının ardından camilere saldırı ve Müslümanlara yönelik şiddet eylemleri gibi çok sayıda İslamofobik olay kayda geçti.

15 MART 2019 YENİ ZELANDA

Yeni Zelanda'daki terör eylemlerinin ardından **İNGİLTERE'DE İSLAMOFOBİK OLAYLAR %593 ARTTI.**

15 Mart-21 Mart arasında İngiltere'de 95 İslamofobik olay kayda geçti.

85'inde doğrudan terör eylemine atıfta bulunularak Müslümanlar tehdit edildi.

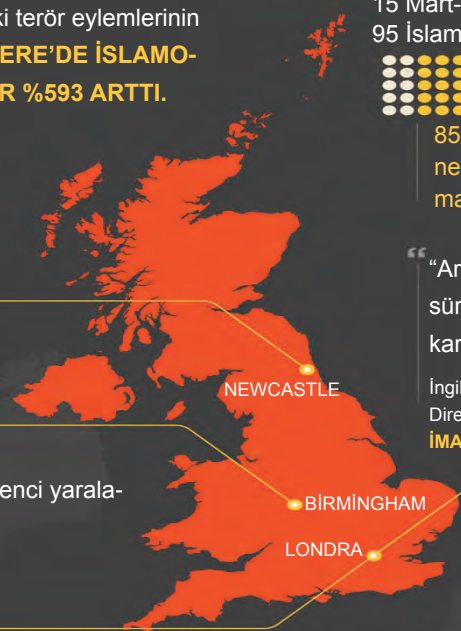
25 MART
Newcastle kentinde İslami eğitim veren bir okul saldırıya uğradı.

21-23 MART
Birmingham'da altı camiye saldırı düzenlendi.

16 MART
Londra'da bir kişi, 19 yaşındaki bir genci yaralayıp kaçtı.

16 MART
Londra'da bir cami yakınında iki kişi, cemaatten bir kişiyi yaralayıp kaçtı.

“Artık Müslümanlara odaklanan sürekli bir nefret ideolojisi ile karşı karşıya olduğumuz açık.”
 İngiliz sivil toplum kuruluşu Tell Mama'nın Direktörü
İMAN ATTA



Buna göre İngiltere'de yaşanan bu olaylarla aşağıdakilerden hangisi arasında daha çok ilişki kurulabilir?

- A) Cinsiyet ayrımcılığı B) İnanç ayrımcılığı C) Dil ayrımcılığı D) İrk ayrımcılığı

3.

TÜRK KIZILAYI ELAZIĞ DEPREMİNDEN SONRA KRİZ MASASI OLUŞTURDU

Malatya'da 5 spor tesisi, 15 okul, 2 kütüphane, 7 pansiyon ve tüm kamu misafirhaneleri depremden etkilenen vatandaşların hizmetine açıldı.

DEPREM NEDENİYLE BÖLGEYE MOBİL BAZ İSTASYONLARI SEVK EDİLDİ.

Türkiye Jokey Kulübü, Elazığ'daki hipodromu halkın hizmetine açtığını duyurdu.

Elazığ ve Malatya'daki KYK yurtları, gençlik merkezleri ve spor salonları vatandaşların hizmetine açıldı.

Diyanet İşleri Başkanlığı, Elazığ ve Malatya'da vatandaşların, görevliler rehberliğinde uygun olan camilerde geceyi geçirebileceğini duyurdu.

AFAD

1689 ÇADIR

1656 YATAK

9200 BATTANIYE

493 ARAMA KURTARMA PERSONELİ SEVK ETTİ.



31 PERSONEL

6 İKRAM ARACI

5 ÖNCÜ HABERLEŞME ARACI

3 MOBİL MUTFAK TIRI SEVK ETTİ.



Verilen görsele göre Elazığ depremi sonrası,

- I. Depremzedeler için uluslararası yardım çağrısında bulunulmuştur.
II. İletişim sorununu çözmek amacıyla çalışmalar yapılmıştır.
III. Halkın barınma ve beslenme ihtiyacı için tedbir alınmıştır.

yargılarından hangisi ya da hangilerine ulaşılabilir?

- A) Yalnız I B) I ve III C) II ve III D) I, II ve III

4.



Girmeden ayrılık bir millete düşman giremez.
Toplu vurdukça yürekler, onu top sindiremez.

Mehmet Akif ERSOY

Türklüğün vicdanı bir,
Dini bir, vatani bir,
Fakat hepsi ayrılır
Olmazsa lisanı bir.

Ziya GÖKALP



Verilen bu şiirlerde ortak olarak vurgulanan konu aşağıdakilerden hangisidir?

- A) Düşmanlara karşı önlem alınması B) Dinî değerlere sahip çıkılması
C) Millî kültürün gelecek nesillere aktarılması D) Millî birlik ve beraberliğin sağlanması

5. Kişi toplumda kendi hakkını savunabilmeli ve özgürce hareket edebilmelidir. Ancak başkalarının haklarını ve özgürlüklerini dikkate alarak sorumlu davranmalıdır.

Bu bilgiden hareketle 6. sınıf öğrencisi Aslı'nın aşağıdaki davranışlardan hangisini sergilemesi sorumlu bir birey olduğunu göstermez?

- A) Bireysel çıkarlarını ön plana alarak sorunları çözmeye çalışması
B) Dilekçe yazarak yetkili kurumlara sorununu iletmesi
C) Karşılaştığı sorunlarda bakanlık hatlarını arayarak yardım istemesi
D) Yaşadığı soruna yasal yollardan çözüm araması